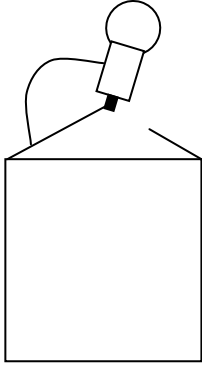
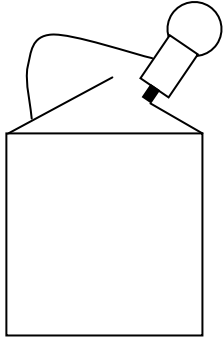
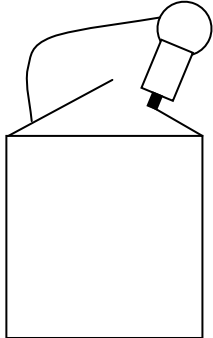
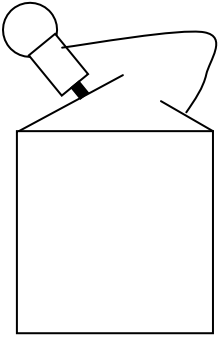


### Fiche 3 : Une pile plate, une ampoule, un fil

Prénom : \_\_\_\_\_

Savoir lire un schéma. Savoir repérer les contacts d'une ampoule et d'une pile.  
Réalise les montages suivants et réponds aux questions.

<p>1</p> 	<p>L'ampoule brille-t-elle ?</p>
<p>2</p> 	<p>L'ampoule brille-t-elle ?</p>
<p>3</p> 	<p>L'ampoule brille-t-elle ?</p>
<p>4</p> 	<p>L'ampoule brille-t-elle ?</p>