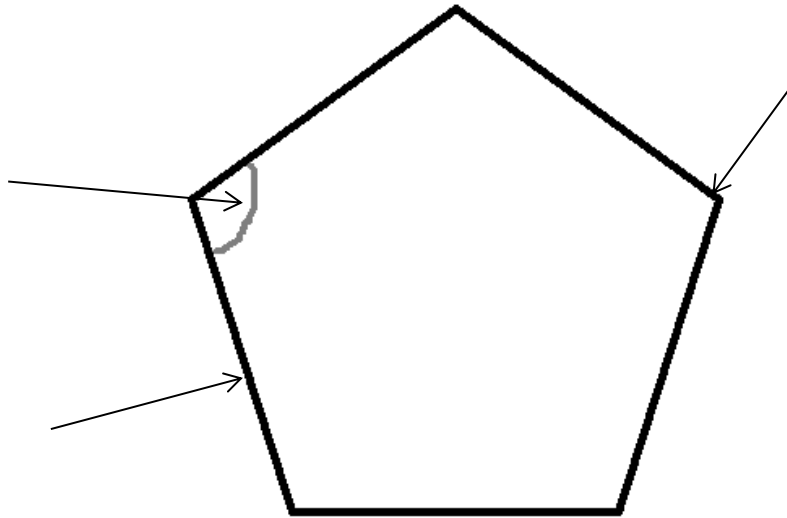
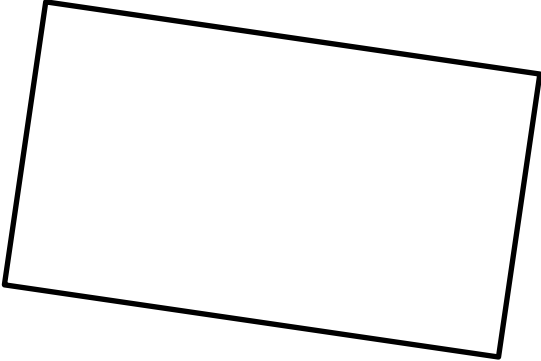

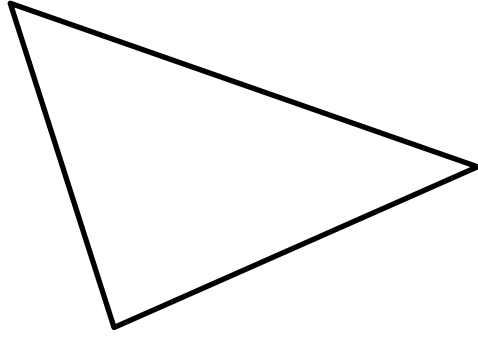



# LES FIGURES GEOMETRIQUES

Une figure géométrique est un polygone si :

- 1) Elle est fermée.
- 2) Ses côtés sont tous droits, tracés à la règle.



<p>Je suis un polygone qui possède</p> <p>3 côtés</p> <p>3 sommets</p>	<p>Je suis un polygone qui possède</p> <p>2 longueurs égales</p> <p>2 largeurs égales</p> <p>4 angles droits</p>
<p>Je suis un polygone qui possède</p> <p>4 côtés égaux</p> <p>4 angles droits</p>	<p>Je ne suis pas un polygone. Je possède un centre et un rayon. On me trace au compas.</p>

<p><b>JE SUIS LE CARRE</b></p>	<p><b>JE SUIS LE RECTANGLE</b></p>
<p><b>JE SUIS LE TRIANGLE</b></p>	<p><b>JE SUIS LE CERCLE</b></p>

côté		sommet		angle	
------	--	--------	--	-------	--

