

# Défi calcul mental n°2






**Compétence travaillée** : Additionner deux nombres à 1 chiffre (<10).

...../ 30 points

1/ Ecris seulement le résultat.


2/ Problème : .....

3/ Calcule le plus rapidement possible.

<input type="checkbox"/>		<input type="checkbox"/>		<input type="checkbox"/>	
--------------------------	---	--------------------------	---	--------------------------	---

$6 + 7 = \dots\dots$        $9 + 5 = \dots\dots$        $8 + 7 = \dots\dots$        $4 + 9 = \dots\dots$        $8 + 5 = \dots\dots$

$6 + 6 = \dots\dots$        $9 + 9 = \dots\dots$        $8 + 8 = \dots\dots$        $3 + 5 = \dots\dots$        $6 + 8 = \dots\dots$

© Les trouvailles de Karinette

# Défi calcul mental n°2





**Compétence travaillée** : Additionner deux nombres à 1 chiffre (<10).

...../ 30 points

1/ Ecris seulement le résultat.


2/ Problème : .....

3/ Calcule le plus rapidement possible.

<input type="checkbox"/>		<input type="checkbox"/>		<input type="checkbox"/>	
--------------------------	---	--------------------------	---	--------------------------	---

$6 + 7 = \dots\dots$        $9 + 5 = \dots\dots$        $8 + 7 = \dots\dots$        $4 + 9 = \dots\dots$        $8 + 5 = \dots\dots$

$6 + 6 = \dots\dots$        $9 + 9 = \dots\dots$        $8 + 8 = \dots\dots$        $3 + 5 = \dots\dots$        $6 + 8 = \dots\dots$

© Les trouvailles de Karinette