

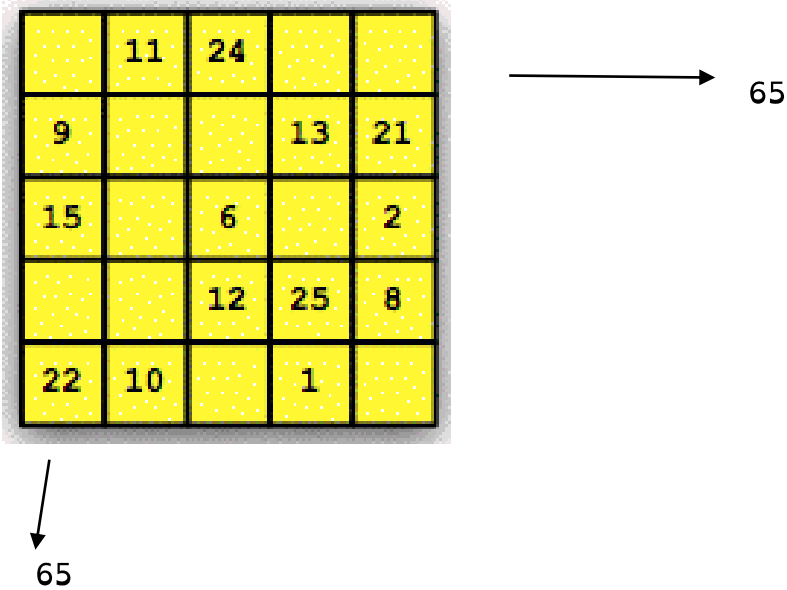
# DEFI MATHS

**SCORE**  
... / 90

**MON EQUIPE :** .....


## DEFI N°1 : CARRE MAGIQUE INCOMPLET... .... / 33 PTS

Dans ce carré magique, on a placé des nombres de 1 à 25 de sorte que la somme des nombres de chaque ligne et de chaque colonne fasse 65. Certains nombres ont été effacés, tu dois les retrouver !




## DEFI N°2 : 7 CHIENS SUR UNE BALANCE .... / 21 PTS

Peux-tu ranger ces 7 chiens du plus léger au plus lourd ?




- N°.....
- N°.....
- N°.....
- N°.....
- N°.....
- N°.....
- N°.....



## DEFI N°3 : AU RESTAURANT

.... / 30 PTS

Voici le prix de quelques plats qui ont été relevés dans un restaurant.

<u>Entrées :</u> Crudités : 3 € Assiette de charcuterie : 6 €	<u>Plats chauds :</u> Bifteck/Frites : 7 € Pâtes carbonara : 5 € Couscous poulet : 8 €	<u>Desserts :</u> Part de tarte : 2 € Glace 3 boules : 3 € Nougat glacé : 3 €
<u>Boissons :</u> Vin rouge Bordeaux : 9 € Vin rouge Beaujolais : 8 € Vin rouge Bourgogne : 10 € Eau minérale : 3 €		

▫ Question 1 : Combien devra payer un client qui commande :

- une assiette de crudités
- un couscous poulet
- une part de tarte
- une bouteille de vin rouge de Bourgogne

Réponse : .....

▫ Question 2 : Que faut-il commander pour faire un repas à 17€ ?

Réponse : Il faut commander :

- .....
- .....
- .....
- .....
- .....

POINTS DE RAPIDITE

.... / 6 PTS