



Les espaces français

Des climats variés

La France a un climat tempéré, il ne présente pas de températures extrêmes. La France se caractérise par quatre saisons distinctes marquées par des changements de températures et de précipitations.

La France est soumise à 3 grandes influences climatiques : océanique, méditerranéenne et continentale.

La France se découpe en 4 climats différents :

- Le climat océanique (et semi-océanique) est doux et humide et favorise la pousse de la végétation. Il couvre les deux tiers du territoire ouvert sur l'océan atlantique.
- Le climat méditerranéen se caractérise par un fort ensoleillement et des étés chauds et secs.
- Le climat continental à l'est présente des hivers froids.
- Le climat montagnard est lié aux hautes altitudes et présente un fort enneigement en hiver.

Lis le texte et réponds :

1 Combien y a-t-il d'influences climatiques en France ? Lesquelles ?

2 Comment est le climat en France ? Pourquoi ?

3 Comment sont les saisons en France ?

4 Comment se caractérise le climat méditerranéen ?



Vrai ou faux ?

a) Le climat continental se situe au sud.

b) Il existe 5 influences climatiques en France.

c) Le climat méditerranéen présente des étés chauds et secs.

d) Les saisons en France sont très identiques.

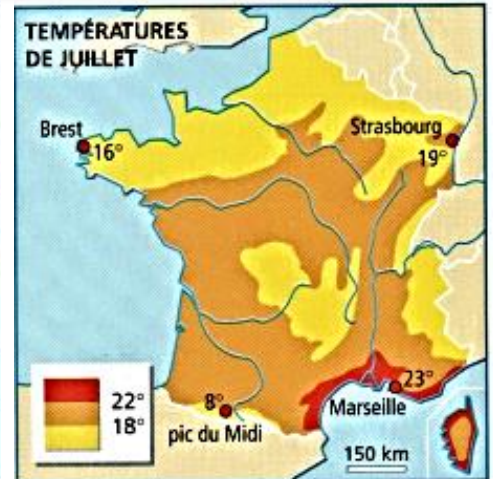
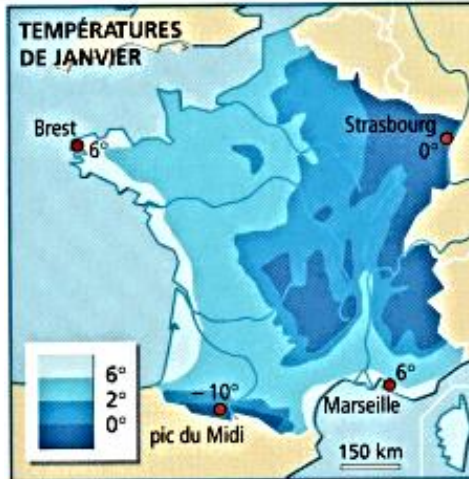
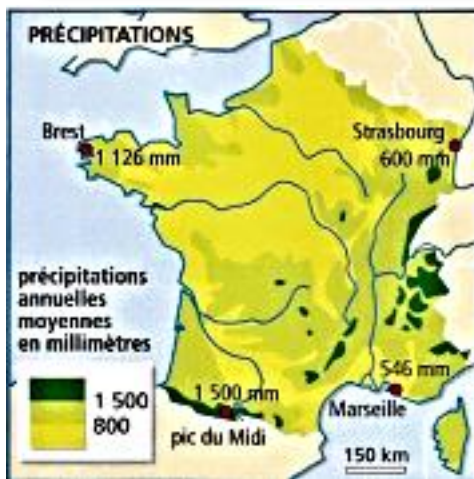


Les espaces français

Températures et précipitations

Les températures et les niveaux de précipitations sont très inégaux et variés selon les régions de France.

- La France du sud est beaucoup plus chaude et plus ensoleillée que la France du nord.
- L'air venant de l'océan adoucit les températures hivernales le long de la côte atlantique alors que dans l'est les hivers peuvent être rigoureux et très froids.
- Les pluies sont beaucoup plus fortes sur les reliefs que dans les plaines.
- Le sud se distingue à nouveau du reste de la France par la durée des précipitations. On compte moins de 100 jours de pluie dans le Midi Méditerranéen contre environ 180 jours de pluie par an dans le reste de la France.



Observe les cartes, complète le tableau et réponds :

Stations	Températures			Précipitations	Climats
	Janvier	Juillet	Ecart		
Brest					
Strasbourg					
Marseille					
Pic du Midi					

- Quelle station a la plus forte hauteur de pluie ? _____
- Quelle station représente le plus faible écart de température ? _____
- Quelle station a les températures les plus élevées ? _____
- Quelle station a la plus faible hauteur de pluie ? _____
- Relie chaque ville à son climat :

- | | | |
|------------|---|------------------------|
| Nice | • | • Climat océanique |
| Brest | • | • Climat continental |
| Strasbourg | • | • Climat méditerranéen |

