

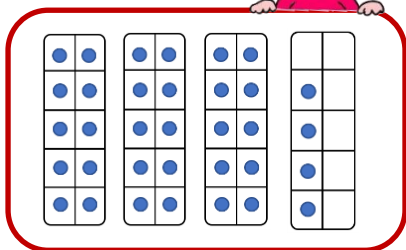
N 21 Comparer des grands nombres



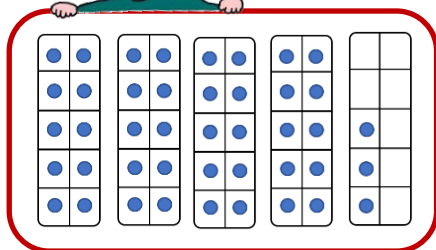
Pour comparer deux nombres, j'utilise les signes :

< et >

3 dizaines et 4,
il y a 34 points.



4 groupes de 10 et 3,
il y a 43 points.



Le plus petit nombre est celui qui a le moins de dizaines.

Le plus petit nombre arrive en premier sur la file numérique.

33 34 35 36 37 38 39 40 41 42 43 44

34 est plus petit que 43 → $34 < 43$

43 est plus grand que 34 → $43 > 34$


N 21 Comparer des grands nombres



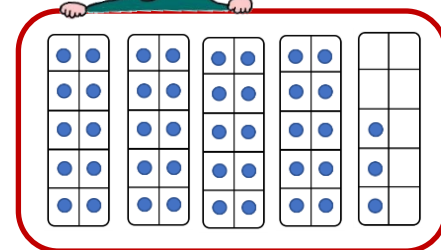
Pour comparer deux nombres, j'utilise les signes :

< et >

3 dizaines et 4,
il y a 34 points.



4 groupes de 10 et 3,
il y a 43 points.



Le plus petit nombre est celui qui a le moins de dizaines.

Le plus petit nombre arrive en premier sur la file numérique.

33 34 35 36 37 38 39 40 41 42 43 44

34 est plus petit que 43 → $34 < 43$

43 est plus grand que 34 → $43 > 34$