

1. Calcul mental :  déplacement sur la file numérique.



__	__	__	__	__
----	----	----	----	----


2. Comparer des nombres « plus que », « moins que »:




Relie pour comparer.



Ecris le nombre d'animaux présents dans chaque enclos.



A



B



Complète les phrases.

\_\_\_ est plus petit que \_\_\_

\_\_\_ est plus grand que \_\_\_

Il y a \_\_\_ abeilles.

Il y a \_\_\_ lapins.

3. Décomposer le nombre 7 :




Complète la maison du 7.

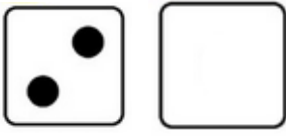



7	
0 + 7	7 + _
1 + 6	6 + _
2 + 5	5 + _
3 + 4	4 + _




4. Dessine et complète les calculs pour faire 7

$$3 + \_ = 7$$


$$2 + \_ = 7$$


$$5 + \_ = 7$$


$$4 + \_ = 7$$

5. J'écris le nombre 0.

