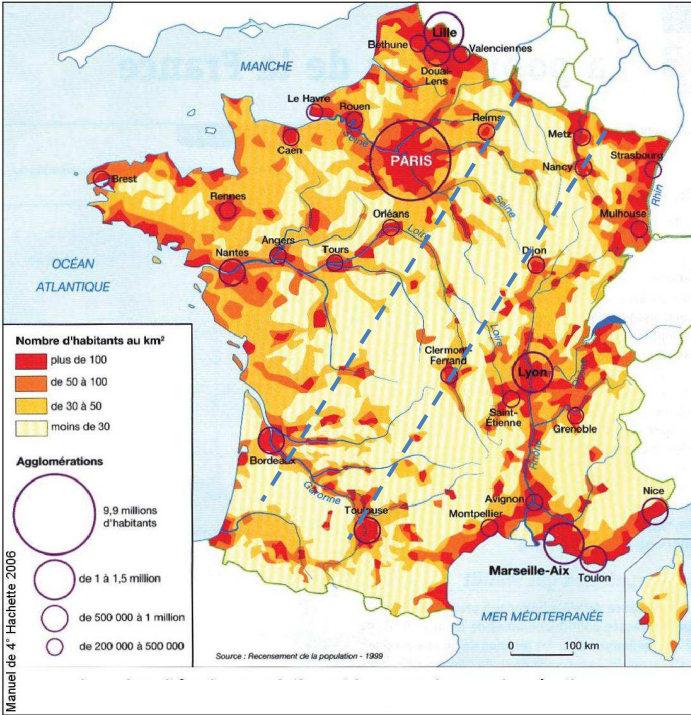


Nom :	<h1>Evaluation Géographie</h1>	Date :
Prénom :		Classe :
P2.C5.3 Connaître les principaux caractères géographiques physiques et humains de la France		
P3.C5.1 Avoir des connaissances et des repères relevant de l'espace		



1. Que représente le code couleur ? / 1

2. Qu'est-ce qu'une agglomération ? / 1

3. Quelles sont les 4 plus grandes agglomérations de France ? / 1

4. Quelles sont les zones les plus peuplées ? / 1,5

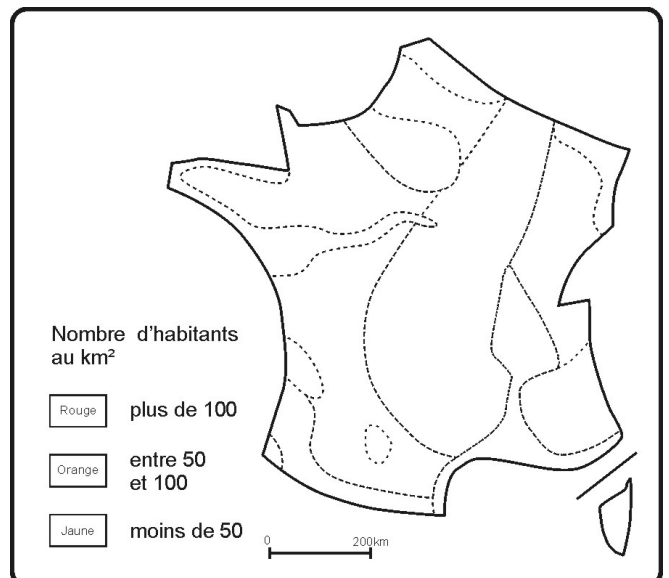
- Le long des ...
- Le long des ...
- Le long des ...

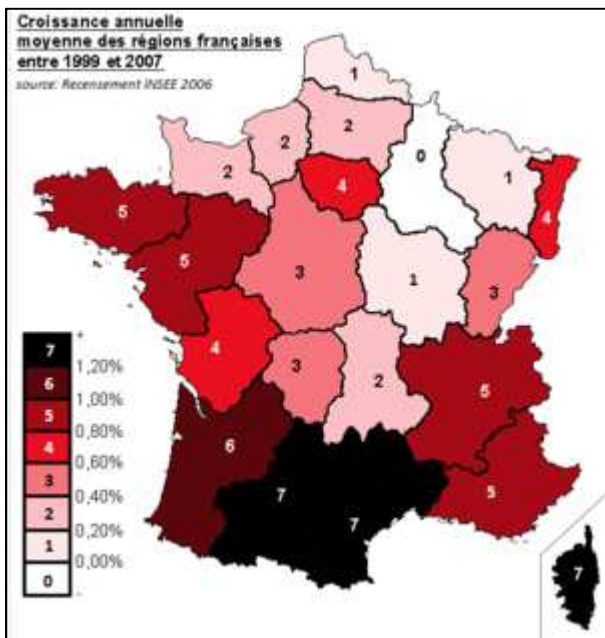
5. Que représente la zone entre pointillés au centre de la carte ? / 1

6. La Corse est-elle très peuplée ? Pourquoi ? / 1

7. A partir de cette carte, complète ce schéma →

/ 3





9. Quelles sont les zones du pays où la population augmente le plus ? / 1

10. Comment la population d'une région peut-elle augmenter ? (deux possibilités) / 2

- 
- 

11. Comment appelle-t-on les régions où les gens ont envie d'habiter ? / 0,5

Ce sont des régions ...

12. Complète la légende de la carte ci-dessous. / 6

13. Qu'est ce que le solde naturel d'une population ? / 1

