

# La production des déchets par l'homme

1<sup>re</sup> ÉDITION DES INITIATIVES OCÉANES  
**NE LAISSEZ PAS LA POLLUTION S'INSTALLER.**  
PARTICIPEZ AU NETTOYAGE DES PLAGES LES 17, 18 & 19 MARS.  
WWW.SURFRIDER.FR

AIDEZ-NOUS À GARDER LA MER PROPRE

Surfrider Foundation EUROPE

Logo de la Région PACA  
Logo du Conseil Général Alpes-Maritimes  
Logo du Conseil Général Alpes de Haute Provence  
Logo du Conseil Général Alpes Cote d'Azur  
Logo du Conseil Général Alpes du Nord  
Logo du Conseil Général Alpes du Sud  
Logo du Conseil Général Savoie  
Logo du Conseil Général Savoie Mont Blanc  
Logo EuroSIVIA  
Logo Lyonnaise des Eaux  
Logo Liza  
Logo Ademe  
Logo HITMURRIGNO-LYT

Doc. 1 Affiche d'une campagne d'information pour la réduction des déchets sur les plages.

À qui s'adresse cette affiche ?

.....

De quels déchets s'agit-il ?

.....

Quelle est l'information principale communiquée ?

.....

Par quels moyens le message est-il souligné ?

.....

Que demande-t-on aux lecteurs de l'affiche ? Pourquoi ?

.....

# La production des déchets par l'homme

1<sup>re</sup> ÉDITION DES INITIATIVES OCÉANES  
**NE LAISSEZ PAS LA POLLUTION S'INSTALLER.**  
PARTICIPEZ AU NETTOYAGE DES PLAGES LES 17, 18 & 19 MARS.  
WWW.SURFRIDER.FR

AIDEZ-NOUS À GARDER LA MER PROPRE

Surfrider Foundation EUROPE

Logo de la Région PACA  
Logo du Conseil Général Alpes-Maritimes  
Logo EuroSIVIA  
Logo Yonnaise des Eaux  
Logo Liza  
Logo ADENE  
Logo NPI  
Logo Hitmurbiconly

Doc. 1 Affiche d'une campagne d'information pour la réduction des déchets sur les plages.

À qui s'adresse cette affiche ?

**Aux vacanciers des bords de mer pour les inciter à ne pas polluer les plages par leurs débris.**

De quels déchets s'agit-il ?

**Des emballages alimentaires, des articles de plage abîmés...**

Quelle est l'information principale communiquée ?

**La pollution des plages, due à la négligence des vacanciers, altère la qualité des paysages littoraux et a des conséquences environnementales.**

Par quels moyens le message est-il souligné ?

**Des déchets trouvés sur la plage sont disposés de manière à faire penser à une personne en train de se reposer sur le sable.**

Que demande-t-on aux lecteurs de l'affiche ? Pourquoi ?

**Agir en participant au nettoyage des plages afin de garder la mer propre.**

## La production des déchets par l'homme

---

Certaines associations proposent de nettoyer des espaces naturels en ramassant les débris, car il faut éviter de polluer ces endroits.

# La production des déchets par l'homme



Doc. 2 Le ramassage des déchets à Paris (Île-de-France).

Comment appelle-t-on ce type de camion ?

.....

Comment s'appellent ces personnes qui travaillent ?

.....

Où emmènent-ils le contenu du camion ?

.....

Combien de déchets une famille produisait-elle (par personne par an) :

En 1960 : ..... En 1980 : .....

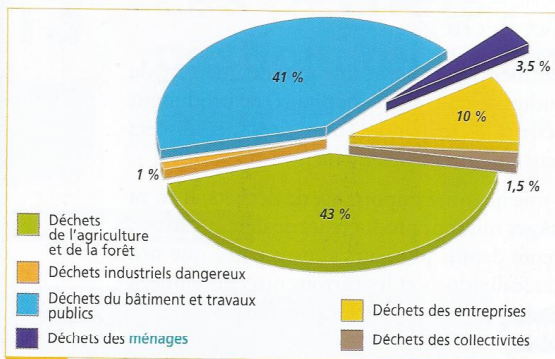
Entre 2005 et 2010, de combien de kg les ordures ont-elles augmenté ? Pourquoi ?

.....

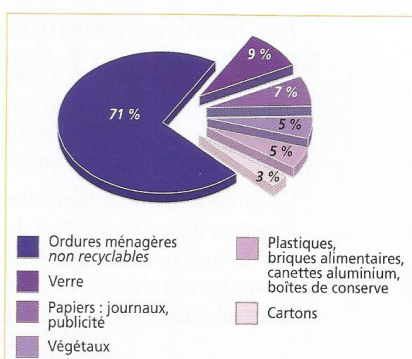
.....



Doc. 3 Évolution de la quantité d'ordures ménagères (source ADEME).



Doc. 4 Répartition des déchets par secteur (d'après source ADEME).



Doc. 5 Répartition des déchets des ménages (d'après source ADEME).

Quels sont les 2 secteurs qui produisent le plus de déchets ?

.....

.....

De quoi sont constitués les déchets des ménages ?

.....

.....

.....

Que font les hommes qui conduisent les engins ?

Pourquoi ?

.....

.....

.....

De quels déchets s'agit-il ?

.....



Doc. 6 Démolition d'un immeuble à Quimper, dans le Finistère (Bretagne).

# La production des déchets par l'homme



Doc. 2 Le ramassage des déchets à Paris (Île-de-France).

Comment appelle-t-on ce type de camion ?

**C'est un camion poubelle.**

Comment s'appellent ces personnes qui travaillent ?

**Les éboueurs.**

Où emmènent-ils le contenu du camion ?

**Soit dans un centre d'enfouissement, soit dans un incinérateur.**



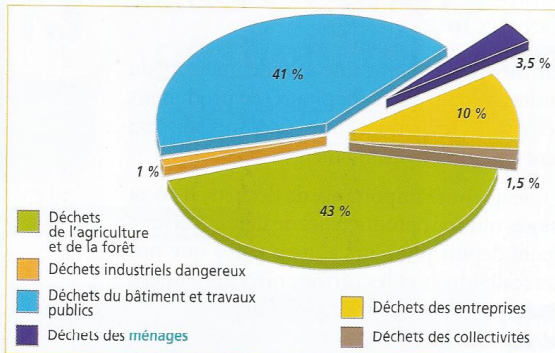
Doc. 3 Évolution de la quantité d'ordures ménagères (source ADEME).

Combien de déchets une famille produisait-elle (par personne par an) :

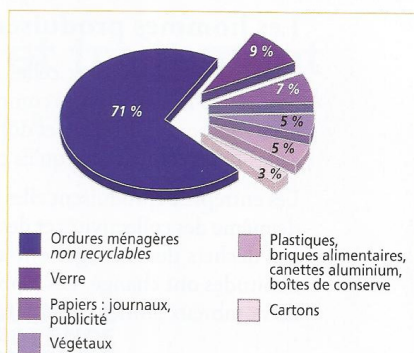
En 1960 : **175 kg** En 1980 : **240 kg**

Entre 2005 et 2010, de combien de kg les ordures ont-elles augmenté ? Pourquoi ?

**D'environ 40 kg par an par habitant, à cause de produits individualisés, d'où une augmentation des emballages.**



Doc. 4 Répartition des déchets par secteur (d'après source ADEME).



Doc. 5 Répartition des déchets des ménages (d'après source ADEME).

Quels sont les 2 secteurs qui produisent le plus de déchets ?

**L'agriculture et les BTP.**

De quoi sont constitués les déchets des ménages ?

**D'ordures ménagères non recyclables, et de verre, papier... recyclables.**

Que font les hommes qui conduisent les engins ?

Pourquoi ?

**Ils démolissent un immeuble, pour créer d'autres constructions.**

De quels déchets s'agit-il ?

**Des déchets du BTP**



Doc. 6 Démolition d'un immeuble à Quimper, dans le Finistère (Bretagne).

## La production des déchets par l'homme (suite)

---

Les hommes produisent des déchets. Les principaux déchets sont ceux de l'agriculture, des bâtiments et travaux publics, et ceux des entreprises.

Nos déchets polluent notre environnement. Le traitement et le transport coûtent cher. Il est donc nécessaire d'être tous vigilants pour réduire nos déchets.