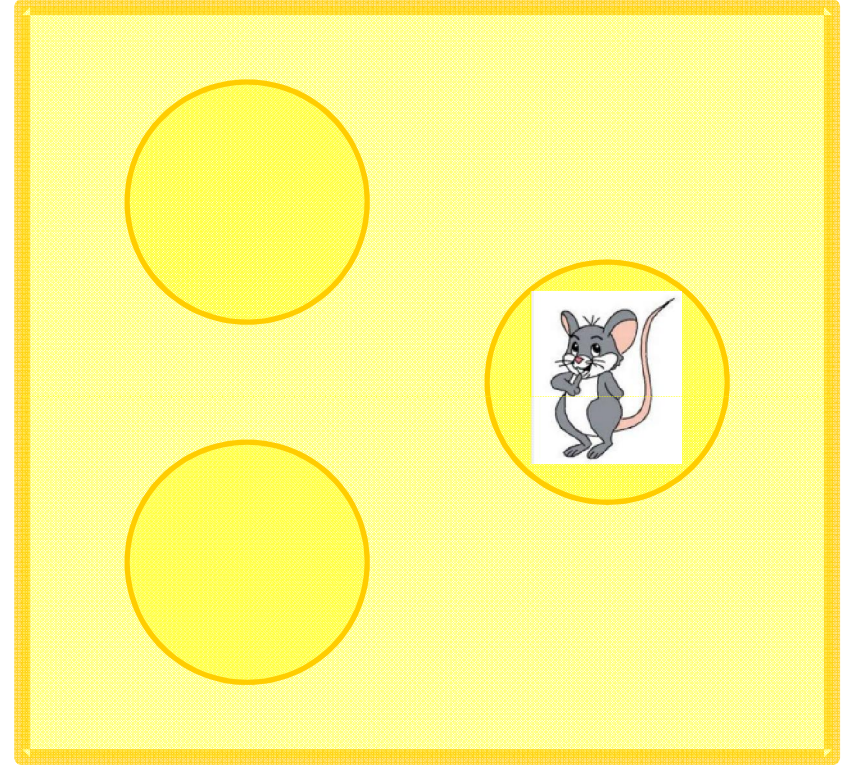



Dans cette image, il y a 3 souris.



Dans cette image, il y a 3 souris.



Dans cette image, il y a 4 pingouins.



Dans cette image, il y a 4 pingouins.






Dans cette image, il y a 5 grenouilles.





Dans cette image, il y a 5 grenouilles.



Dans cette image, il y a 6 araignées.



Dans cette image, il y a 6 araignées.



Dans cette image, il y a 7 oiseaux.



Dans cette image, il y a 7 oiseaux.



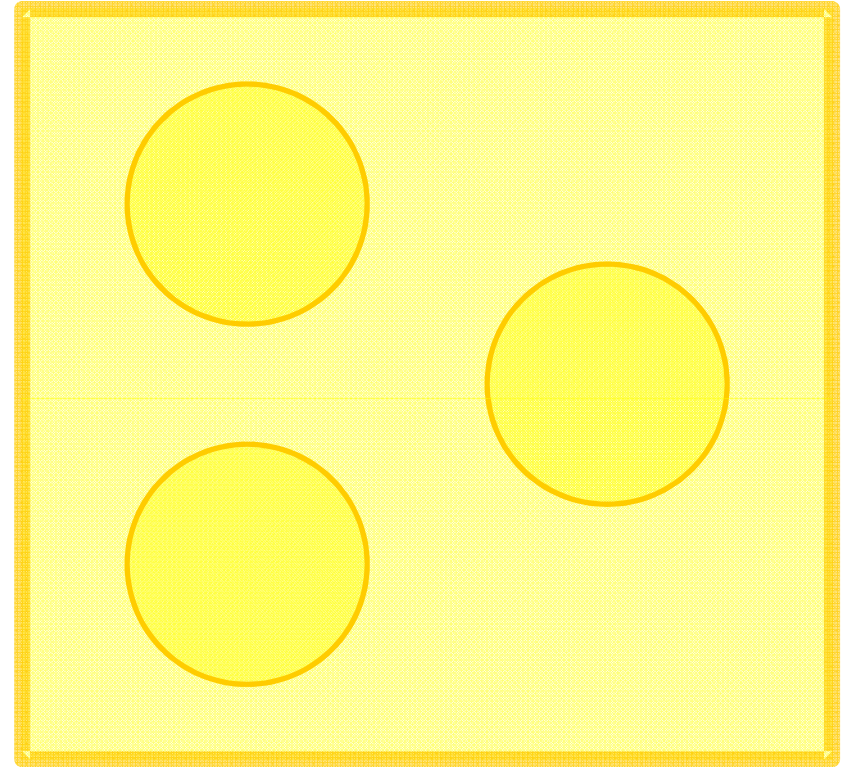
3 souris

Combien en manque-t-il ?



3 souris

Combien en manque-t-il ?



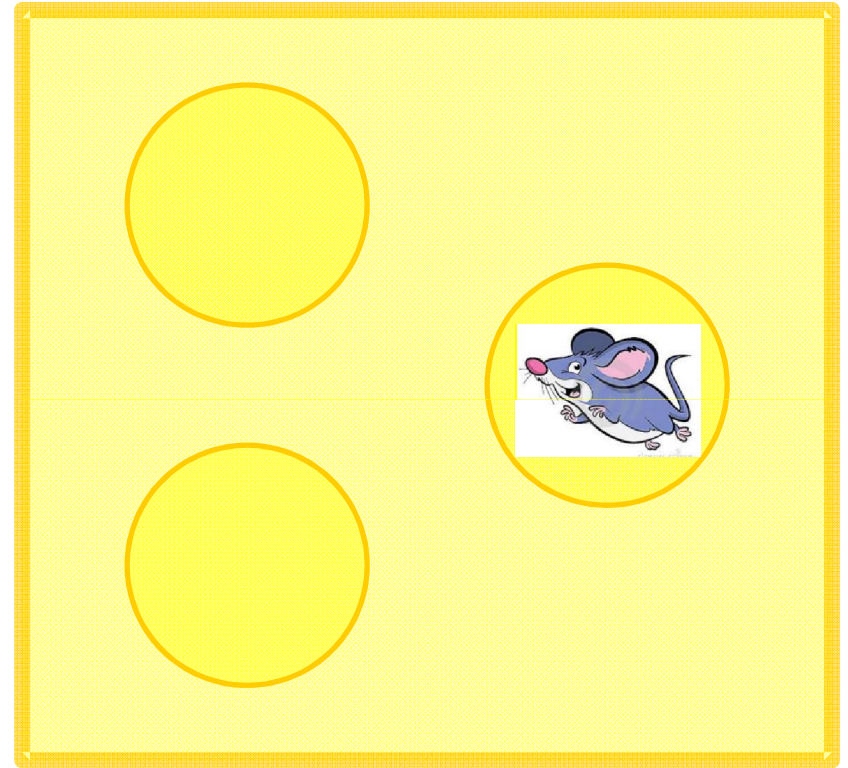
3 souris

Combien en manque-t-il ?



3 souris

Combien en manque-t-il ?



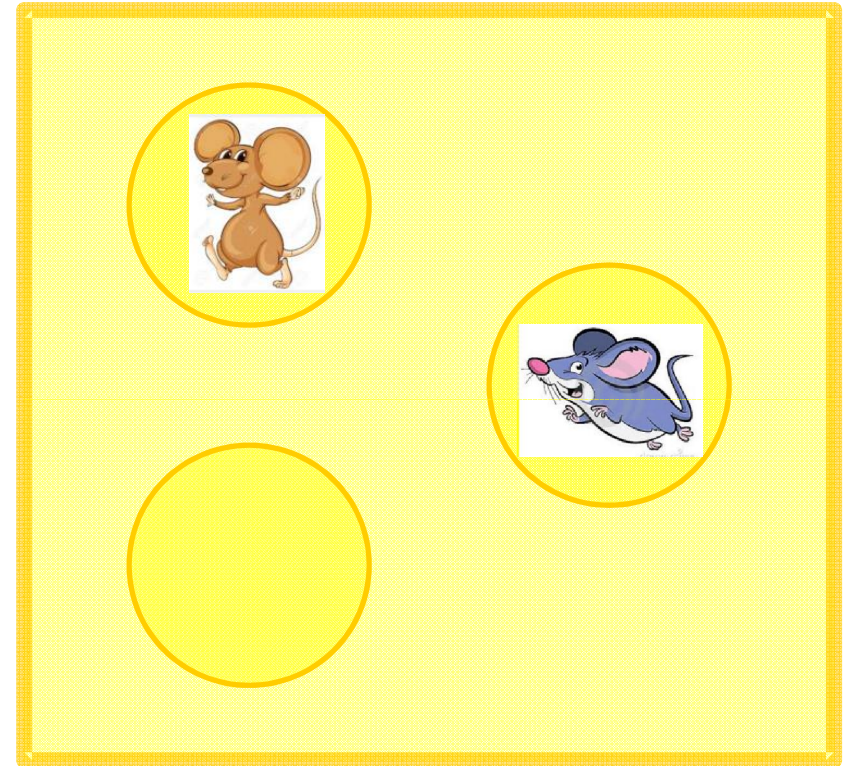
3 souris

Combien en manque-t-il ?




3 souris

Combien en manque-t-il ?



3 souris

Combien en manque-t-il ?



3 souris

Combien en manque-t-il ?







4 pingouins

Combien en manque-t-il ?



4 pingouins

Combien en manque-t-il ?







4 pingouins

Combien en manque-t-il ?



4 pingouins

Combien en manque-t-il ?







4 pingouins

Combien en manque-t-il ?



4 pingouins

Combien en manque-t-il ?




4 pingouins

Combien en manque-t-il ?




4 pingouins

Combien en manque-t-il ?







4 pingouins

Combien en manque-t-il ?



4 pingouins

Combien en manque-t-il ?



5 grenouilles

Combien en manque-t-il ?



5 grenouilles

Combien en manque-t-il ?



5 grenouilles

Combien en manque-t-il ?



5 grenouilles

Combien en manque-t-il ?



5 grenouilles

Combien en manque-t-il ?



5 grenouilles

Combien en manque-t-il ?



5 grenouilles

Combien en manque-t-il ?



5 grenouilles

Combien en manque-t-il ?



5 grenouilles

Combien en manque-t-il ?



5 grenouilles

Combien en manque-t-il ?



5 grenouilles

Combien en manque-t-il ?



5 grenouilles

Combien en manque-t-il ?









6 araignées

Combien en manque-t-il ?




6 araignées

Combien en manque-t-il ?








6 araignées

Combien en manque-t-il ?



6 araignées

Combien en manque-t-il ?








6 araignées

Combien en manque-t-il ?



6 araignées

Combien en manque-t-il ?







6 araignées

Combien en manque-t-il ?



6 araignées

Combien en manque-t-il ?







6 araignées

Combien en manque-t-il ?



6 araignées

Combien en manque-t-il ?





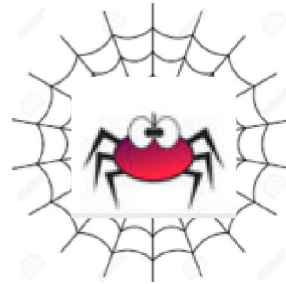
6 araignées

Combien en manque-t-il ?




6 araignées

Combien en manque-t-il ?




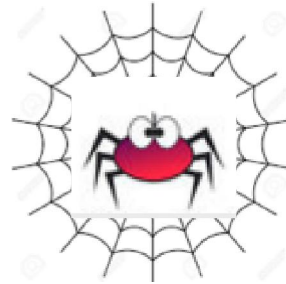
6 araignées

Combien en manque-t-il ?



6 araignées

Combien en manque-t-il ?



7 oiseaux

Combien en manque-t-il ?



7 oiseaux

Combien en manque-t-il ?



7 oiseaux

Combien en manque-t-il ?



7 oiseaux

Combien en manque-t-il ?



7 oiseaux

Combien en manque-t-il ?



7 oiseaux

Combien en manque-t-il ?



7 oiseaux

Combien en manque-t-il ?



7 oiseaux

Combien en manque-t-il ?



7 oiseaux

Combien en manque-t-il ?



7 oiseaux

Combien en manque-t-il ?



7 oiseaux

Combien en manque-t-il ?



7 oiseaux

Combien en manque-t-il ?



7 oiseaux

Combien en manque-t-il ?



7 oiseaux

Combien en manque-t-il ?



7 oiseaux

Combien en manque-t-il ?



7 oiseaux

Combien en manque-t-il ?

