

Nom, prénom : _____


Date : _____

Evaluation mathématiques, mesures CE2

Connaître les unités de longueurs et les relations qui les lient : mètre, kilomètre, centimètre, millimètre	
Utiliser des instruments pour mesurer des longueurs,	
Calculer le périmètre d'un polygone	
Résoudre un problème de longueur.	

1/ Calcule le périmètre de chaque polygone.

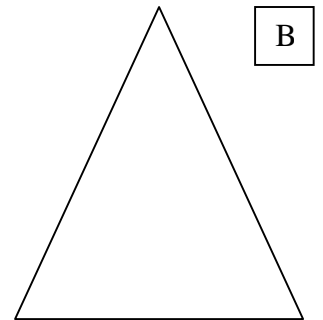
Attention aux unités !!




A

Périmètre de A :

Périmètre de B :



B



C

Périmètre de C :

2/. Problème.

Le propriétaire de cet immeuble souhaite construire une piscine sur le toit.
Il doit donc entourer la terrasse d'un grillage.

La terrasse mesure 56 m 20 cm de longueur et 36 m 30 cm de largeur.

Quelle longueur de grillage doit-il acheter ?

Indique la solution en m et en cm.

