

Mesure la longueur de la ligne brisée.



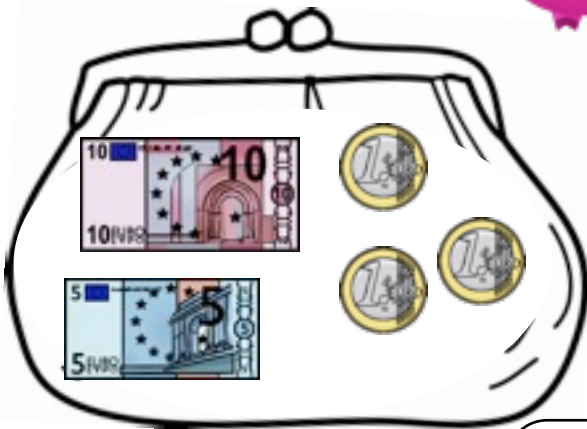
..... + + =

Mesure la longueur de la ligne brisée.



..... + + + + =

Calcule la somme contenue dans le porte-monnaie.



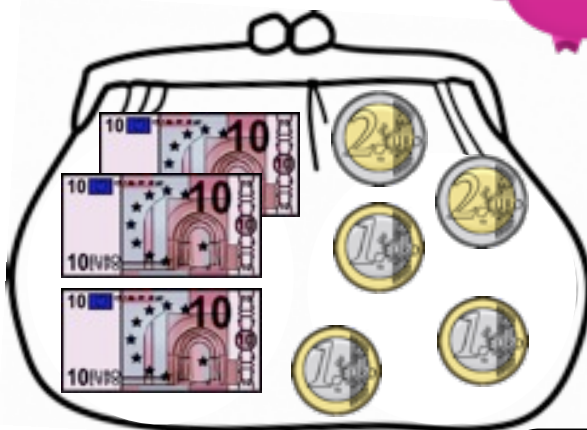
..... €

Mesure la longueur de la ligne brisée.



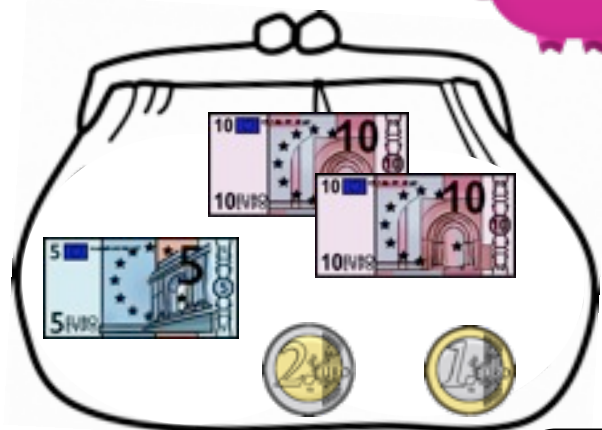
..... + + + =

Calcule la somme contenue dans le porte-monnaie.



..... €

Calcule la somme contenue dans le porte-monnaie.



..... €