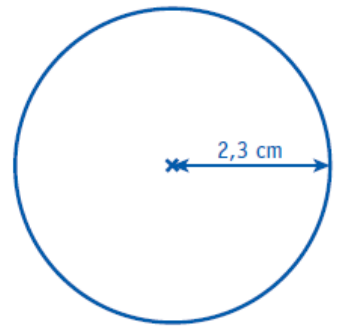
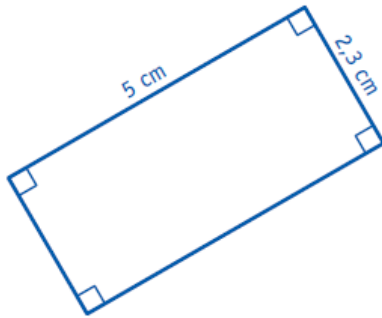
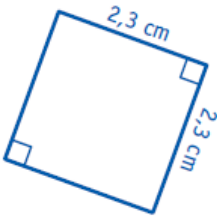


Note : la plus basse -- moyenne -- la plus haute

Mes réussites :	A	ECA	NA	→ points
1 - Je sais calculer le périmètre d'un polygone				/8
2a- Je sais les formules du périmètre du carré et du rectangle				/3
2b- Je sais les formules du périmètre du carré et du triangle				/3
2c - Je sais les formules du périmètre du carré, du triangle et du cercle				/6

Date : / /

1 Repasse en rouge le contour de chaque figure puis calcule son périmètre.



Périmètre de la figure 1 :

Périmètre de la figure 2 :

Périmètre de la figure 3 :

Périmètre de la figure 4 :

2 Les figures suivantes sont composées des figures de l'exercice n°1. Repasse en rouge le contour des figures A, B et C puis calcule leur périmètre sans mesurer.



Périmètre de la figure :

NOM + Prénom :

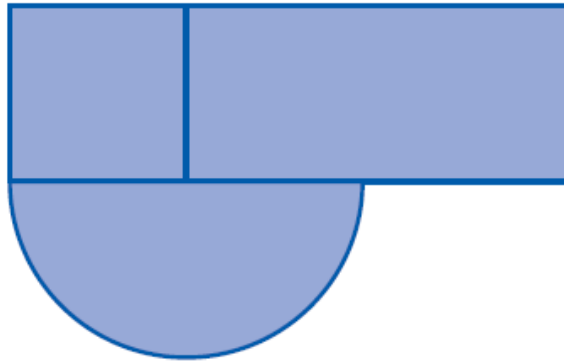


Périmètre de la figure :

.....

.....

.....



Périmètre de la figure :

.....

.....

.....

.....