


Ecole :
 Equipe :
 Nom :



Casse-tête n°1 : la course en tête



Coche la case correspondante :

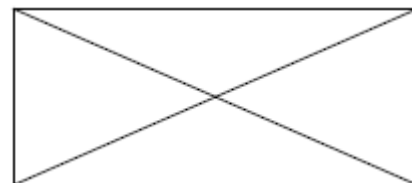
	1	2	3	4
Cyprien				
Gaël				
Paul				
Rachid				

Paul est devant Cyprien. Gaël est derrière Rachid. Gaël est devant Paul.

Casse-tête n° 2 : les triangles

Combien de triangles comptez-vous dans ce dessin ?

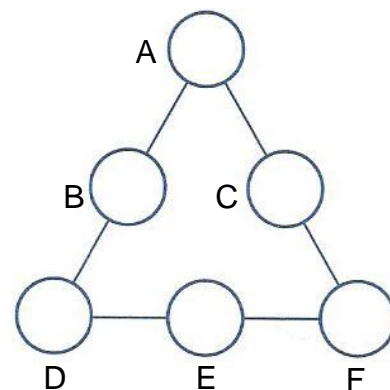
Ecris uniquement le nombre :



Casse-tête n°3 : les nombres

Place les nombres de 1 à 6 dans les ronds.

Deux nombres qui se suivent ne doivent pas être reliés par un trait.



Casse-tête n°4 : l'écharpe

Depuis lundi, Farah tricote une écharpe pour sa poupée. Tous les jours, elle mesure la longueur de l'écharpe.

Quel jour Farah a-t-elle le plus tricoté ?

	Lundi	Mardi	Mercredi	Jeudi	Vendredi	Samedi
A la fin de la journée l'écharpe mesure :	7 cm	11 cm	20 cm	34 cm	40 cm	51 cm

Farah a le plus tricoté le