

# Choisis la bonne opération

1



Lucie a 4 ans de moins que sa sœur Amélie qui a 15 ans. Quel âge a Lucie ?

Sylvain a 28 images de plus que l'an dernier. Il en avait 32. Combien d'images a-t-il cette année ?

La maîtresse a 3 élèves de plus cette année dans sa classe. Elle en a 26. Combien d'élèves avait-elle l'an dernier ?

Pierre avait 184 € dans sa tirelire. Il reçoit 97€ pour son anniversaire. Combien Pierre a-t-il maintenant dans sa tirelire ?

Un enseignant achète 24 stylos rouges. Il en distribue 5 à ses élèves. Combien lui en reste-t-il ?

Pierre avait 20 images d'animaux dans son album avant que son petit frère lui en déchire 6. Combien lui en reste-t-il maintenant ?

Dans une classe de CM1, il y a 25 élèves. Quatre d'entre eux sont absents. Combien y a-t-il d'élèves présents ?

Madame Rageot commande au restaurant un plat principal à 12 € et un dessert à 4 €. Combien devra-t-elle payer ?

# Choisis la bonne opération

2



Alain a treize billes et son frère vingt-deux billes. Combien de billes ont-ils lorsqu'ils jouent ensemble ?

Jean a 16 € dans sa tirelire. Il achète un livre à 3 €. Combien possède-t-il ?

Laura a 18 images d'animaux dans son album. Sa grand-mère lui offre une pochette de 24 images pour son anniversaire. Combien en possède-t-elle maintenant ?

Une commune comptabilisait 700 habitants en 2010. La population a augmenté de 125 habitants depuis 2000. Quel était le nombre d'habitants de cette commune en 2000 ?

Sophie achète une tartelette à 2€ et un paquet de 24 biscuits à 3 €. Combien a-t-elle de gâteaux en tout ?

Roland et Arthur ont trente-huit billes à eux deux. Dix d'entre elles sont à Arthur. Combien de billes possède Roland ?

Anaïs, qui a 10 ans, pèse 32 kilos. Sa soeur, Marie, qui a 1 an de moins, pèse 4 kg de plus. Combien pèse Marie ?

Le père de Sarah a 32 ans ; il a 4 ans de plus que sa mère. Quel est l'âge de la mère de Sarah ?

## Choisis la bonne opération

3



Mme Truc a commandé une machine à laver. Elle a versé 90€ à la commande. Le jour de la livraison, elle paye encore 120€. Combien a-t-elle payé la machine à laver ?

Astérix et Obélix combattent 45 Romains. 21 Romains s'enfuient, les autres sont assommés par Astérix et Obélix. Combien de Romains Astérix et Obélix ont-ils assommés ?

Mon papi a eu 63 ans en 1995. En quelle année est-il né ?

Adeline achète une raquette de tennis à 38€. Après son achat, Adeline a encore 14€ dans son porte-monnaie. Combien avait-elle en arrivant au magasin ?

La maîtresse a 42 cahiers dans l'armoire. Le directeur lui apporte un carton de cahiers. La maîtresse a maintenant en tout 67 cahiers. Combien le directeur a-t-il apporté de cahiers ?

Jacques arrive le matin à l'école avec 25 billes. Le soir, il repart avec 12 billes. En a-t-il perdu ou gagné, et combien ?

Dans le jardin public de Vienne, il y avait 128 arbres. Les jardiniers ont planté 36 nouveaux arbres. Combien y a-t-il d'arbres maintenant ?

Corinne a 87 images dans une boîte. Elle en colle 19 dans son album. Combien y en a-t-il dans la boîte maintenant ?

## Choisis la bonne opération

4



Marie a 83 ans. Elle a 25 ans de plus que son fils Thomas. Quel est l'âge de Thomas ?

Tom mesure 145 cm. Fabien mesure 17 cm de plus. Quelle est la taille de Fabien ?

Marc a 85 billes. Pierre a 23 billes. Combien Marc a-t-il de billes en plus ?

Le Mont Everest mesure 8848 m de haut. Le Mont Blanc mesure 4810 m. Quelle est leur différence d'altitude ?

Stéphane joue aux billes. Il perd 9 billes lors de la première partie et 7 billes lors de la deuxième partie. Combien a-t-il perdu de billes en tout ?

Il y a 25 bonbons dans la boîte rouge: 12 sont des bonbons au chocolat, les autres sont des caramels. Combien y a-t-il de caramels ?

Martin voudrait acheter un beau et gros livre documentaire sur les requins. Martin a 23 € mais il lui manque 10 € pour avoir le livre. Combien coûte ce livre ?

Thibault a 25 € et sa grand-mère lui donne 17 €. Combien d'argent a-t-il maintenant ?

## Choisis la bonne opération

5



Noémie a 12 ans de plus que son frère Paul qui est âgé de 25 ans.  
Quel est l'âge de Noémie ?

Le boulanger a fabriqué 36 croissants. A midi, il en a vendu 20. Les autres sont vendus l'après-midi.  
Combien de croissants sont vendus l'après-midi ?

Alexandre a 33 billes. Paul a 10 billes de moins qu'Alexandre. Combien de billes a Paul ?

Pour faire une construction, Tom utilise 105 pièces. Quentin en a utilisé 39 de plus que Tom. Combien de pièces Quentin a-t-il utilisé ?

Dans un troupeau de moutons, il y a 142 moutons. 56 moutons sont noirs.  
Combien y a-t-il de moutons blancs ?

France a un album photo de 90 pages. Elle a déjà collé 27 photos. Elle y colle 38 nouvelles photos.  
Combien de photos y a-t-il maintenant dans son album ?

La directrice de l'école doit envoyer 15 lettres. Mais elle n'a que 8 enveloppes.  
Combien d'enveloppes lui manque-t-il ?

Dans une boîte, Ludovic enlève 38 billes. Maintenant, il y a 85 billes dans la boîte.  
Combien y avait-il de billes au départ ?

## Choisis la bonne opération

6



La boîte contient des billes. Mathilde y met 10 billes. Maintenant la boîte contient 80 billes.  
Combien y avait-il de billes au début ?

Madame Giordano achète un stylo à 14 euros, des feutres à 6 euros et un paquet de 50 enveloppes qui coûtent 2 euros.  
Combien dépense-t-elle ?

Marie achète un livre à 15 euros. Il lui reste maintenant 27 euros dans son porte-monnaie.  
Combien avait-elle d'argent avant l'achat ?

Jade a 3 ans de plus que sa sœur Poupette et 1 an de moins que son frère Paul.  
Jade a 15 ans. Quel âge a Poupette ?

Jade a 3 ans de plus que sa sœur Poupette et 1 an de moins que son frère Paul.  
Jade a 15 ans. Quel âge a Paul ?

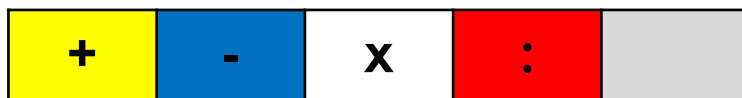
Ludo a vu un puzzle de 150 pièces à 12 euros. Il n'a que 7 euros dans son porte-monnaie.  
Combien d'argent lui manque-t-il ?

Le marchand de fruits reçoit une caisse de 245 Kg d'oranges. Il doit jeter 59 Kg d'oranges abîmées.  
Calcule la masse d'oranges qu'il peut vendre

Paul et Luca ont, ensemble, 342 euros. Luca a 120 euros. Combien Paul possède-t-il ?

## Choisis la bonne opération

7



Calcule le prix de 12 ballons de football à 9 € l'un.

Mamie achète 6 gâteaux identiques. La pâtissière lui demande 12 €. Combien coûte un gâteau ?

Un bus prend 12 passagers au 1er arrêt, 24 au 2ème et 31 au 3ème. Calcule le nombre total de passagers.

Marc va à Paris qui est à 800 km de chez lui.. Après 525 km, il s'arrête pour déjeuner. Quelle est la distance restant à parcourir ?

Un randonneur part à 8 h. Il marche durant 3h30, puis s'arrête 30 min. Il repart et marche 2 h avant d'arriver au sommet. A quelle heure arrive-t-il ?


Thomas possède 45 timbres français, 34 d'autres pays d'Europe, 62 d'Afrique et 58 d'Amérique du Sud. Combien de timbres possède-t-il au total ?

Un supermarché commande 60 VTT. Chaque VTT coûte 50 €. Quel est le montant total de la commande ?

A la rentrée des classes, le directeur répartit les 232 élèves de l'école dans 8 classes. Calcule le nombre moyen d'enfants par classe.

## Choisis la bonne opération

8



Pour une séance de cinéma, une école réserve 75 places pour les CM2, 60 pour les CM1 et 72 pour les CE2. Combien de places doit-elle payer ?

Madame Durand achète 5 viennoiseries à 2 € l'une. Combien va-t-elle payer ?

Dans une école de 325 élèves, la directrice commande 7 cahiers par élève. Combien doit-elle commander de cahiers en tout ?

Barbara a acheté 16 cartes de vœux. Il lui en reste six à écrire. Quel est le nombre déjà écrites ?

Le Kilimandjaro mesure 6 614m. Le mont Blanc mesure 1 807m de moins. Quelle est la hauteur du mont Blanc ?

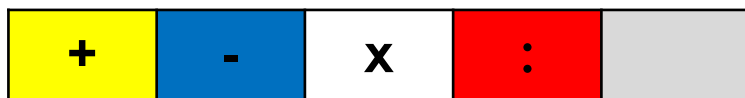
Pour la fête des mères, deux enfants mettent en commun leur argent de poche : 16 € pour l'un et 14 € pour l'autre. Combien possèdent-ils à eux deux ?

Dans un tonneau pouvant contenir jusqu'à 15 L de liquide, j'en ai déjà versé 2 L. Quelle quantité de liquide puis-je encore verser ?

Amélie, âgée de 10 ans, a quatre ans de moins que sa sœur Sarah. Quel est l'âge de Sarah ?

## Choisis la bonne opération

9



La maîtresse distribue 3 feuilles d'exercices à chacun des 22 élèves de la classe. Combien de feuilles la maîtresse a-t-elle utilisées ?

Pierre calcule le nombre d'élèves inscrits dans son école : 27 en CP, 22 en CE1, 25 en CE2, 27 en CM1 et 32 en CM2. Combien y a-t-il d'élèves au total ?

Pour les décorations de Noël, les employés municipaux ont besoin de 1150 ampoules. Elles sont vendues par lot de 25. Combien de lots faudra-t-il acheter ?

L'épave du pétrolier Erika repose à 158 m de fond. Un sous-marin de surveillance se trouve à 25 m au-dessus de l'épave. A quelle profondeur se trouve-t-il ?

Paul installe une clôture autour de son jardin. Le premier côté mesure 25 m, le deuxième 17 m, le troisième, 39 m et le quatrième 32 m. Quelle est la longueur du grillage utilisé ?

Combien d'équipes de 6 joueurs peut-on constituer avec 48 enfants ?

Pour financer la classe de neige, les élèves vendent 350 pains au chocolat à 60 centimes chacun. Quel est le montant de la vente ?

Le collier de Sophie se compose de 160 perles vertes et jaunes. Elle compte 85 perles vertes. Quel est le nombre de perles jaunes ?

## Choisis la bonne opération

10



Maman a acheté 18 yaourts. Ce midi, les enfants ont mangé 7 yaourts. Combien en reste-t-il ?

Une institutrice a acheté 24 livres valant 7€ chacun. Combien a-t-elle payé ?

Henri a enregistré un film qui dure 2 h 15min sur un DVD de 3 h. Quel temps d'enregistrement reste-t-il sur le DVD ?

Julian range ses petites voitures dans des boîtes. Il possède 5 boîtes. Chaque boîte contient 24 petites voitures. Combien Julian a-t-il de petites voitures ?

M. Frelon est apiculteur. Il possède 236 ruches. Chaque ruche produit 8kg de miel par an. Quelle masse de miel est produite chaque année par les abeilles de M.Frelon ?

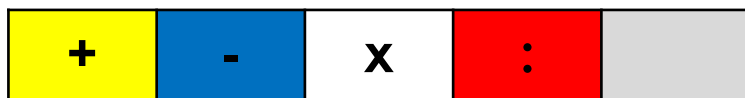
Julien possède déjà 1320 pièces de monnaie anciennes. Son grand-père lui a promis de lui offrir sa collection de 855 pièces. Combien de pièces Julien possèdera-t-il en tout ?

Pour renouveler le matériel de l'école de tennis, le moniteur achète 18 raquettes de tennis. Une raquette coûte 35€. Quelle somme a-t-il dépensée ?

Ma maman a 37 ans. Mon papa a 4 ans de plus que ma maman. Quel âge a mon papa ?

## Choisis la bonne opération

11



Madame Durant achète 5 paquets de lessive et 8 boîtes de 23 chocolats. Combien de chocolat achète-t-elle ?

Eric a 145 cartes de pokémon, il en a 72 de plus que Vincent. Combien Vincent a-t-il de carte ?

Marie a 12ans. Dans sa tirelire, elle n'a que des billets de 5€. En tout, elle a 130€. Combien a-t-elle de billet ?

Monsieur Dupond va faire les courses, il dépense 87€ au supermarché et 28€ chez le boucher. Combien dépense-t-il en tout ?

Nadia a 36 billes. Elle a perdu 13 billes à la récréation. Combien en a-t-elle maintenant ?

Dans un parking, il y a 26 rangées de 10 places. Combien y-a-t-il de places dans ce parking ? »

Sophie range 75 cubes dans une boîte. Puis elle en ajoute 83. Combien y-a-t-il de cubes dans la boîte maintenant ?

Monsieur Bichon a 200 euros. Pour l'anniversaire de sa fille, il achète des boucles d'oreilles à 44 Combien lui reste-t-il ?

## Choisis la bonne opération

12



Jean, Nina et Henri ont trouvé un trésor de 111 pièces. Ils veulent se partager en trois part égales. Combien auront-ils chacun ?

La population d'un village comprend 2 568 hommes et 2 786 femmes. Quelle est la population du village ?

Mardi, un poissonnier reçoit 5 cartons contenant chacun 12 cabillauds. Combien a-t-il de cabillauds à sortir ?

Le "Zénith" de Paris peut contenir 6 000 personnes. Lors du dernier concert, on a vendu 5 438 billets d'entrée. Le prix du billet était de 25 €. Combien de personnes ont assisté au spectacle ?

**Un éleveur expédie dans une usine de pâtisseries 100 boîtes d'œufs. Il y a 18 œufs dans chaque boîte.. Combien y avait-il d'œufs au total ?**

La fleuriste compose un bouquet avec 5 marguerites, 3 roses et 6 œillets. Combien y a-t-il de fleurs dans ce bouquet ?

La fleuriste compose un bouquet avec 13 œillets et des anémones. Il y a 20 fleurs dans ce bouquet. Combien a-t-elle mis d'anémones ?

Un cinéma de 3 salles est refait à neuf. Dans chaque salle, il y a 23 rangées de 10 fauteuils chacune.. Combien y a-t-il de fauteuils dans chaque salle ?