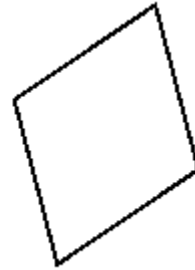



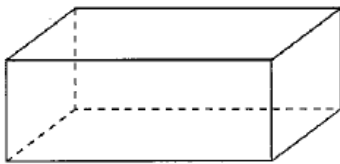
G10– Je sais placer le milieu d'un segment et trouver les axes de symétrie par les milieux



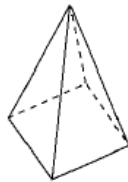
.../ 10

G11– Je sais reconnaître, décrire, nommer : un cube, un pavé droit, une pyramide et une sphère

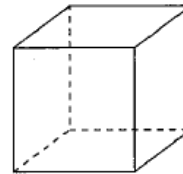
- marque un point rouge sur les sommets
- repasse les arêtes en bleu



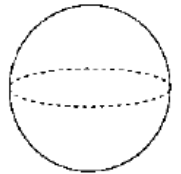
A



B



C



D

- Remplis le tableau :

	A	B	C	D
Nombre d'arêtes				
Nombre de sommets				
Nombre de faces				
Nom du solide				

.../ 10