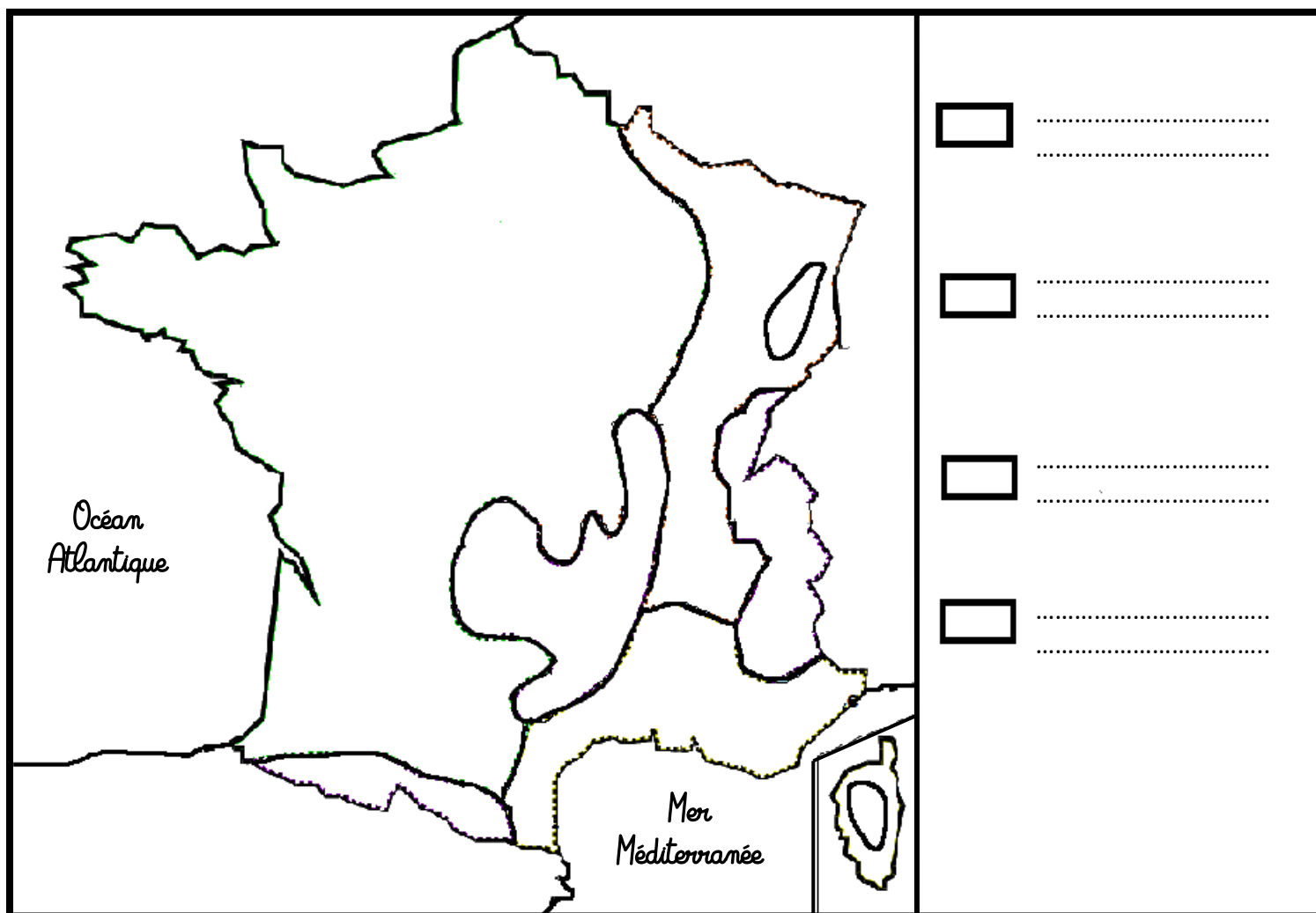


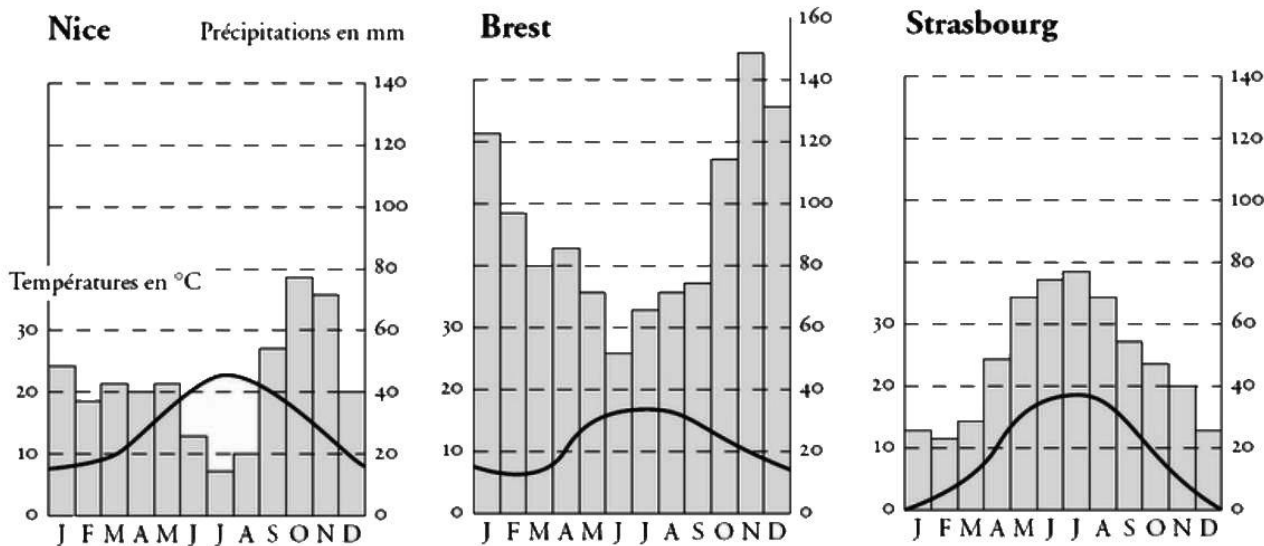
1. A l'aide des mots en gras du texte, complète la carte des climats de France :



La France est située en zone tempérée. Elle offre néanmoins une variété de conditions climatiques sur son territoire :

- le **climat océanique** (en vert), qui s'étend dans la partie ouest et englobe une grande partie du pays ;
- le **climat continental** (en bleu), à l'est de la France qui s'étend entre le Massif Central et les Alpes) ;
- le **climat méditerranéen** (en jaune), qui borde la mer Méditerranée au sud-est de la France ;
- le **climat montagnard** (en marron), que l'on retrouve dans les Alpes, les Pyrénées, le Massif Central, les Vosges, le Jura et en Haute Corse.

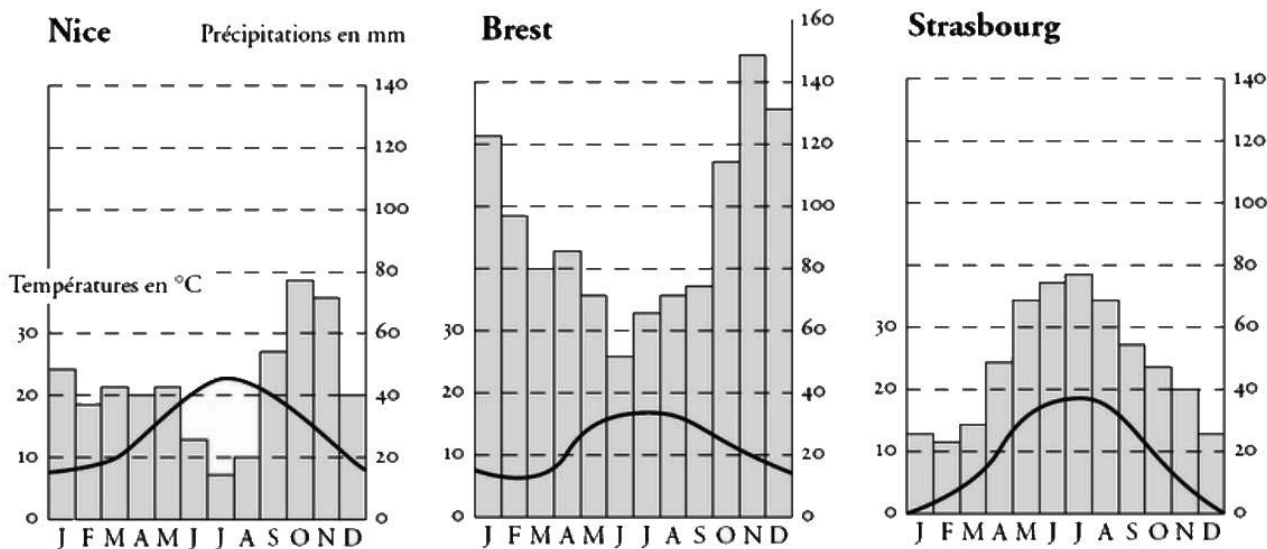
2. Observe ces diagrammes et complète le tableau suivant :



Diagrammes ombrothermiques de trois villes de France

Villes	Précipitations annuelles (en mm)	Températures en Janvier (en °C)	Températures en Août (en °C)
Brest
Nice
Strasbourg

2. Observe ces diagrammes et complète le tableau suivant :



Diagrammes ombrothermiques de trois villes de France

Villes	Précipitations annuelles (en mm)	Températures en Janvier (en °C)	Températures en Août (en °C)
Brest
Nice
Strasbourg

