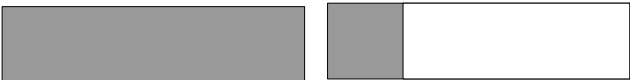








Le nombre de bandes grisées dans la 2ème colonne correspond-il au nombre indiqué dans la première colonne ? Indiquer et justifier la réponse dans la 3ème colonne.

Nombre de bandes	Bandes grisées	OUI ou NON et pourquoi ?
$1 + \frac{(1)}{(2)}$		
$2 + \frac{(3)}{(4)}$		
$1 + \frac{(1)}{(4)}$		
$\frac{(1)}{(2)}$		

Le nombre de bandes grisées dans la 2ème colonne correspond-il au nombre indiqué dans la première colonne ? Indiquer et justifier la réponse dans la 3ème colonne.

Nombre de bandes	Bandes grisées	OUI ou NON et pourquoi ?
$1 + \frac{(1)}{(2)}$		
$2 + \frac{(3)}{(4)}$		
$2 + \frac{(1)}{(4)}$		
$2 + \frac{(1)}{(2)} + \frac{(1)}{(4)}$	