

Mathématiques CP - Année 2016/2017 - Bilan 9

Date : _____


Ton prénom : _____

1  Ecris les nombres dictés.


● ■ ★ ☾ ♥ ▲

2  Complète.

$6 + 6 = \dots\dots$ $6 + 7 = \dots\dots$ $7 + 8 = \dots\dots$ $8 + 6 = \dots\dots$
 $7 + 7 = \dots\dots$ $9 + 9 = \dots\dots$ $8 + 9 = \dots\dots$ $6 + 9 = \dots\dots$

3  Colorie de la même couleur les deux écritures du même nombre.

72 soixante-deux quarante-six 62
soixante-douze 46

4  Complète. (Comme dans l'exemple)

seize	16	$10 + 6$
quarante-huit		$10 + 10 + 10 + 10 + 8$
cinquante et un		
		$10 + 7$
		$10 + 10 + 10 + 9$



5  Calcule. Utilise la méthode de ton choix.

$34 + 55$ $26 + 45$ $28 + 37$

6 Termine ce dessin pour obtenir un carré.



Termine ce dessin pour obtenir un rectangle.



7  Complète.




Il est _____



Il est _____



Il est _____

8  Relie les mots pour obtenir le nombre.

63

trois

treize

six

soixante

41

un

quatre

et

quarante

77

un

sept

dix

soixante