

Les nombres de 60 à 79 - n°1

Lisons en ouvrant grand nos oreilles...

Ici, on entend « 60 ; 1 ; 2 ; 3 ; 4 ; 5 ; 6 ; 7 ; 8 ; 9 ».

60	soixante	
61	soixante et un	
62	soixante-deux	
63	soixante-trois	
64	soixante-quatre	
65	soixante-cinq	
66	soixante -six	
67	soixante-sept	
68	soixante-huit	
69	soixante-neuf	

Ici, on va entendre « 60 et les nombres « cachotiers » 10 ; 11 ; 12 ; 13 ; 14 ; 15 ; 16 ; 17 ; 18 ; 19 ».

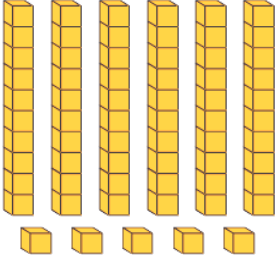
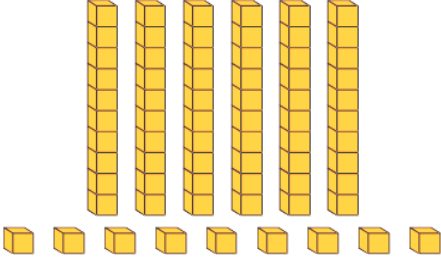

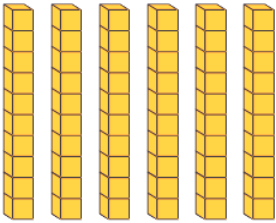
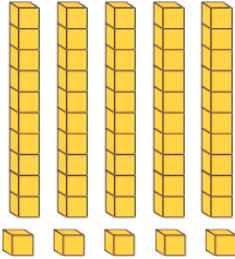
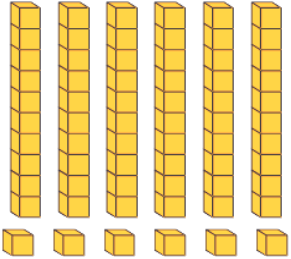
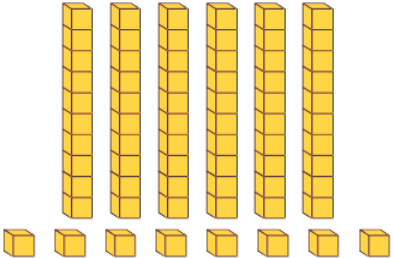
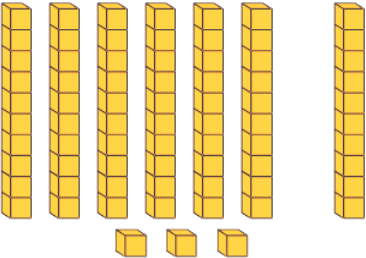
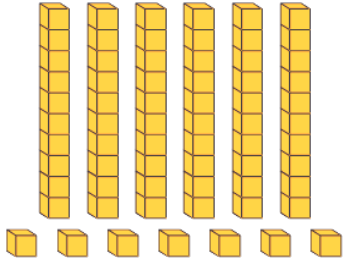
70	soixante-dix	
71	soixante et onze	
72	soixante-douze	
73	soixante-treize	
74	soixante-quatorze	
75	soixante-quinze	
76	soixante-seize	
77	soixante-dix-sept	
78	soixante -dix-huit	
79	soixante-dix-neuf	

Combien y a-t-il de cubes dans les cases suivantes ? Colorie la bonne réponse.
Nomme les nombres qui ont été entourés.

 55 65 56	 69 59 19	 50 60 70
 70 60 50	 75 56 55	 66 56 65
 48 58 68	 73 37 63	 67 76 70

CORRECTION

Combien y a-t-il de cubes dans les cases suivantes ? Colorie la bonne réponse.
Nomme les nombres qui ont été entourés.

 <p>55 65 56</p>	 <p>69 59 19</p>	 <p>50 60 70</p>
 <p>70 60 50</p>	 <p>75 56 55</p>	 <p>66 56 65</p>
 <p>48 58 68</p>	 <p>73 37 63</p>	 <p>67 76 70</p>