


Prénom : .....

Date : .....



## TEST CEINTURE BLANCHE DE GÉOMÉTRIE

A

Pour que la ceinture soit acquise, les 4 compétences doivent être validées

1. Situer un objet, utiliser le vocabulaire de position.
2. Reconnaître et nommer un carré, un rectangle et un triangle.
3. Percevoir l'alignement de points.
4. Repérer les cases d'un quadrillage.



1a. Dessine un ballon rouge à gauche de la maison, un arbre à droite de la maison, une étoile au-dessus de la maison et une fleur en-dessous de la maison.




1b. Observe les dessins et complète les phrases avec gauche ou droite.




Le ballon est  
à la .....  
de la petite fille.

Le cube est  
à la .....  
de la petite fille.



(Critère de validation : aucune erreur dans les 2 exercices)

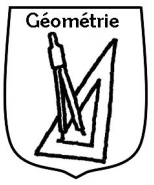
2. Colorie les carrés en bleu, les rectangles en jaune et les triangles en rouge.



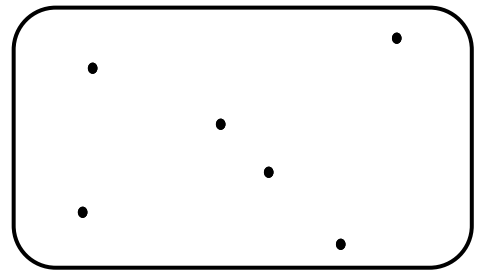
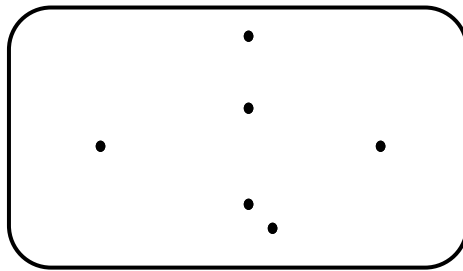
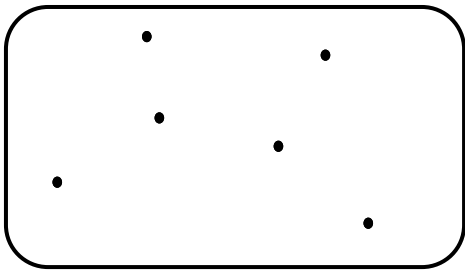
(Critère de validation : 2 erreurs ou oublis maximum)

Prénom :






# TEST CEINTURE BLANCHE DE GÉOMÉTRIE suite








3. Relie 3 points alignés dans chaque cadre.



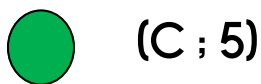
4a. Écris les codes des dessins.

	A	B	C	D	E
1					
2					
3					
4					
5					




		
		
		
		
		

4b. Dessine les formes dans les cases demandées.



	A	B	C	D	E
1					
2					
3					
4					
5					

(Critère de validation : aucune erreur dans chaque exercice)

	<b>Résultat</b>
	<input type="checkbox"/> Ceinture validée, bravo !
	<input type="checkbox"/> Dommage, tu y es presque ! <input type="checkbox"/> Il faut encore t'entraîner...