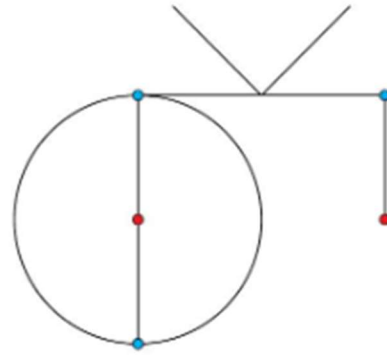
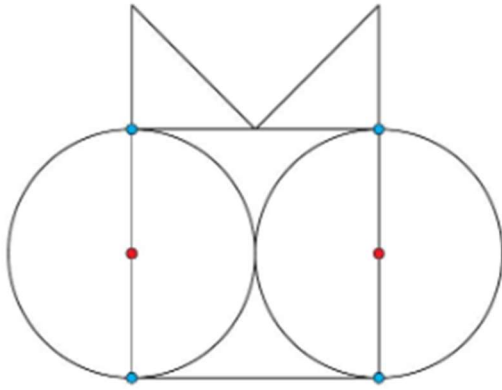


# Compléter un assemblage de figures au CE1

(F119)

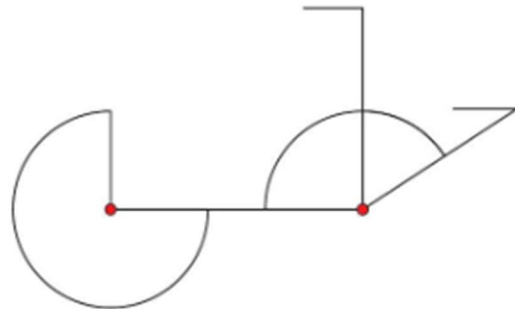
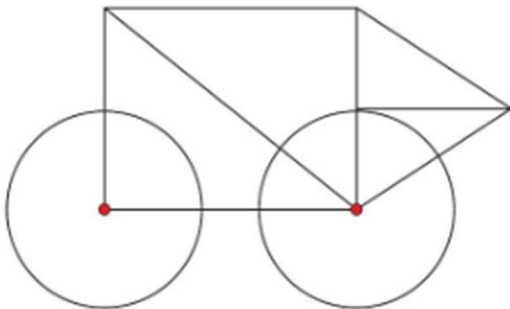
## Découvrons

**1** Observe le modèle et **complète** la figure en utilisant l'équerre, la règle et le compas.



## Je m'entraîne

**2** Observe le modèle et **complète** la figure en utilisant l'équerre, la règle et le compas.



### Connaissance des nombres :

-Écris les nombres en chiffres :

Deux cent trente-cinq : .....

Quatre cent six : .....

Neuf cents : .....

Cinq cent vingt-huit : .....

-Écris ces nombres en lettres :

123 : .....

311 : .....

641 : .....

190 : .....