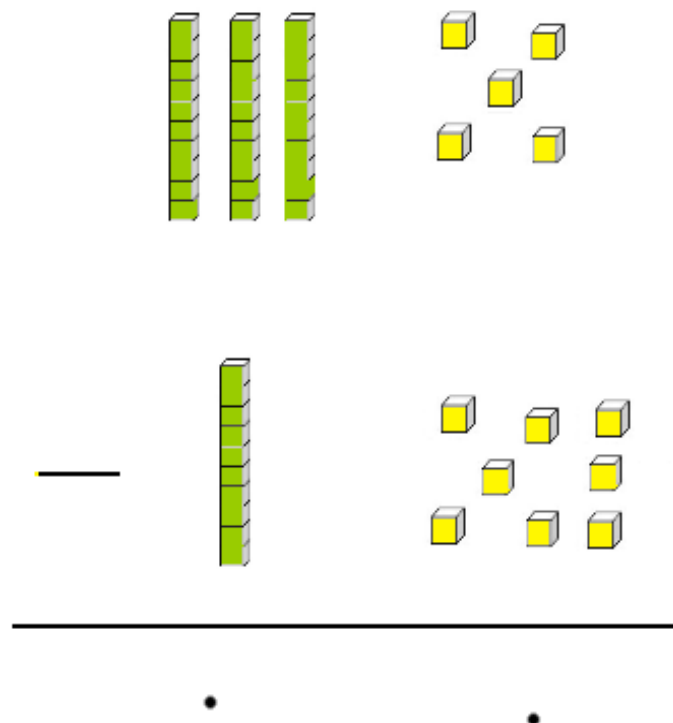


$$\begin{array}{r}
 35 \\
 - 18 \\
 \hline
 \cdot \quad \cdot
 \end{array}$$

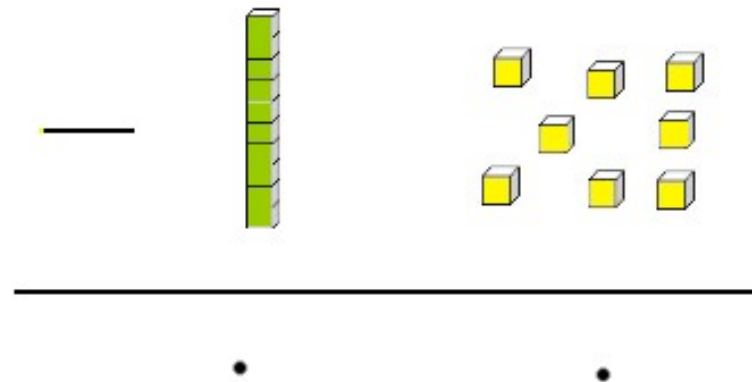
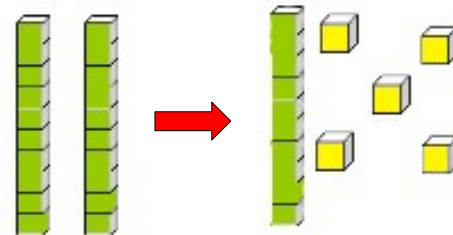


On commence par les unités :
5-8 c'est impossible !

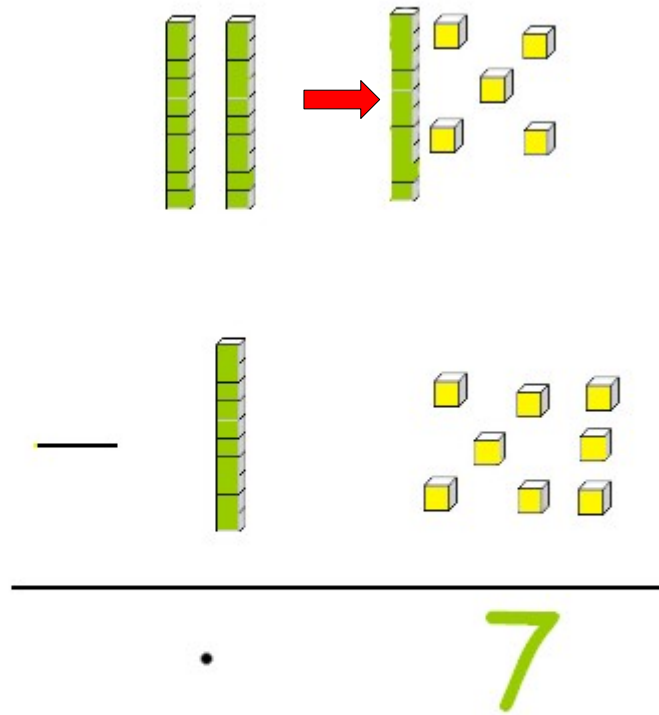
Je déplace donc une dizaine parmi les 3 dizaines de 35.

Il reste seulement 2
dizaines.

$$\begin{array}{r} 2 \\ \cancel{3} \quad 15 \\ - \quad 1 \quad 8 \\ \hline \cdot \quad \cdot \end{array}$$

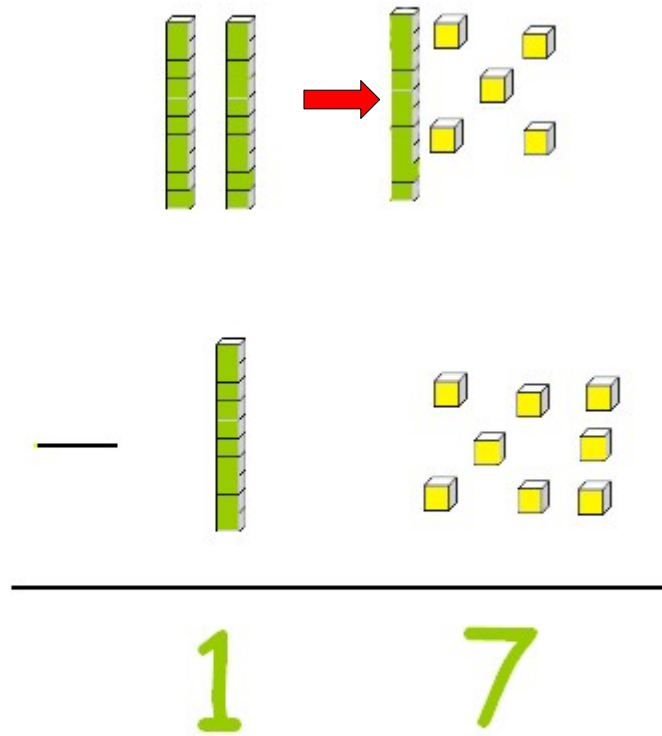


$$\begin{array}{r}
 2 \\
 \cancel{3} \ 15 \\
 - 1 \ 8 \\
 \hline
 \cdot \ 7
 \end{array}$$



Je recommence par la
colonne des unités :
 $15 - 8 = 7$

$$\begin{array}{r}
 2 \\
 \cancel{3} \ 15 \\
 - 1 \ 8 \\
 \hline
 1 \ 7
 \end{array}$$



Je continue avec la
colonne des dizaines :
 $2-1=1$