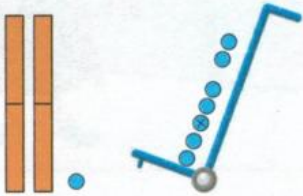
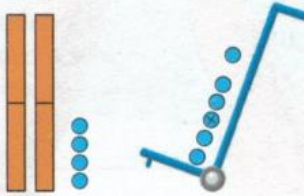
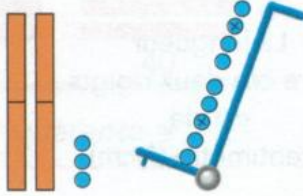





C.

Addition : une nouvelle dizaine ou non ?

Pour savoir si on va pouvoir faire un nouveau groupe de 10, il faut dessiner les nombres comme Picbille dans sa tête.

Exemples :

vingt-et-un + sept	vingt-quatre + six	vingt-trois + neuf
		
 <p data-bbox="256 790 539 913">Pas de nouveau groupe de dix.</p>	 <p data-bbox="767 790 1018 913">Un nouveau groupe de dix exactement.</p>	 <p data-bbox="1214 790 1497 913">Un nouveau groupe de dix et...</p>
$\underbrace{\text{vingt-et-un}} + \text{sept} = \dots\dots\dots$	$\underbrace{\text{vingt-quatre}} + \text{six} = \dots\dots\dots$	$\underbrace{\text{vingt-trois}} + \text{neuf} = \dots\dots\dots$
$20 + 1 + 7 = \dots\dots\dots$	$20 + 4 + 6 = \dots\dots\dots$	$20 + 3 + 9 = \dots\dots\dots$