


Activité « LEGO »


Unité « lego » : pour mesurer une longueur :



ou une surface :



Complète pour chaque rectangle l'aire (**A**) et le périmètre (**P**) avec l'unité « lego » :



A : _____

P : _____



A : _____

P : _____



A : _____


P : _____

Activité « LEGO »


Unité « lego » : pour mesurer une longueur :



ou une surface :



Complète pour chaque rectangle l'aire (**A**) et le périmètre (**P**) avec l'unité « lego » :




A : _____

P : _____



A : _____

P : _____



A : _____

P : _____