



Fiche 1 Tout sur un nombre Niv 1

Propose à l'oral toutes les manières de
décrire ou trouver le nombre

42

Il faut que tu en trouves au moins 5 de
la liste pour valider cette fiche.



Fiche 1

Tout sur un nombre

Niveau 1



Fiche 2 Tout sur un nombre Niv 1

Propose à l'oral toutes les manières de
décrire ou trouver le nombre

36

Il faut que tu en trouves au moins 5 de
la liste pour valider cette fiche.



Fiche 2

Tout sur un nombre

Niveau 1



Fiche 3 Tout sur un nombre Niv 1

Propose à l'oral toutes les manières de
décrire ou trouver le nombre

48

Il faut que tu en trouves au moins 5 de
la liste pour valider cette fiche.



Fiche 3

Tout sur un nombre

Niveau 1



Fiche 4 Tout sur un nombre Niv 1

Propose à l'oral toutes les manières de
décrire ou trouver le nombre

32

Il faut que tu en trouves au moins 5 de
la liste pour valider cette fiche.



Fiche 4

Tout sur un nombre

Niveau 1



Fiche 1 Le furet Niv 1

A l'oral, trouve les 10 nombres qui
suivent **26** en comptant
de 11 en 11 !



Fiche 1
Le furet
Niveau 1



Fiche 2 Le furet Niv 1

A l'oral, trouve les 10 nombres qui
suivent **17** en comptant
de 6 en 6 !



Fiche 2
Le furet
Niveau 1



Fiche 3 Le furet Niv 1

A l'oral, trouve les 10 nombres qui
suivent **23** en comptant
de 8 en 8 !



Fiche 3
Le furet
Niveau 1




Fiche 4 Le furet Niv 1

A l'oral, trouve les 10 nombres qui
suivent **35** en comptant
de 7 en 7 !



Fiche 4
Le furet
Niveau 1




Fiche 1 Trouve l'intrus Niv 1

Quel résultat n'est pas correct ?

$7 \times 50 = 350$	$9 \times 30 = 310$
$6 \times 40 = 240$	$8 \times 81 = 648$



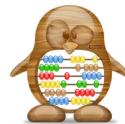
Fiche 1 Trouve l'intrus Niveau 1



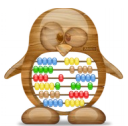
Fiche 2 Trouve l'intrus Niv 1

Quel résultat n'est pas correct ?

$60 \times 9 = 540$	$300 \times 8 = 2400$
$40 \times 70 = 280$	$6 \times 70 = 420$



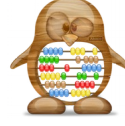
Fiche 2 Trouve l'intrus Niveau 1




Fiche 3 Trouve l'intrus Niv 1

Quel résultat n'est pas correct ?

$17 \times 20 = 240$	$80 \times 50 = 4\ 000$
$600 \times 4 = 2\ 400$	$13 \times 30 = 390$




Fiche 3 Trouve l'intrus Niveau 1



Fiche 4 Trouve l'intrus Niv 1

Quel résultat n'est pas correct ?

$60 \times 30 = 1\ 800$	$25 \times 100 = 2\ 500$
$40 \times 70 = 2\ 800$	$21 \times 30 = 5\ 200$



Fiche 4 Trouve l'intrus Niveau 1



Fiche 1 Qui suis-je ? Niv 1

- Je suis un nombre composé de 4 chiffres.
 - Mon chiffre des centaines est 3.
 - Mon chiffre des unités est le double de celui des centaines.
 - Mon chiffre des unités de mille est la somme de celui des centaines et des unités.
 - Mon chiffre des dizaines est 0.



Fiche 1 Qui suis-je ? Niveau 1



Fiche 2 Qui suis-je ? Niv 1

- Je suis un nombre composé de 3 chiffres.
- Mon chiffre des unités est la moitié de 4.
- Mon nombre de dizaines est le triple de 4



Fiche 2 Qui suis-je ? Niveau 1



Fiche 3 Qui suis-je ? Niv 1

- Je suis un nombre composé de 6 chiffres.
- Mon chiffre des centaines de mille est 2.
 - Mon chiffre des unités de mille est 4.
- Mon nombre de dizaines est le double de 24.



Fiche 3 Qui suis-je ? Niveau 1




Fiche 4 Qui suis-je ? Niv 1

- Je suis un nombre composé de 5 chiffres.
- Mon chiffre des unités est le même que celui des dizaines de mille
 - J'ai 523 dizaines.
- Mon chiffre des unités est la moitié de 4.



Fiche 4 Qui suis-je ? Niveau 1

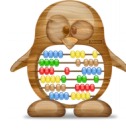


Fiche 1 Devinombre Niv 1

Pour me trouver, tu pars de 5 :

- tu ajoutes 8
- tu multiplies par 2
- tu soustrais 2
- tu divises par 4.

Donne le résultat trouvé !



Fiche 1
Devinombre
Niveau 1




Fiche 2 Devinombre Niv 1

Pour me trouver, tu pars de 7 :

- tu soustrais 2
- tu multiplies par 10
- tu divises par 2
- tu ajoutes par 3.

Donne le résultat trouvé !



Fiche 2
Devinombre
Niveau 1

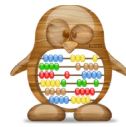


Fiche 3 Devinombre Niv 1


Pour me trouver, tu pars de 9 :

- tu divises par 3
- tu ajoutes 7
- tu soustrais 2
- tu multiplies par 4.

Donne le résultat trouvé !



Fiche 3
Devinombre
Niveau 1

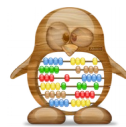


Fiche 4 Devinombre Niv 1

Pour me trouver, tu pars de 6 :

- tu multiplies par 5
- tu ajoutes par 6
- tu divises par 2
- tu soustrais 5.

Donne le résultat trouvé !



Fiche 4
Devinombre
Niveau 1



Fiche 1 Quelle unité ? Niv1

La distance entre Paris et Lyon est d'environ :

- 400 m
- 400 cm
- 400 km



Fiche 1
Quelle unité ?
Niveau 1



Fiche 2 Quelle unité ? Niv 1

La capacité d'un verre d'eau est d'environ :

- 20 cL
- 20 L
- 20 mL



Fiche 2
Quelle unité ?
Niveau 1



Fiche 3 Quelle unité ? Niv 1

La masse d'un pack de 6 bouteilles d'eau est d'environ :

- 9 g
- 9 kg
- 9 dag



Fiche 3
Quelle unité ?
Niveau 1



Fiche 4 Quelle unité ? Niv 1

La taille d'un stylo est d'environ :

- 20 m
- 20 cm
- 20 mm



Fiche 4
Quelle unité ?
Niveau 1