

Prénom :

Signature

MATHÉMATIQUES N°5 - ce1

Repérer et placer les nombres sur une droite graduée.	
Connaître et utiliser des techniques opératoires : addition.	
Calculer mentalement des différences.	
Utiliser un calendrier.	
Reproduire une figure en suivant les nœuds d'un quadrillage.	
Tracer un carré.	
Reproduire un triangle rectangle.	
Organiser les informations d'un énoncé.	
Résoudre des problèmes relevant des 4 opérations.	
Connaître et utiliser l'euro.	

1. Place ces nombres sur les graduations : 118- 127-132-140

110

145

Rythme : de.....en..... .

2. Place ces nombres sur les graduations : 372-402-342-512

212

312

Rythme : de.....en..... .

3. Place les nombres indiqués par les flèches :

138

178

Rythme : de.....en..... .

4. Prolonge la frise.



5. Résous les problèmes.

**J'ai 24 oeufs que je dois ranger dans des boîtes de 4.
Combien me faut-il de boîtes ?**

Recherche :

Réponse :

**Robin le médecin doit voir 50 malades aujourd'hui. Il va voir 14 enfants et les autres malades sont des adultes.
Combien doit-il voir d'adultes ?**

Recherche :

Réponse :

6. Pose et calcule.

$679 + 542$



7. Calculer.

$219 - 12 = \dots\dots\dots$

$219 - 21 = \dots\dots\dots$

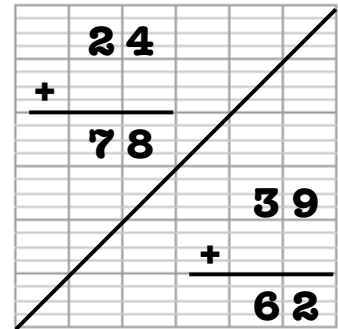
$314 - 16 = \dots\dots\dots$

$314 - 11 = \dots\dots\dots$

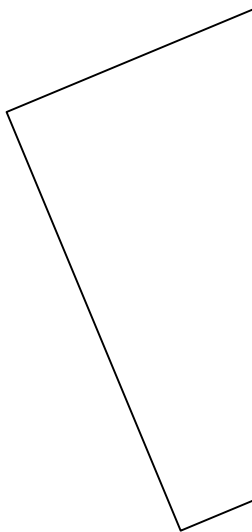
$934 - 35 = \dots\dots\dots$

$934 - 34 = \dots\dots\dots$

8. Compléter.

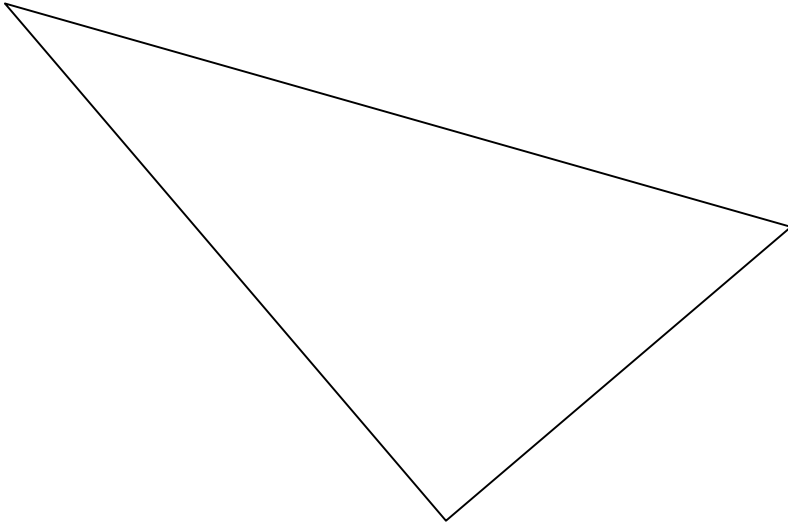


9. Termine le carré.



10. Réunis la somme demandée.

11. Reproduis un triangle identique au modèle.



12. Écris les mois de l'année et leur numéro dans l'ordre.

Janvier

1



13. Écris la date en abrégé.

8 avril 2016

18 juin 2024

28 novembre 2007