

Date: .....

Prenom: .....

Eveil

## Coupe du monde 2022: Les pays dans le groupe des Belges.

La Belgique fait partie du groupe F, avec le Canada, le Maroc et la Croatie.

### 1. Complète le tableau des scores.

	Belgique	Maroc	Canada	Croatie
Belgique		... / ...	... / ...	... / ...
Maroc	... / ...		... / ...	... / ...
Canada	... / ...	... / ...		... / ...
Croatie	... / ...	... / ...	... / ...	

### 2. Calcule le nombre de buts obtenus par chaque pays.

Belgique:

Maroc:

Canada:

Croatie:

### 3. Classe les pays.

1. ....

2. ....

3. ....

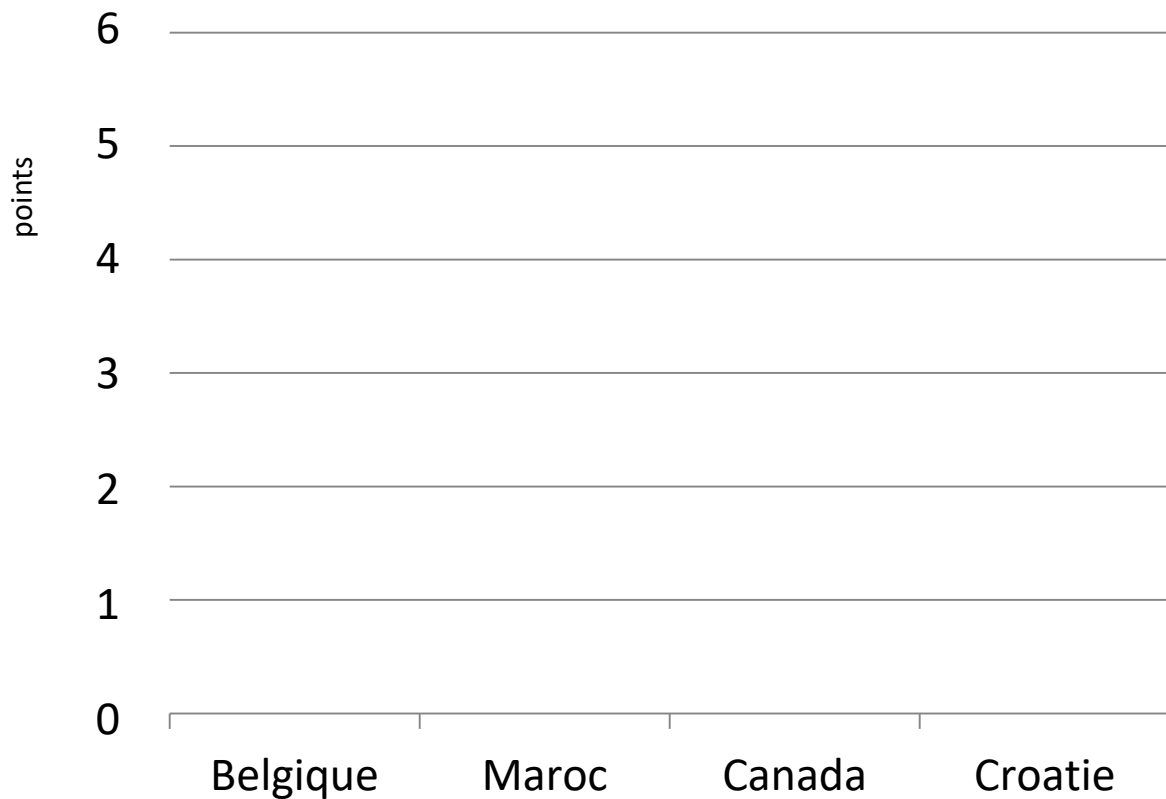
4. ....

Date: .....

Prenom: .....

Eveil

**4. Représente les points obtenus pour chaque pays sur le graphique.**



Les 2 pays éliminés sont: ..... et .....



Date: .....

Prenom: .....

# 5. Cartes et drapeaux des 4 pays du groupe F .

## 1. LA BELGIQUE

--	--	--



Le continent auquel la Belgique appartient c'est:


.....

Date: .....

Prenom: .....

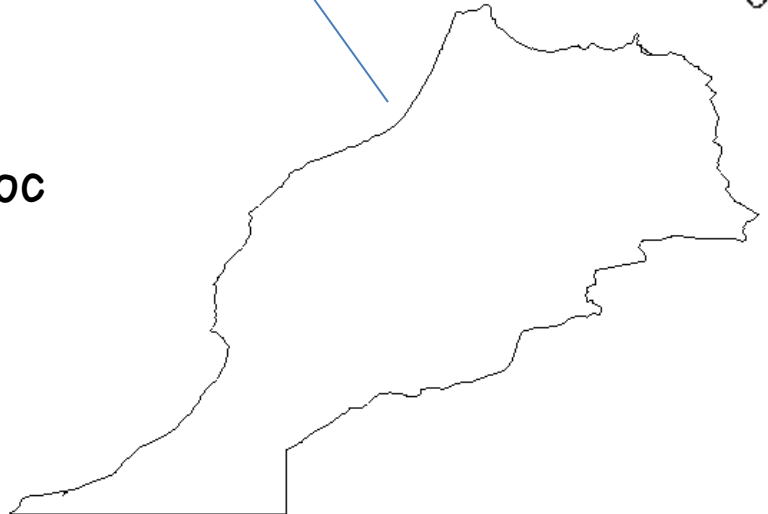
Eveil

## 2. L E M A R O C



Le continent auquel le Maroc appartient c'est:

.....




Date: .....

Prenom: .....

Eveil

### 3. LE CANADA



Le continent auquel le Canada appartient c'est:

.....

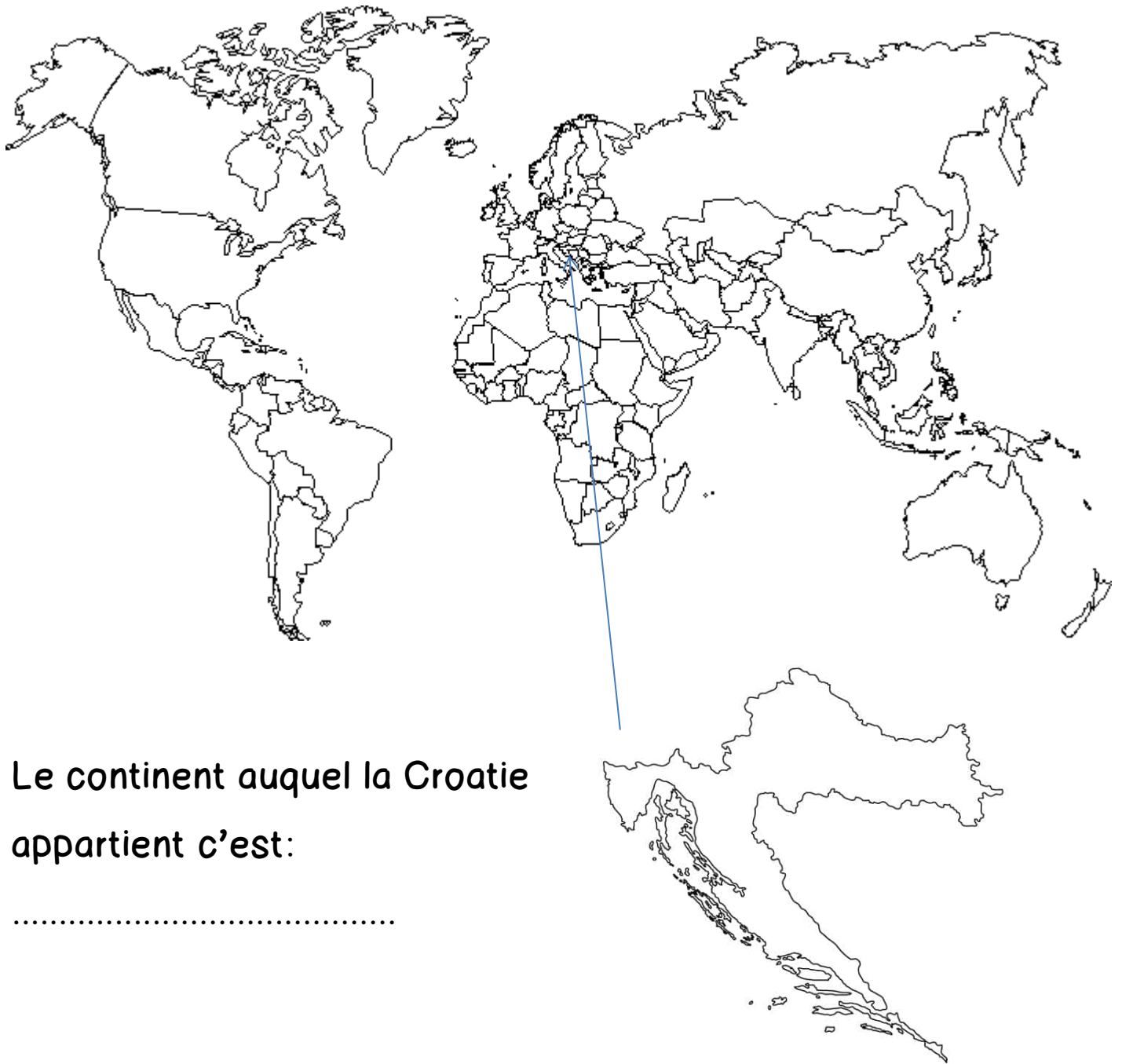



Date: .....

Prenom: .....

Eveil

## 4. LA CROATIE



Le continent auquel la Croatie appartient c'est:

.....

Date: .....

Prénom: .....

Eveil

## Coupe du monde 2022: Les pays dans le groupe des Belges.

La Belgique fait partie du groupe F, avec le Canada, le Maroc et la Croatie.

Complète le tableau des scores.

	Belgique	Maroc	Canada	Croatie
Belgique		0/2	1/0	0/0
Maroc	2/0		2/0	0/0
Canada	0/1	1/2		1/4
Croatie	0/0	0/0	.4/1	

### 2. Calcule le nombre de buts obtenus par chaque pays.

Belgique: 1

Maroc: 4

Canada: 2

Croatie: 4

### 3. Classe les pays.

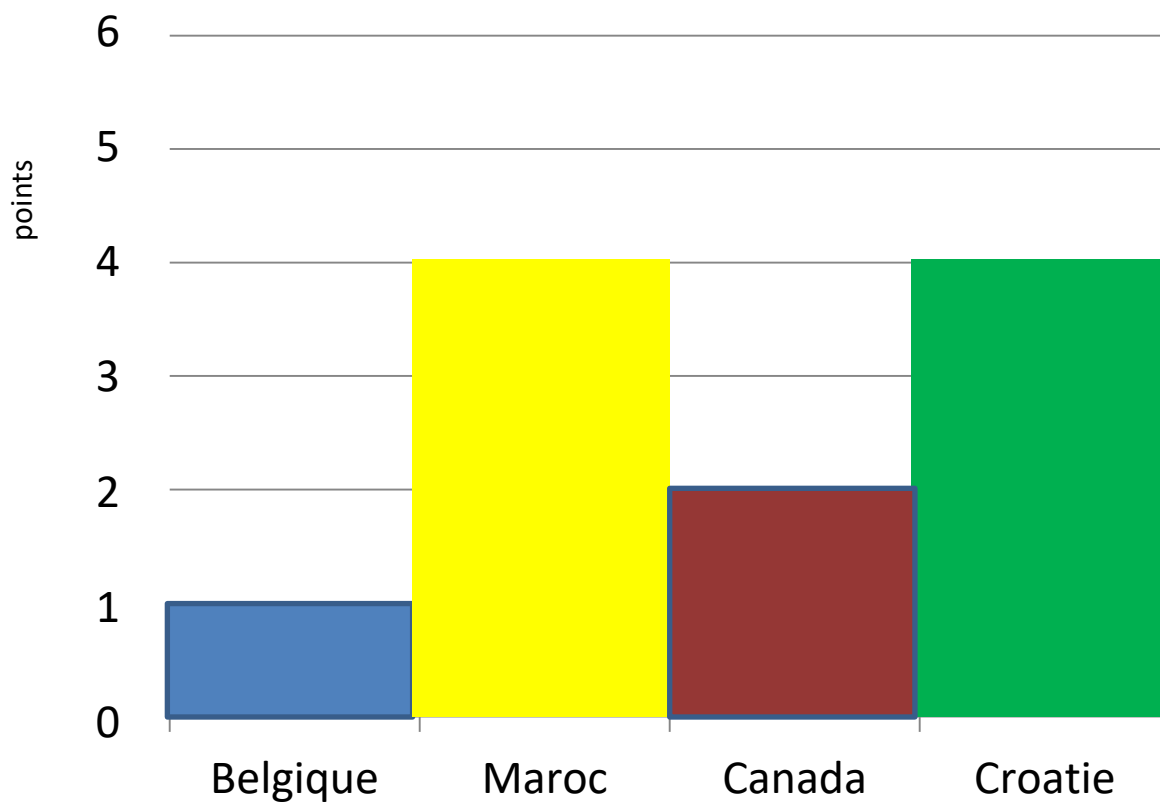
1. Maroc

2. Croatie

3. Canada

4. Belgique

**4. Représente les points obtenus pour chaque pays sur le graphique.**



Les 2 pays éliminés sont: **la Belgique** et **le Canada**





## 5. Cartes et drapeaux des 4 pays du groupe F .

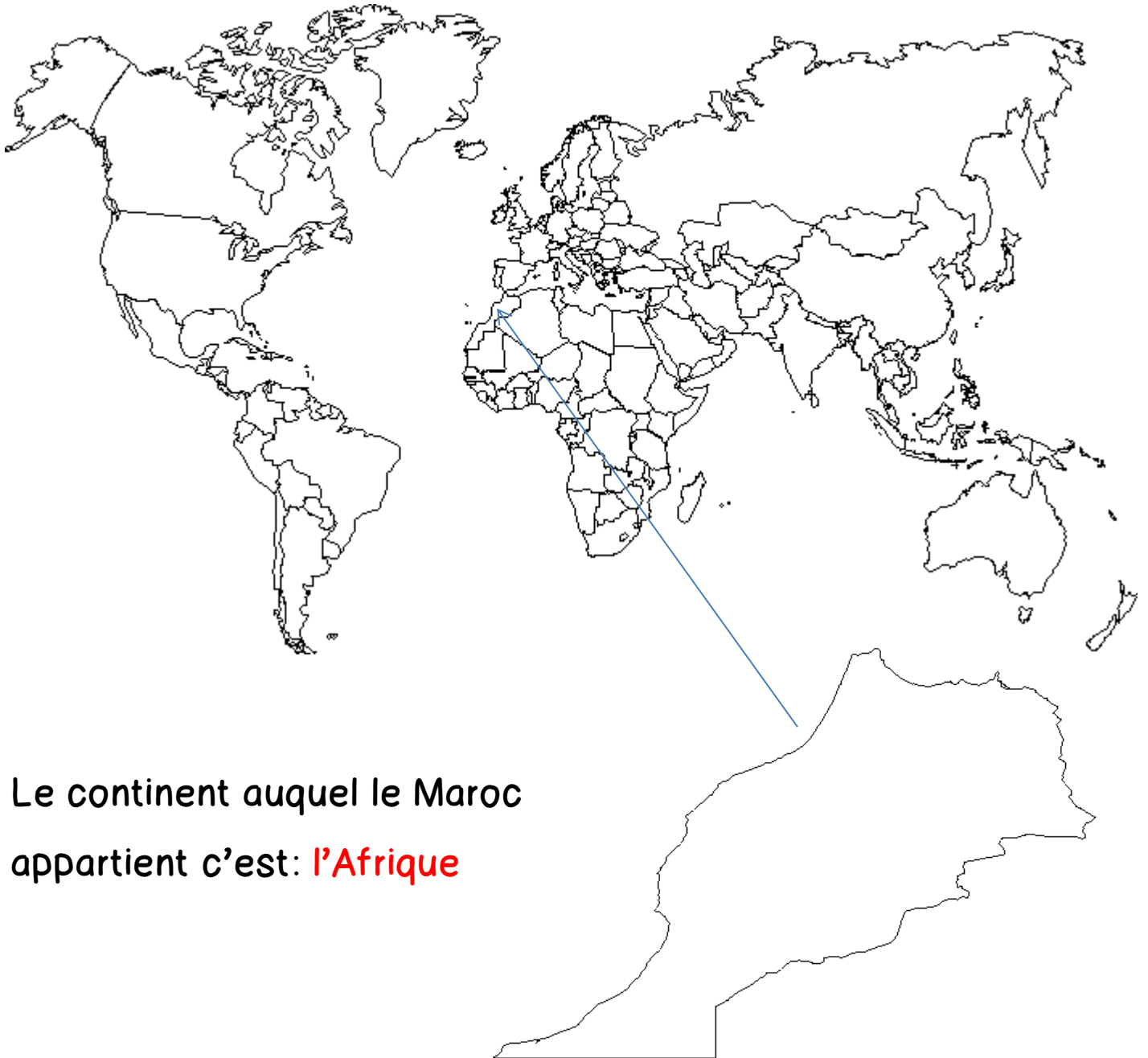

### 1. LA BELGIQUE



Le continent auquel la  
Belgique appartient c'est:

**l'Europe**

## 2. L E M A R O C



Le continent auquel le Maroc appartient c'est: **Afrique**

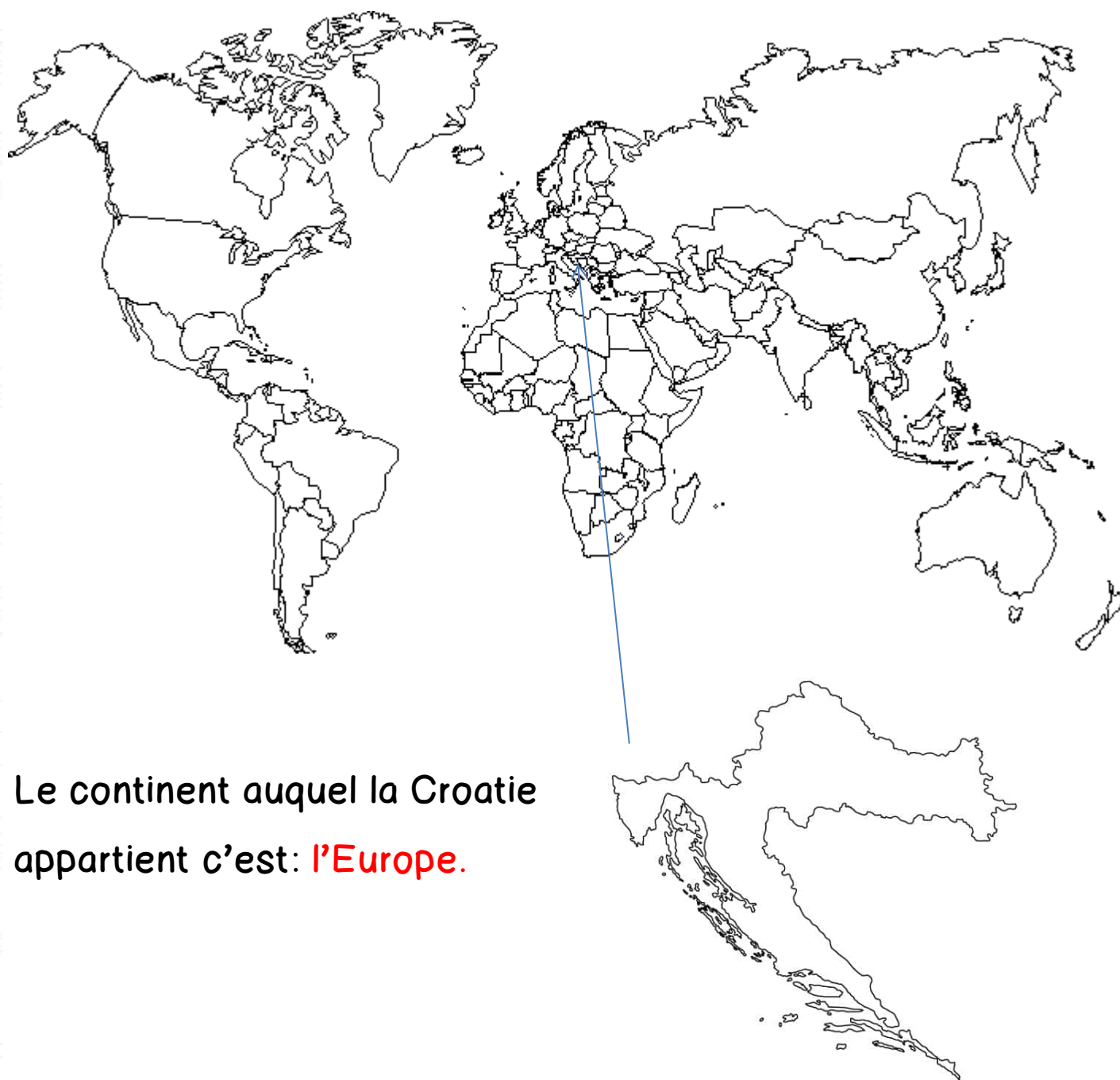
### 3. LE CANADA



Le continent auquel le Canada appartient c'est: **l'Amérique**



## 4. LA CROATIE



Le continent auquel la Croatie appartient c'est: **l'Europe.**