



✓ Je sais nommer, lire et écrire les nombres jusqu'à 79.

Tous les nombres de 60 à 79 commencent par le mot soixante.



soixante-deux  
62  
 $60 + 2$

soixante-douze  
72  
 $60 + 12$



1 Écris les nombres dans les cases jaunes.

60		.....		64		.....		68	
.....	71		.....		75	76	.....		.....

2 Écris les nombres en chiffres.



soixante-et-un

61

soixante-quatorze

soixante-quinze

soixante-dix-huit

soixante-quatre

soixante-huit

3 Écris les nombres en lettres.



78

soixante-dix-huit

70

60

67

71

Relie.

26

23

42

35

37

46

59

54

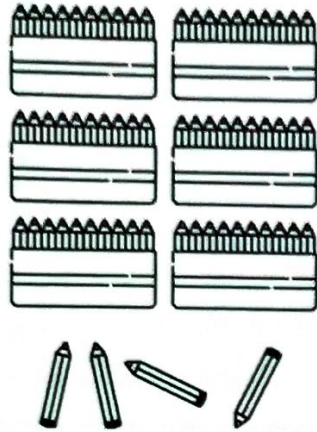
58

51



Barre les écritures qui ne correspondent pas au schéma.

4



$60+4$

74

64

4u 6d

46

soixante-quatre


~~5d 2u~~

6d 4u

4d 6u

$60+14$

cinquante-quatre



soixante-quinze

5d 7u

75

6d 15u

$60+5$

57

65

7d 5u

$60+15$

soixante-cinq

Calcule.

5

$10+10+10+10+10+10= \dots\dots$

$10+10+10+10+10+10+1= \dots\dots$

$10+10+10+10+10+10+10+8= \dots\dots$

$5+10+10+10+10+10+10+10= \dots\dots$

$10+10+10+10+10+10+10= \dots\dots$

$60+5= \dots\dots$

$60+15= \dots\dots$

$60+1= \dots\dots$

$60+11= \dots\dots$

$60+10= \dots\dots$

$70+6= \dots\dots$

$60+9= \dots\dots$

$70+8= \dots\dots$

$60+6= \dots\dots$

$70+7= \dots\dots$

Écris les nombres en chiffres.

6

a) 5d 8u

c) 7d 6u

e) 6d 3u

b) 6d 5u

d) 6d 13u

f) 7d

Dans chaque case, retrouve les trois points alignés. Trace le segment qui relie ces trois points.

