

le nombre vedette est...




écris


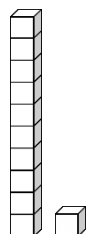




Entoure un paquet d'autant de soleils que le nombre de la semaine



Dessine le nombre de la semaine en utilisant des barres pour les dizaines et des carrés pour les unités



Complète les zones du tableau des cents colorées

