

Résolution de problèmes Ce2 : (1)

comprendre l'énoncé : faire un schéma

Choisir l'opération. / Repérer l'unité demandée!. Rédiger une phrase réponse.

Prénom :

Date :

1

Pour chaque problème, fais un schéma pour représenter la situation et t'aider à le résoudre :

<p>Monsieur Boitout transporte 3 packs d'eau de 6 bouteilles chacun.</p> <p>Combien de bouteilles transporte-t-il ?</p>	
<p>Léo construit une tour de légos : il a placé une première partie constituée de 56 légos. Avec sa seconde partie, la tour contient 169 légos.</p> <p>Combien y a-t-il de légos dans la seconde partie de la tour ?</p>	
<p>Ma maman a profité des soldes pour acheter des vêtements. Elle a acheté 2 pulls à 15€, 4 paires de chaussettes taille 31 à 2€ et 1 chemise taille 8 ans à 18€.</p> <p>Combien lui ont coûté ses achats ?</p>	

Date :

2

Pour chaque problème suivant, écris l'opération nécessaire pour le résoudre :

<p>Monsieur Boitout transporte 3 packs d'eau de 6 bouteilles chacun.</p> <p>Combien de bouteilles transporte-t-il ?</p>		★
<p>Léo construit une tour de légos : il a placé une première partie constituée de 56 légos. Avec sa seconde partie, la tour contient 169 légos.</p> <p>Combien y a-t-il de légos dans la seconde partie de la tour ?</p>		★
<p>Ma maman a profité des soldes pour acheter des vêtements. Elle a acheté 2 pulls à 15€, 4 paires de chaussettes taille 31 à 2€ et 1 chemise taille 8 ans à 18€.</p> <p>Combien lui ont coûté ses achats ?</p>		★

Résolution de problèmes Ce2 : (2)




comprendre l'énoncé : faire un schéma

Choisir l'opération. / Repérer l'unité demandée/. Rédiger une phrase réponse.

Prénom :

Date :





3 Pour chaque problème indique l'unité que tu utiliseras dans la phrase réponse :

Monsieur Boitout transporte 3 packs d'eau de 6 bouteilles chacun. Combien de bouteilles transporte-t-il ?	
Léo construit une tour de légos : il a placé une première partie constituée de 56 légos. Avec sa seconde partie, la tour contient 169 légos. Combien y a-t-il de légos dans la seconde partie de la tour ?	
Ma maman a profité des soldes pour acheter des vêtements. Elle a acheté 2 pulls à 15€, 4 paires de chaussettes taille 31 à 2€ et 1 chemise taille 8 ans à 18€. Combien lui ont coûté ses achats ?	

Date :

4

Pour chaque problème écris la phrase réponse qui convient :

Monsieur Boitout transporte 3 packs d'eau de 6 bouteilles chacun. Combien de bouteilles transporte-t-il ?	 
Léo construit une tour de légos : il a placé une première partie constituée de 56 légos. Avec sa seconde partie, la tour contient 169 légos. Combien y a-t-il de légos dans la seconde partie de la tour ?	 
Ma maman a profité des soldes pour acheter des vêtements. Elle a acheté 2 pulls à 15€, 4 paires de chaussettes taille 31 à 2€ et 1 chemise taille 8 ans à 18€. Combien lui ont coûté ses achats ?	