



tracer un segment, une droite, une
demi-droite.

Nom : _____




tracer un segment, une droite, une
demi-droite.

Nom : _____




tracer un segment, une droite, une
demi-droite.

Nom : _____




tracer un segment, une droite, une
demi-droite.

Nom : _____




tracer un segment, une droite, une
demi-droite.

Nom : _____




tracer un segment, une droite, une
demi-droite.

Nom : _____




reconnaitre des points alignés.

Nom : _____




reconnaitre des points alignés.

Nom : _____




reconnaitre des points alignés.

Nom : _____




reconnaitre des points alignés.

Nom : _____




reconnaitre des points alignés.

Nom : _____




reconnaitre des points alignés.

Nom : _____




Tracer des points alignés.

Nom : _____




Tracer des points alignés.

Nom : _____




Tracer des points alignés.

Nom : _____




Tracer des points alignés.

Nom : _____




Tracer des points alignés.

Nom : _____



Tracer des points alignés.

Nom : _____



reconnaitre des droites
perpendiculaires.

Nom : _____




reconnaitre des droites
perpendiculaires.

Nom : _____




reconnaitre des droites
perpendiculaires.

Nom : _____




reconnaitre des droites
perpendiculaires.

Nom : _____




reconnaitre des droites
perpendiculaires.

Nom : _____




reconnaitre des droites
perpendiculaires.

Nom : _____




tracer des droites perpendiculaires.

Nom : _____




tracer des droites perpendiculaires.

Nom : _____




tracer des droites perpendiculaires.

Nom : _____




tracer des droites perpendiculaires.

Nom : _____




tracer des droites perpendiculaires.

Nom : _____




tracer des droites perpendiculaires.

Nom : _____




reconnaitre des droites parallèles.

Nom : _____




reconnaitre des droites parallèles.

Nom : _____




reconnaitre des droites parallèles.

Nom : _____




reconnaitre des droites parallèles.

Nom : _____




reconnaitre des droites parallèles.

Nom : _____




reconnaitre des droites parallèles.

Nom : _____




tracer des droites parallèles.

Nom : _____




tracer des droites parallèles.

Nom : _____




tracer des droites parallèles.

Nom : _____




tracer des droites parallèles.

Nom : _____




tracer des droites parallèles.

Nom : _____




tracer des droites parallèles.

Nom : _____




Reconnaitre et décrire un carré.

Nom : _____




Reconnaitre et décrire un carré.

Nom : _____




Reconnaitre et décrire un carré.

Nom : _____




Reconnaitre et décrire un carré.

Nom : _____




Reconnaitre et décrire un carré.

Nom : _____




Reconnaitre et décrire un carré.

Nom : _____




Tracer et reproduire un carré.

Nom : _____




Tracer et reproduire un carré.

Nom : _____




Tracer et reproduire un carré.

Nom : _____




Tracer et reproduire un carré.

Nom : _____




Tracer et reproduire un carré.

Nom : _____




Tracer et reproduire un carré.

Nom : _____




Reconnaitre et décrire le rectangle.

Nom : _____




Reconnaitre et décrire le rectangle.

Nom : _____




Reconnaitre et décrire le rectangle.

Nom : _____




Reconnaitre et décrire le rectangle.

Nom : _____




Reconnaitre et décrire le rectangle.

Nom : _____




Reconnaitre et décrire le rectangle.

Nom : _____




Tracer et reproduire un rectangle.

Nom : _____




Tracer et reproduire un rectangle.

Nom : _____




Tracer et reproduire un rectangle.

Nom : _____




Tracer et reproduire un rectangle.

Nom : _____




Tracer et reproduire un rectangle.

Nom : _____




Tracer et reproduire un rectangle.

Nom : _____




Reconnaitre et décrire un losange.

Nom : _____




Reconnaitre et décrire un losange.

Nom : _____




Reconnaitre et décrire un losange.

Nom : _____




Reconnaitre et décrire un losange.

Nom : _____




Reconnaitre et décrire un losange.

Nom : _____




Reconnaitre et décrire un losange.

Nom : _____




Tracer et reproduire un losange.

Nom : _____




Tracer et reproduire un losange.

Nom : _____




Tracer et reproduire un losange.

Nom : _____




Tracer et reproduire un losange.

Nom : _____




Tracer et reproduire un losange.

Nom : _____




Tracer et reproduire un losange.

Nom : _____




Construire un cercle.

Nom : _____




Construire un cercle.

Nom : _____




Construire un cercle.

Nom : _____




Construire un cercle.

Nom : _____




Construire un cercle.

Nom : _____




Construire un cercle.

Nom : _____




les propriétés des différents triangles

Nom : _____




les propriétés des différents triangles

Nom : _____




les propriétés des différents triangles

Nom : _____




les propriétés des différents triangles

Nom : _____




les propriétés des différents triangles

Nom : _____




les propriétés des différents triangles

Nom : _____




tracer un triangle sur papier uni.

Nom : _____




tracer un triangle sur papier uni.

Nom : _____




tracer un triangle sur papier uni.

Nom : _____




tracer un triangle sur papier uni.

Nom : _____




tracer un triangle sur papier uni.

Nom : _____




tracer un triangle sur papier uni.

Nom : _____




Trouver les axes de symétrie dans
une figure.

Nom : _____




Trouver les axes de symétrie dans
une figure.

Nom : _____




Trouver les axes de symétrie dans
une figure.

Nom : _____




Trouver les axes de symétrie dans
une figure.

Nom : _____




Trouver les axes de symétrie dans
une figure.

Nom : _____




Trouver les axes de symétrie dans
une figure.

Nom : _____




Tracer le symétrique d'une figure.

Nom : _____




Tracer le symétrique d'une figure.

Nom : _____




Tracer le symétrique d'une figure.

Nom : _____




Tracer le symétrique d'une figure.

Nom : _____




Tracer le symétrique d'une figure.

Nom : _____




Tracer le symétrique d'une figure.

Nom : _____




Compléter une figure par symétrie.

Nom : _____




Compléter une figure par symétrie.

Nom : _____




Compléter une figure par symétrie.

Nom : _____




Compléter une figure par symétrie.

Nom : _____




Compléter une figure par symétrie.

Nom : _____




Compléter une figure par symétrie.

Nom : _____




Reproduire des figures

Nom : _____




Reproduire des figures

Nom : _____




Reproduire des figures

Nom : _____




Reproduire des figures

Nom : _____




Reproduire des figures

Nom : _____




Reproduire des figures

Nom : _____




compter le nombre de faces d'un solide

Nom : _____




compter le nombre de faces d'un solide

Nom : _____




compter le nombre de faces d'un solide

Nom : _____




compter le nombre de faces d'un solide

Nom : _____




compter le nombre de faces d'un solide

Nom : _____




compter le nombre de faces d'un solide

Nom : _____




compter le nombre d'arêtes d'un solide.

Nom : _____




compter le nombre d'arêtes d'un solide.

Nom : _____




compter le nombre d'arêtes d'un solide.

Nom : _____




compter le nombre d'arêtes d'un solide.

Nom : _____




compter le nombre d'arêtes d'un solide.

Nom : _____




compter le nombre d'arêtes d'un solide.

Nom : _____




compter le nombre de sommets d'un solide.

Nom : _____




compter le nombre de sommets d'un solide.

Nom : _____




compter le nombre de sommets d'un solide.

Nom : _____




compter le nombre de sommets d'un solide.

Nom : _____




compter le nombre de sommets d'un solide.

Nom : _____




compter le nombre de sommets d'un solide.

Nom : _____




Reconnaitre, nommer, reproduire les
cubes.

Nom : _____




Reconnaitre, nommer, reproduire les
cubes.

Nom : _____




Reconnaitre, nommer, reproduire les
cubes.

Nom : _____




Reconnaitre, nommer, reproduire les
cubes.

Nom : _____




Reconnaitre, nommer, reproduire les
cubes.

Nom : _____




Reconnaitre, nommer, reproduire les
cubes.

Nom : _____




Reconnaitre, nommer, reproduire les pavés.

Nom : _____




Reconnaitre, nommer, reproduire les pavés.

Nom : _____




Reconnaitre, nommer, reproduire les pavés.

Nom : _____




Reconnaitre, nommer, reproduire les pavés.

Nom : _____




Reconnaitre, nommer, reproduire les pavés.

Nom : _____




Reconnaitre, nommer, reproduire les pavés.

Nom : _____




Reconnaitre, nommer, reproduire les
prismes.

Nom : _____




Reconnaitre, nommer, reproduire les
prismes.

Nom : _____




Reconnaitre, nommer, reproduire les
prismes.

Nom : _____




Reconnaitre, nommer, reproduire les
prismes.

Nom : _____




Reconnaitre, nommer, reproduire les
prismes.

Nom : _____




Reconnaitre, nommer, reproduire les
prismes.

Nom : _____




Reconnaitre, nommer, reproduire les pyramides.

Nom : _____




Reconnaitre, nommer, reproduire les pyramides.

Nom : _____




Reconnaitre, nommer, reproduire les pyramides.

Nom : _____




Reconnaitre, nommer, reproduire les pyramides.

Nom : _____




Reconnaitre, nommer, reproduire les pyramides.

Nom : _____




Reconnaitre, nommer, reproduire les pyramides.

Nom : _____




associer un solide à son patron.

Nom : _____




associer un solide à son patron.

Nom : _____




associer un solide à son patron.

Nom : _____




associer un solide à son patron.

Nom : _____



associer un solide à son patron.

Nom : _____



associer un solide à son patron.

Nom : _____

