

Prénom: \_\_\_\_\_

Numération

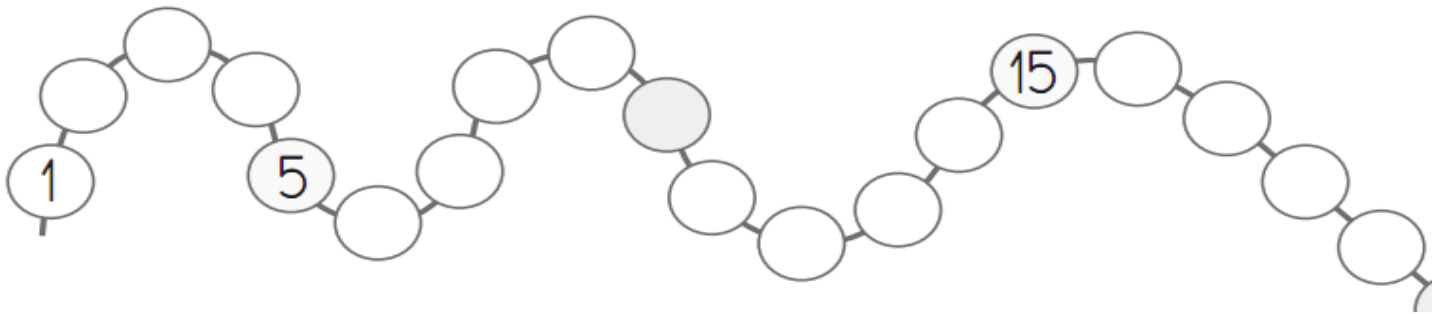
Date: \_\_\_\_\_

Construit la file numérique en collant les étiquettes.

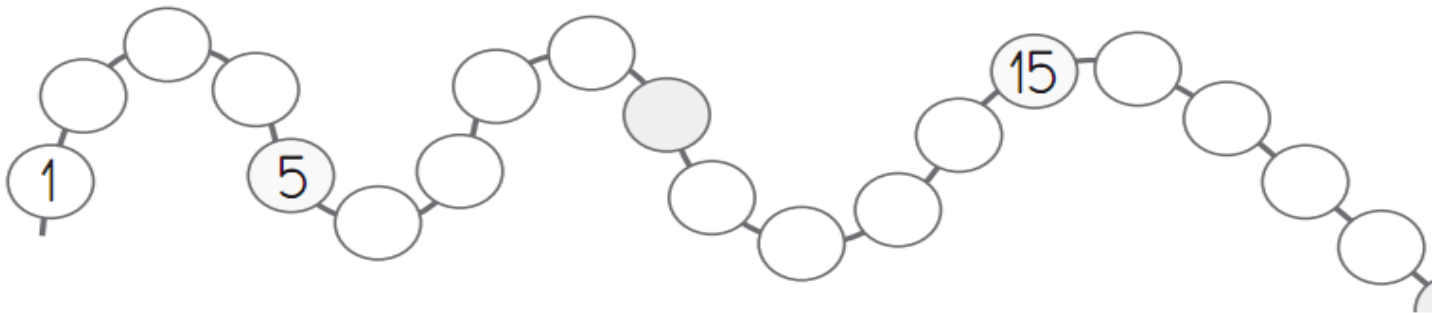
--	--	--	--	--	--	--	--	--	--

--	--	--	--	--	--	--	--	--	--

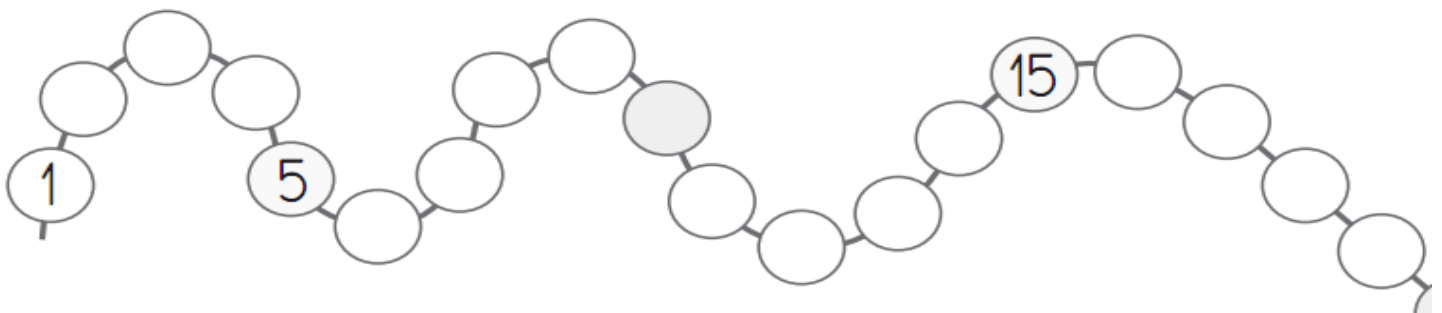
Trouve le nombre dicté et dessine le signe correspondant.



Ecris les nombres qui manquent.



Ecris chaque nombre à sa place. 9 12 6 14 3 18



6	18	1	13	8	4	17	11	3	14
---	----	---	----	---	---	----	----	---	----

10	2	16	7	19	0	12	9	15	5
----	---	----	---	----	---	----	---	----	---

6	18	1	13	8	4	17	11	3	14
---	----	---	----	---	---	----	----	---	----

10	2	16	7	19	0	12	9	15	5
----	---	----	---	----	---	----	---	----	---

6	18	1	13	8	4	17	11	3	14
---	----	---	----	---	---	----	----	---	----

10	2	16	7	19	0	12	9	15	5
----	---	----	---	----	---	----	---	----	---

6	18	1	13	8	4	17	11	3	14
---	----	---	----	---	---	----	----	---	----

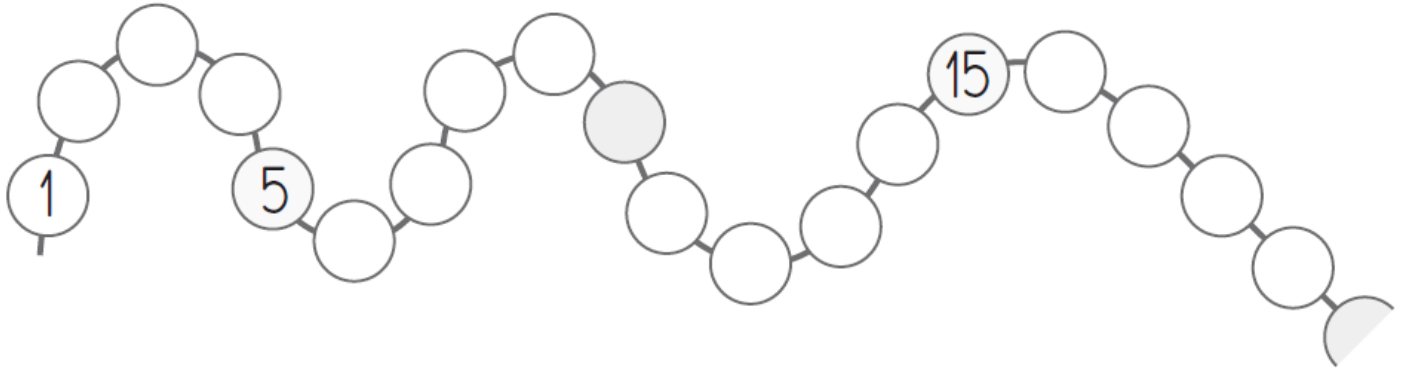
10	2	16	7	19	0	12	9	15	5
----	---	----	---	----	---	----	---	----	---

Prénom: \_\_\_\_\_

Numération

Date: \_\_\_\_\_

1- Ecris chaque nombre à sa place: 7 - 11 - 18 - 9 - 13 - 4 - 17



2- Entoure le plus grand des trois nombres.

3- Ecris les nombres du plus petit au plus grand.


↑  
Le plus petit ici

Prénom: \_\_\_\_\_

Numération

Date: \_\_\_\_\_

Ecris le nombre dicté.



Ecris le nombre qui vient après.

11 ⇒ \_\_\_\_\_

18 ⇒ \_\_\_\_\_

16 ⇒ \_\_\_\_\_

15 ⇒ \_\_\_\_\_

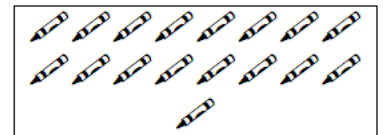
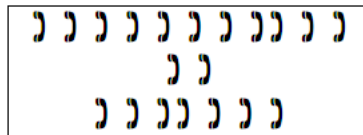

9 ⇒ \_\_\_\_\_

12 ⇒ \_\_\_\_\_

17 ⇒ \_\_\_\_\_

14 ⇒ \_\_\_\_\_


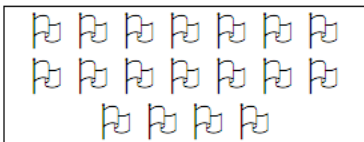
Relie chaque collection au bon résultat.



17

18

19



Ecris les nombres qui manquent.

0	1			4	5		7		
10	11		13	14			17	18	

Prénom: \_\_\_\_\_

Numération

Date: \_\_\_\_\_

Ecris le nombre en chiffre dans la bonne case.

huit	
trois	
six	
neuf	
un	

deux	
cinq	
sept	
dix	
quatre	

Ecris le nombre en lettres dans la bonne case.

4	
7	
1	
9	
6	

3	
8	
6	
10	
2	

Prénom: \_\_\_\_\_

Numération

Date: \_\_\_\_\_

Ecris le nombre en lettres.

9

3

6

8

5

7

2

10

1

4

Ecris le nombre en chiffres.

quatre

sept

dix

deux

cinq

trois

un

huit

neuf

six

Prénom: \_\_\_\_\_

Numération

Date: \_\_\_\_\_

Ecris le nombre en lettres.

9


3

6

8

5

7


2

10

1

4

Dessine le bon nombre de billes.

trois	huit	cinq	sept	un

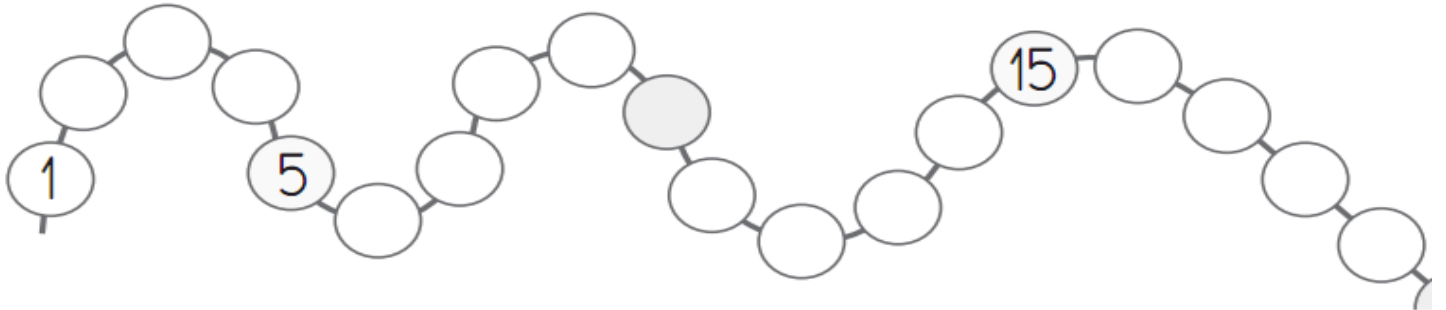
quatre	six	dix	deux	neuf

Prénom: \_\_\_\_\_

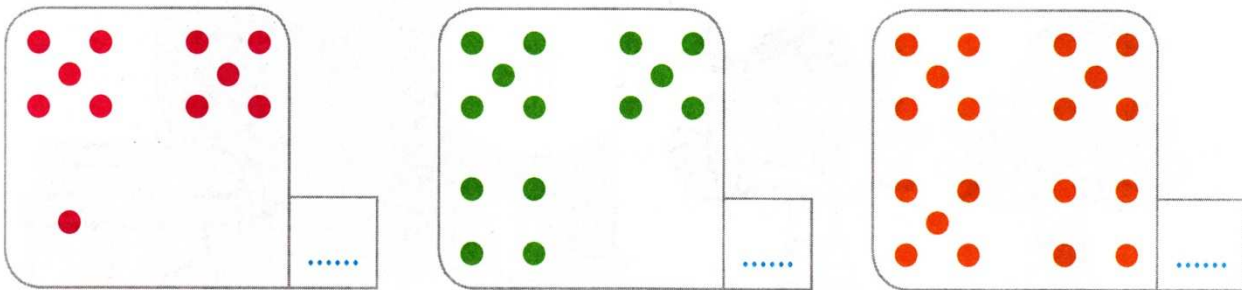
Numération

Date: \_\_\_\_\_

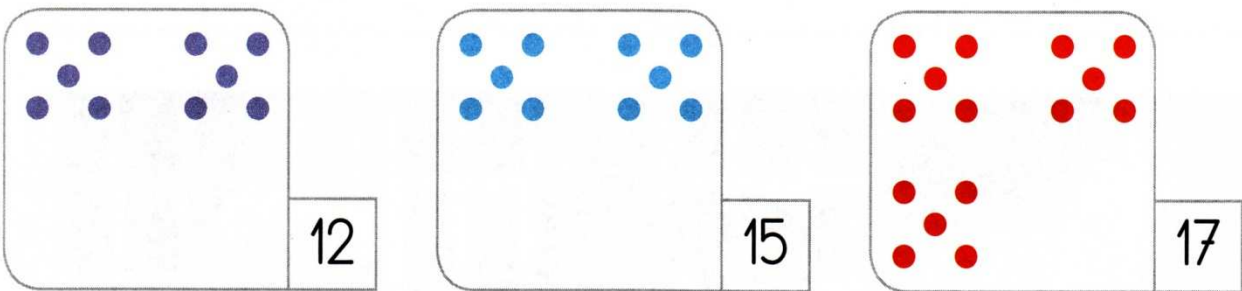
Trouve le nombre dicté et dessine le signe correspondant en dessous.



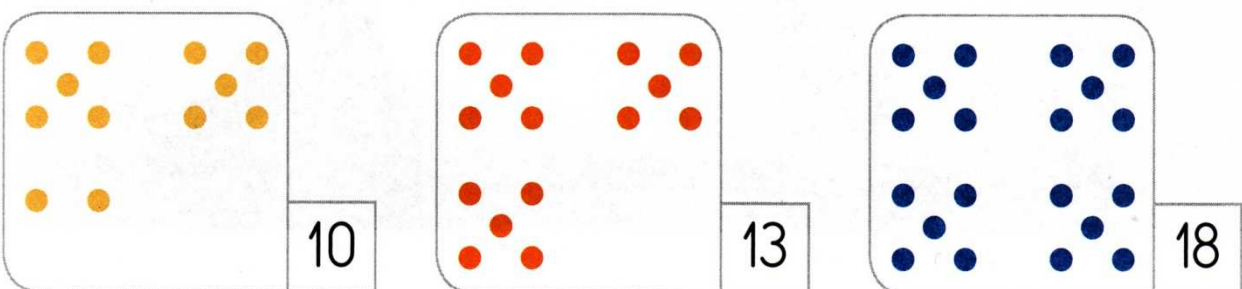
Ecris le nombre de points.



Complète pour avoir le bon nombre de points.



Barre les points qui sont en trop.





Prénom: \_\_\_\_\_

Numération

Date: \_\_\_\_\_

Ecris le nombre en lettres.

3

8

5

9

1

6

10

2

7

4

Colorie de la même couleur quand il s'agit du même nombre.

4	neuf	●	2	trois	●●●●●
deux	●●●	6	sept	●●●●● ●●●●	7
1	●●●●● ●●	cinq	8	dix	●●●●●
huit	9	●●●●● ●●●●●	un	●●●●● ●●●	3
●●	quatre	5	●●●●● ●	10	six

Prénom: \_\_\_\_\_

Date: \_\_\_\_\_

Ecris les nombres dictée.

Ecris les nombres qui suivent et ceux qui précèdent.

\_\_\_\_\_ 2 \_\_\_\_\_

\_\_\_\_\_ 5 \_\_\_\_\_

\_\_\_\_\_ 8 \_\_\_\_\_

\_\_\_\_\_ 10 \_\_\_\_\_

\_\_\_\_\_ 15 \_\_\_\_\_

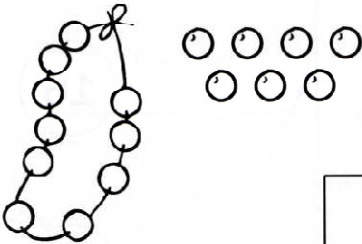




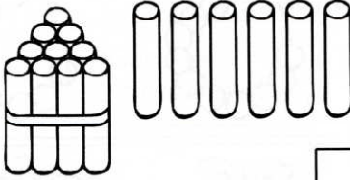


\_\_\_\_\_ 18 \_\_\_\_\_

\_\_\_\_\_ 9 \_\_\_\_\_

\_\_\_\_\_ 17 \_\_\_\_\_

\_\_\_\_\_ 13 \_\_\_\_\_

Ecris le nombre d'objet dans chaque case en faisant des paquets de 10.

 <input type="text"/>	 <input type="text"/>
 <input type="text"/>	 <input type="text"/>
 <input type="text"/>	 <input type="text"/>
 <input type="text"/>	 <input type="text"/>