


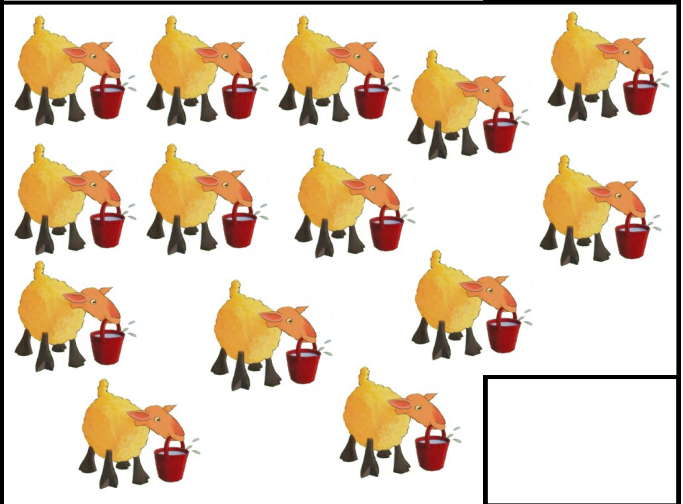

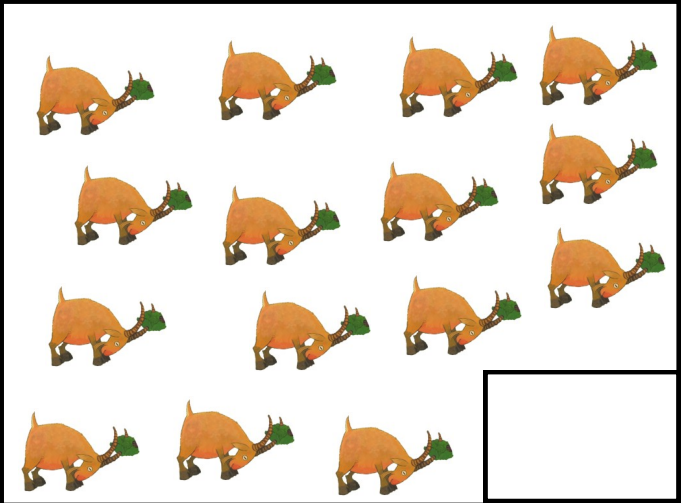




Date :

Objectif : dénombrer jusqu'à 16

- écrire les nombres jusqu'à 16

Compte les personnages et écris le nombre que tu as trouvé dans le carré.



 Continue l'algorithme

7 7 8 9



Date :

Objectif : dénombrer jusqu'à 16

- écrire les nombres jusqu'à 16

Compte les personnages et écris le nombre que tu as trouvé dans le carré.

13


15

12

14

16

11

 Continue l'algorithme

7 7 8 9



.....
Date : _____

Objectif : Reconnaître l'écriture chiffrée des nombres jusqu'à 20
Dénombrer jusqu'à 20

Trouve la collection correspondant au nombre demandé et colle la

11 →

13 →

15 →

17 →

19 →

12 →

14 →

16 →

18 →

