



Parcours 1 d'entraînement Ceinture Blanche de Calcul

- Relis les leçons CAL2 et CAL3

- Exercices à faire sur le cahier iparcours CM1.

Exercices 1, 2, 3, 4 page 13

Exercices 1 et 2 page 14

- Corrige ces exercices en utilisant le classeur de corrections CM1

- Si tu as beaucoup d'erreurs tu peux reprendre la vidéo et les exercices en ligne.

- Demande à passer le test 1

CAL2



CAL3



Parcours 1 d'entraînement Ceinture Blanche de Calcul

- Relis les leçons CAL2 et CAL3

- Exercices à faire sur le cahier iparcours CM1.

Exercices 1, 2, 3, 4 page 13

Exercices 1 et 2 page 14

- Corrige ces exercices en utilisant le classeur de corrections CM1

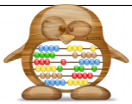
- Si tu as beaucoup d'erreurs tu peux reprendre la vidéo et les exercices en ligne.

- Demande à passer le test 1

CAL2



CAL3



Parcours 1 d'entraînement Ceinture Blanche de Calcul

- Relis les leçons CAL2 et CAL3

- Exercices à faire sur le cahier iparcours CM1.

Exercices 1, 2, 3, 4 page 13

Exercices 1 et 2 page 14

- Corrige ces exercices en utilisant le classeur de corrections CM1

- Si tu as beaucoup d'erreurs tu peux reprendre la vidéo et les exercices en ligne.

- Demande à passer le test 1

CAL2



CAL3





Parcours 1 d'entraînement Ceinture Jaune de Calcul

- Relis la leçon CAL4

- Exercices à faire sur le cahier iparcours CM1.

Exercices 1, 2, 3, 4 et 5 page 15

- Corrige ces exercices en utilisant le classeur de corrections CM1

- Si tu as beaucoup d'erreurs tu peux reprendre la vidéo et les exercices en ligne.

- Demande à passer le test 1



Parcours 1 d'entraînement Ceinture Jaune de Calcul

- Relis la leçon CAL4

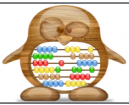
- Exercices à faire sur le cahier iparcours CM1.

Exercices 1, 2, 3, 4 et 5 page 15

- Corrige ces exercices en utilisant le classeur de corrections CM1

- Si tu as beaucoup d'erreurs tu peux reprendre la vidéo et les exercices en ligne.

- Demande à passer le test 1



Parcours 1 d'entraînement Ceinture Jaune de Calcul

- Relis la leçon CAL4

- Exercices à faire sur le cahier iparcours CM1.

Exercices 1, 2, 3, 4 et 5 page 15

- Corrige ces exercices en utilisant le classeur de corrections CM1

- Si tu as beaucoup d'erreurs tu peux reprendre la vidéo et les exercices en ligne.

- Demande à passer le test 1





Parcours 1 d'entraînement Ceinture Orange de Calcul

- Relis la leçon CAL5

- Exercices à faire sur le cahier iparcours CM1.

Exercices 1, 2, 3 et 4 page 17

- Corrige ces exercices en utilisant le classeur de corrections CM1

- Si tu as beaucoup d'erreurs tu peux reprendre la vidéo et les exercices en ligne.

- Demande à passer le test 1



Parcours 1 d'entraînement Ceinture Orange de Calcul

- Relis la leçon CAL5


- Exercices à faire sur le cahier iparcours CM1.

Exercices 1, 2, 3 et 4 page 17

- Corrige ces exercices en utilisant le classeur de corrections CM1

- Si tu as beaucoup d'erreurs tu peux reprendre la vidéo et les exercices en ligne.

- Demande à passer le test 1



Parcours 1 d'entraînement Ceinture Orange de Calcul

- Relis la leçon CAL5

- Exercices à faire sur le cahier iparcours CM1.

Exercices 1, 2, 3 et 4 page 17

- Corrige ces exercices en utilisant le classeur de corrections CM1

- Si tu as beaucoup d'erreurs tu peux reprendre la vidéo et les exercices en ligne.

- Demande à passer le test 1





Parcours 1 d'entraînement Ceinture Verte de Calcul

- Relis la leçon CAL6

- Exercices à faire au feutre.

Retrouve et place le résultat qui convient pour chaque opération.

$$3\ 605 - 798 = \underline{\hspace{2cm}} \quad 275 \times 14 = \underline{\hspace{2cm}}$$

$$134 \times 4 \times 9 = \underline{\hspace{2cm}} \quad 728 + 396 + 136 = \underline{\hspace{2cm}}$$

2 807

4 824

3 850

1 260

Pour chaque opération, retrouve et écris sur les touches le signe qui manque +, - ou x.
Vérifie avec ta calculatrice.

286 39 = 247

971 376 = 1 347

405 187 = 592

124 3 = 372

86 2 = 172

901 671 = 230

Utilise ta calculatrice pour découvrir les mots cachés. Effectue les opérations puis retourne la calculatrice et trouve les mots cachés.

La semaine dernière, 1 et 2 copines sont venues chez moi pour jouer aux 3 . 4 5 roulaient sur le 6 7 montaient sur 8 9 . Pour finir 10 descendaient le long d'une 11 fontaine de 12 .

1 702146 : 2

2 10x10x10-465

3 13 567 + 255 292 x 2

4 2 685 : 5

5 2x3x4x5x6x7x8x9 + 174 838

6 705 - 50 x 3 + 150 : 3

7 53,773 x 1000

8 9 x 25 x 4 + 174 : 2

9 530 000 + 5 000 + 500 + 8

10 6 614 079 : 123

11 99 999 : 3 + 4405

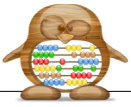
12 300 : 2 - 3 x 5

- Corriges ces exercices en utilisant le classeur de corrections CM1

- Si tu as beaucoup d'erreurs tu peux reprendre la vidéo et les exercices en ligne.

- Demande à passer le test 1





Parcours 1 d'entraînement Ceinture Bleue de Calcul

- Relis la leçon CAL7

- Exercices à faire sur le cahier iparcours CM1.

Exercices 1, 2 et 3 page 33

- Corrige ces exercices en utilisant le classeur de corrections CM1

- Si tu as beaucoup d'erreurs tu peux reprendre la vidéo et les exercices en ligne.

- Demande à passer le test 1



Parcours 1 d'entraînement Ceinture Bleue de Calcul

- Relis la leçon CAL7


- Exercices à faire sur le cahier iparcours CM1.

Exercices 1, 2 et 3 page 33

- Corrige ces exercices en utilisant le classeur de corrections CM1

- Si tu as beaucoup d'erreurs tu peux reprendre la vidéo et les exercices en ligne.

- Demande à passer le test 1



Parcours 1 d'entraînement Ceinture Bleue de Calcul

- Relis la leçon CAL7

- Exercices à faire sur le cahier iparcours CM1.

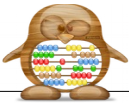
Exercices 1, 2 et 3 page 33

- Corrige ces exercices en utilisant le classeur de corrections CM1

- Si tu as beaucoup d'erreurs tu peux reprendre la vidéo et les exercices en ligne.

- Demande à passer le test 1





Parcours 1 d'entraînement Ceinture Marron de Calcul

- Relis la leçon CAL8

- Exercices à faire sur le cahier iparcours CM1.

Exercices 1, 2 et 3 page 34

- Corrige ces exercices en utilisant le classeur de corrections CM1

- Si tu as beaucoup d'erreurs tu peux reprendre la vidéo et les exercices en ligne.

- Demande à passer le test 1



Parcours 1 d'entraînement Ceinture Marron de Calcul

- Relis la leçon CAL8


- Exercices à faire sur le cahier iparcours CM1.

Exercices 1, 2 et 3 page 34

- Corrige ces exercices en utilisant le classeur de corrections CM1

- Si tu as beaucoup d'erreurs tu peux reprendre la vidéo et les exercices en ligne.

- Demande à passer le test 1



Parcours 1 d'entraînement Ceinture Marron de Calcul

- Relis la leçon CAL8

- Exercices à faire sur le cahier iparcours CM1.

Exercices 1, 2 et 3 page 34

- Corrige ces exercices en utilisant le classeur de corrections CM1

- Si tu as beaucoup d'erreurs tu peux reprendre la vidéo et les exercices en ligne.

- Demande à passer le test 1





Parcours 1 d'entraînement Ceinture Noire de Calcul

- Demande des explications à ton enseignant !

- Exercices à faire au feutre

Complète.

$$(3 + 2) \times 4 = \dots\dots\dots \quad 3 + (2 \times 4) = \dots\dots\dots \quad 5 \times (6 - 2) = \dots\dots\dots \quad (5 \times 6) - 2 = \dots\dots\dots$$

$$4 + (5 \times 6) = \dots\dots\dots \quad (4 + 5) \times 6 = \dots\dots\dots \quad 2 \times (9 + 6) = \dots\dots\dots \quad (2 \times 9) + 6 = \dots\dots\dots$$

Place les parenthèses à la bonne place.

$$45 \times 2 - 61 = 29 \qquad 9 - 4 \times 2 = 1 \qquad 8 : 2 - 4 = 0$$

$$7 \times 4 - 8 = 20 \qquad 4 \times 2 - 3 \times 2 = 2$$

Résous les problèmes suivants sans poser les opérations. Tu dois écrire un calcul en ligne avec des parenthèses.

Le cirque qui s'est installé sur la place peut accueillir 80 spectateurs. La caisse a vendu 40 billets et 30 places ont été offertes aux écoles.

Combien de places resteront libres pour le spectacle ?

.....
.....

Pour Noël, une dame achète à son enfant 3 sucettes à 2 € et 2 gâteaux à 3 €.

Combien la dame a-t-elle dépensé ?

.....
.....

- Corrige ces exercices en utilisant le classeur de corrections CM1

- Si tu as beaucoup d'erreurs fais vérifier ton travail par ton enseignant.

- Demande à passer le test 1