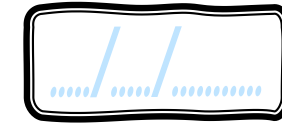


Geométrie

CMI





PRÉNOM :



<https://laclassebleue.fr/>

① Colorie de la bonne couleur.




<u>triangle rectangle</u>	<u>triangle isocèle</u>	<u>triangle équilatéral</u>
BLEU	JAUNE	ROUGE
<u>triangle isocèle rectangle</u>		
VIOLET		

② Construis un triangle scalène ABC avec :

AB = 4 cm
BC = 6 cm
AC = 7 cm

③ Continue la frise.



- J'ai vérifié les mesures.
- J'ai nommé les sommets.
- J'ai codé les propriétés.