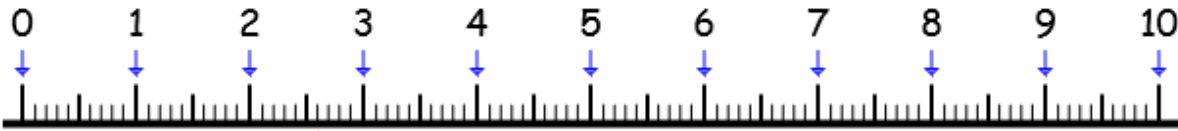


Date : \_\_\_ / \_\_\_ / \_\_\_

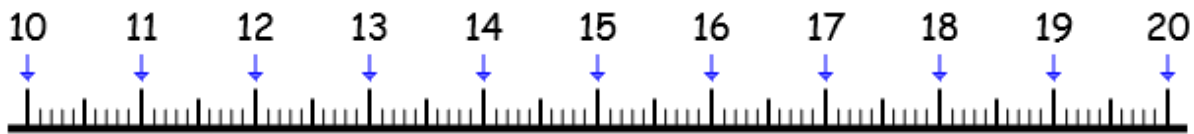
Correction : ○



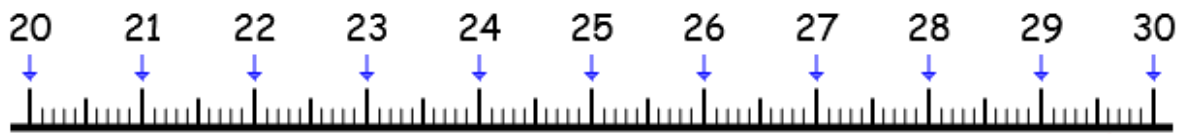
Mesure en cm et en mm.



★



★★



★★★

Trace à la REGLE et au CRAYON DE PAPIER.

★ Un segment [AB] de 4 cm et 3 mm.

★★ Un segment [CD] de 8 cm et 6 mm.

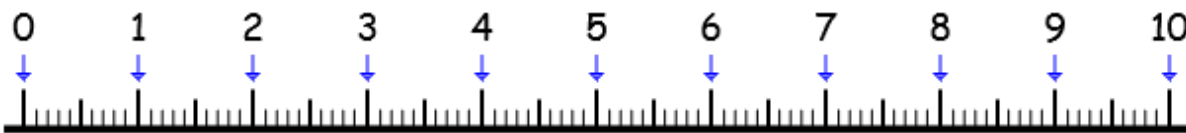
★★★ Un segment [EF] de 10 cm et 2 mm.

Date : \_\_\_ / \_\_\_ / \_\_\_

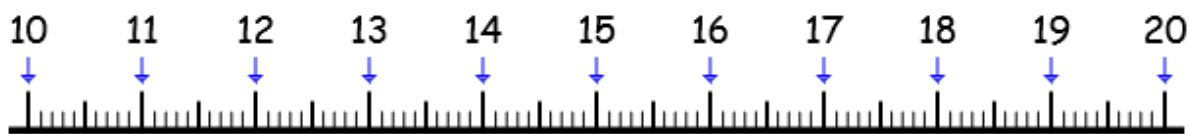
Correction : ○



Mesure en cm et en mm.



★



★★



★★★★

Trace à la REGLE et au CRAYON DE PAPIER.

★ Un segment [GH] de 5 cm et 5 mm.

★★ Un segment [IJ] de 12 cm et 8 mm.

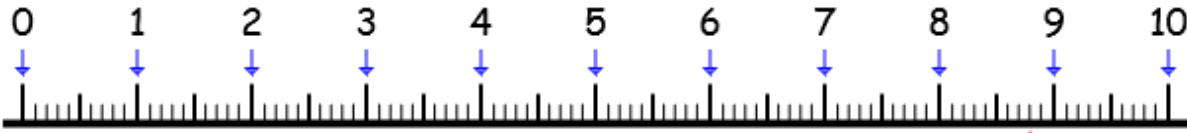
★★★★ Un segment [KL] de 11 cm et 4 mm.

Date : \_\_\_ / \_\_\_ / \_\_\_

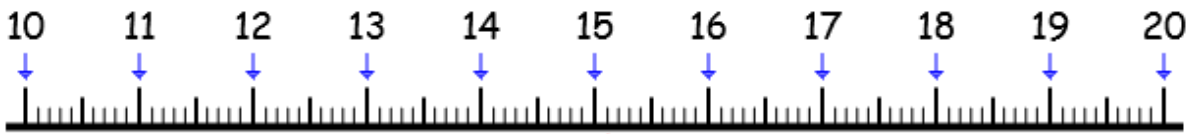
Correction : ○



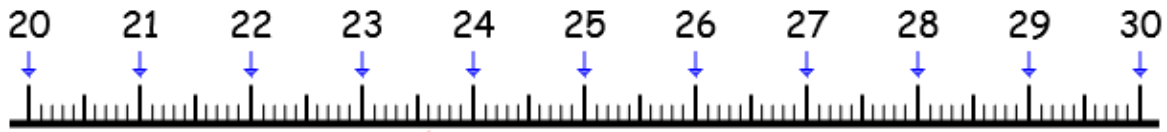
Mesure en cm et en mm.



★



★★



★★★

Trace à la REGLE et au CRAYON DE PAPIER.

★ Un segment [MN] de 5 cm et 3 mm.

★★ Un segment [OP] de 13 cm et 1 mm.

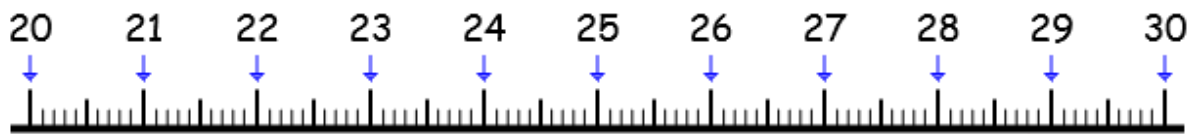
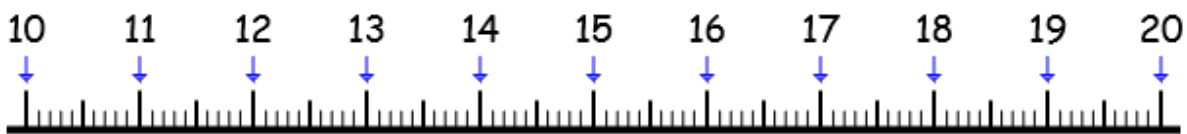
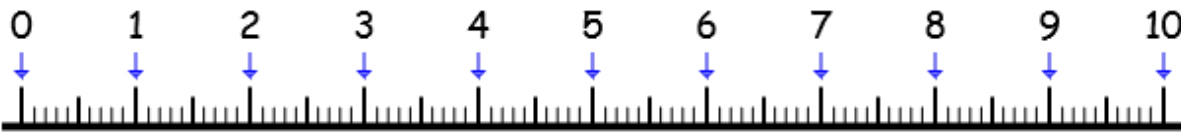
★★★ Un segment [QR] de 15 cm et 6 mm.

Date : \_\_\_ / \_\_\_ / \_\_\_

Correction : ○



Mesure en cm et en mm.



Trace à la REGLE et au CRAYON DE PAPIER.

★ Un segment [ST] de 6 cm et 7 mm.

★★ Un segment [UV] de 17 cm et 3 mm.

★★★ Un segment [WX] de 4 cm et 9 mm.

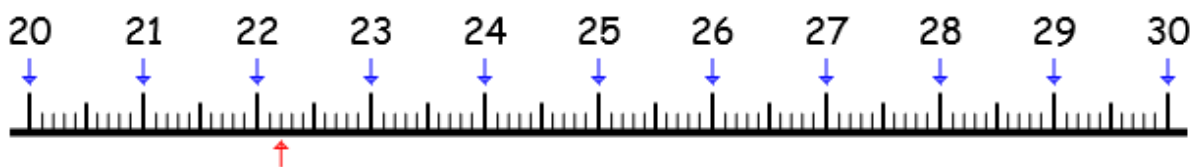
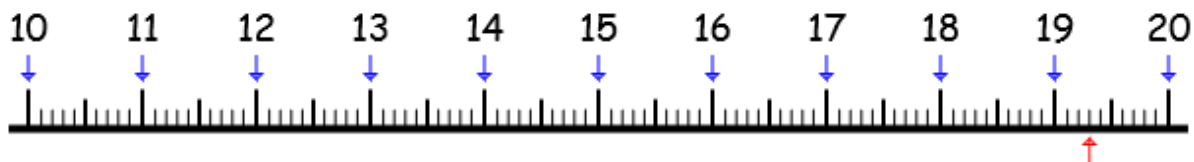
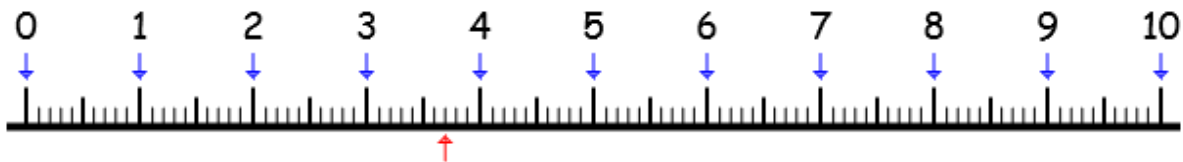
Date : \_\_\_ / \_\_\_ / \_\_\_

Correction : ○



Compétence : Utiliser le cm et le mm (se repérer sur une ligne graduée, tracer un segment de longueur donnée)

Mesure en cm et en mm.



Trace à la **REGLE** et au **CRAYON DE PAPIER**.

Un segment [QR] de 6 cm et 8 mm.

Un segment [ST] de 15 cm et 2 mm.

Un segment [UV] de 10 cm et 4 mm.

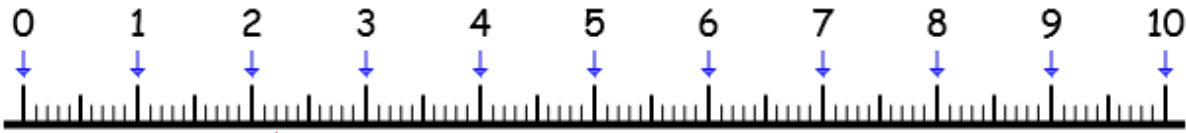


Date : \_\_\_ / \_\_\_ / \_\_\_

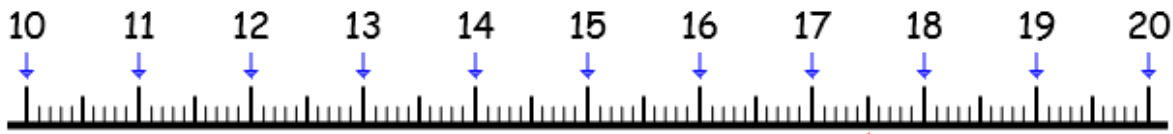
Correction : ○



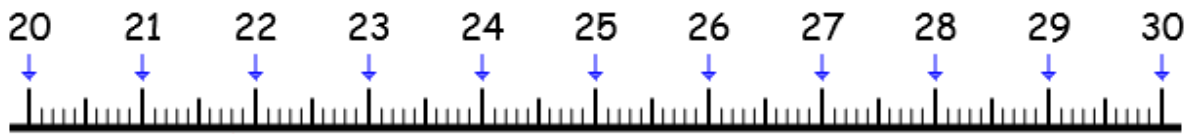
Mesure en cm et en mm.



★



★★



★★★

Trace à la REGLE et au CRAYON DE PAPIER.

★ Un segment [YZ] de 7 cm et 1 mm.

★★ Un segment [AB] de 2 cm et 6 mm.

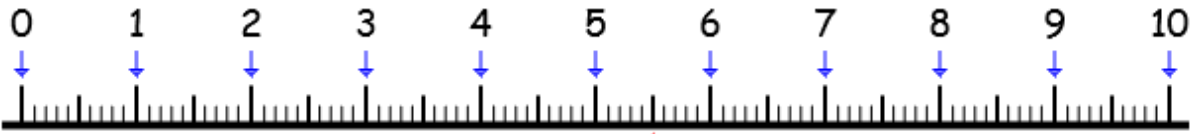
★★★ Un segment [CD] de 16 cm et 7 mm.

Date : \_\_\_ / \_\_\_ / \_\_\_

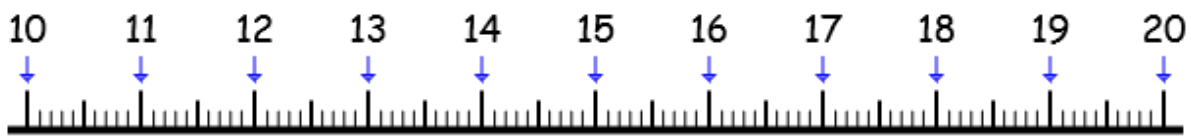
Correction : ○



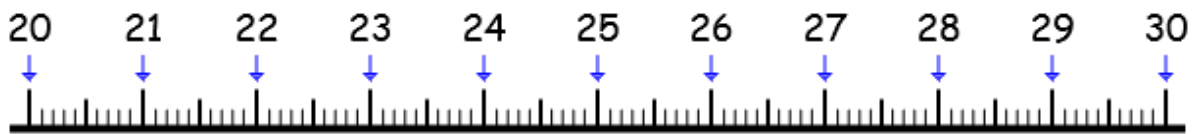
Mesure en cm et en mm.



★



★★



★★★★

Trace à la REGLE et au CRAYON DE PAPIER.

★ Un segment [EF] de 11 cm et 5 mm.

★★ Un segment [GH] de 5 cm et 3 mm.

★★★★ Un segment [IJ] de 9 cm et 7 mm.

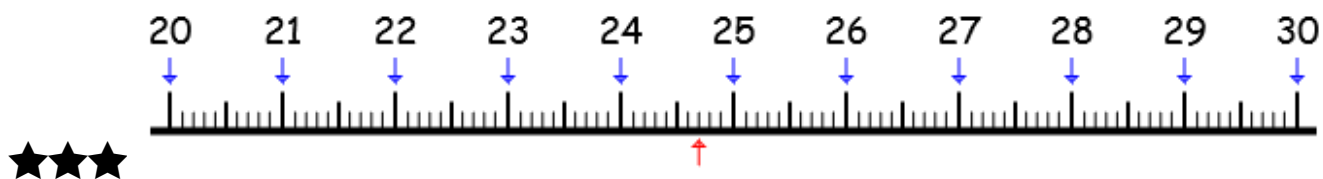
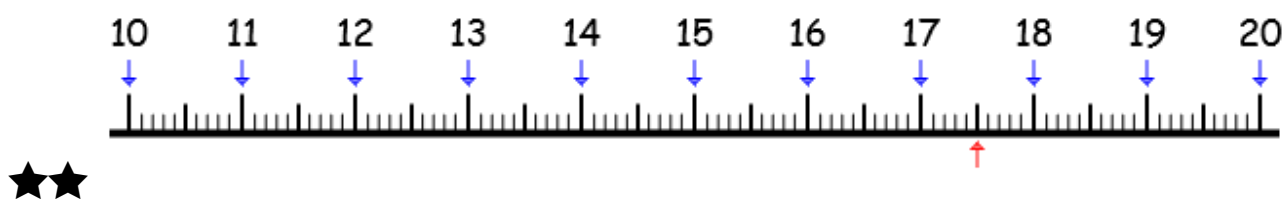
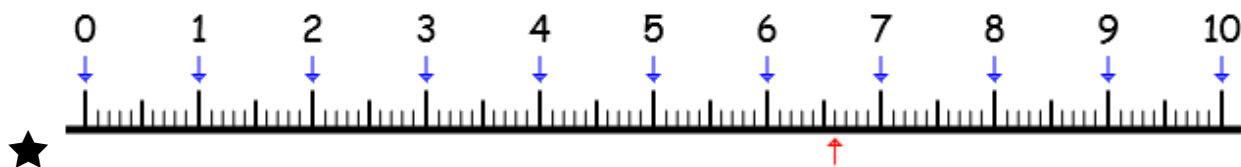


Date : \_\_\_ / \_\_\_ / \_\_\_

Correction : ○



Mesure en cm et en mm.



Trace à la REGLE et au CRAYON DE PAPIER.

★ Un segment [KL] de 7 cm et 1 mm.

★★ Un segment [MN] de 9 cm et 5 mm.

★★★ Un segment [OP] de 13 cm et 4 mm.

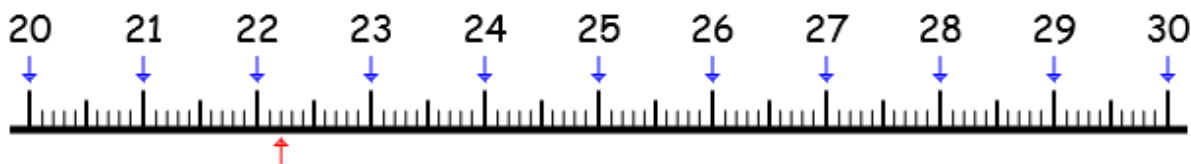
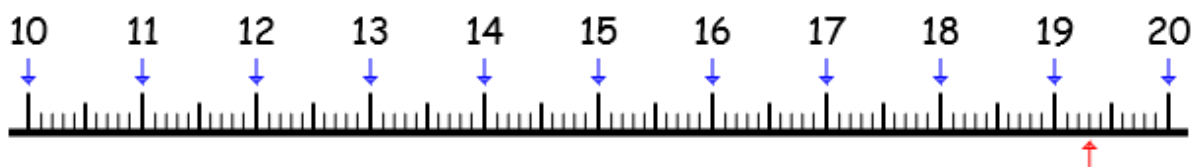
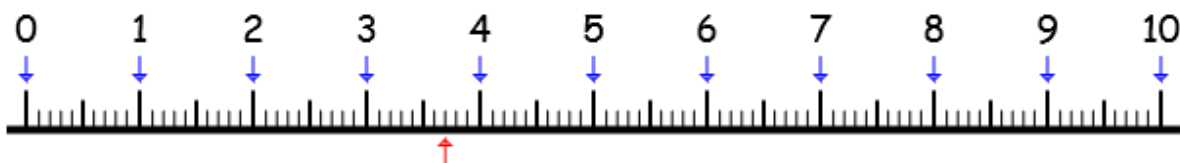
Date : \_\_\_ / \_\_\_ / \_\_\_

Correction : ○



Compétence : Utiliser le cm et le mm (se repérer sur une ligne graduée, tracer un segment de longueur donnée)

Mesure en cm et en mm.



Trace à la **REGLE** et au **CRAYON DE PAPIER**.

Un segment [AB] de 4 cm et 9 mm.

Un segment [ST] de 14 cm et 4 mm.

Un segment [LB] de 12 cm et 6 mm.