

Il a deux de ses côtés de même longueur.

Il a un angle droit, c'est la moitié d'un rectangle.





Il a ses trois côtés de la même longueur.

Il n'a pas d'angle droit et ses 3 côtés sont différents.

Il a un angle droit et deux de ses côtés sont égaux.

je trace des triangles

Je connais
les trois côtés

Trace un côté.	Par une extrémité, trace un arc de cercle avec une ouverture de compas correspondant au 2 ^{ème} côté.	Par l'autre extrémité, trace un arc de cercle correspondant au 3 ^{ème} côté.	Joins l'intersection des arcs de cercles au 1 ^{er} côté.
			

Je connais les trois côtés