


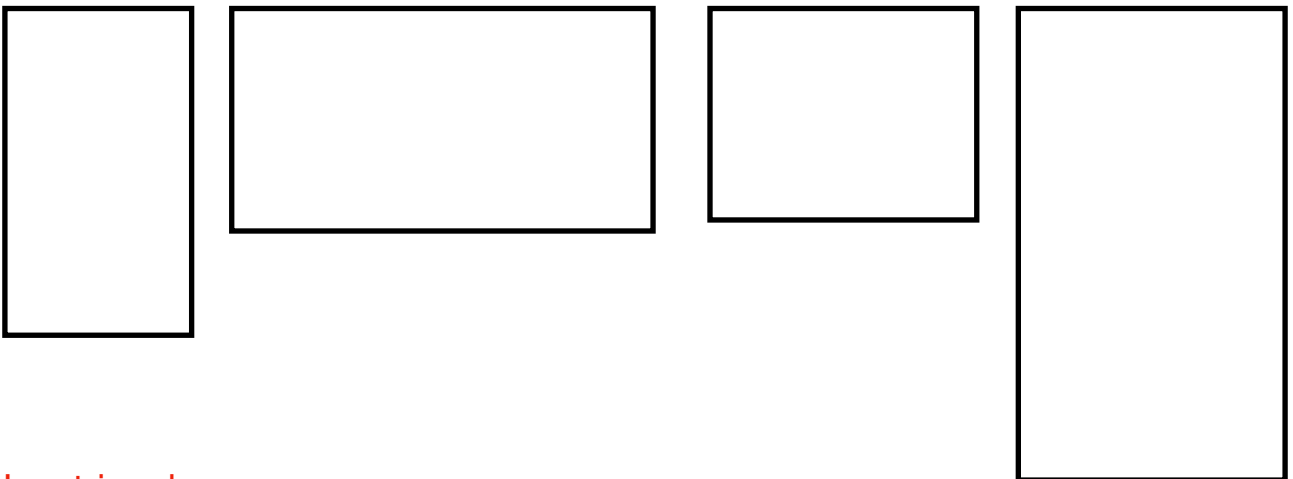
# Géométrie CE1 - CE2

1) Découpe ces figures géométriques et classe-les en 3 catégories. Donne un nom à chaque catégorie.

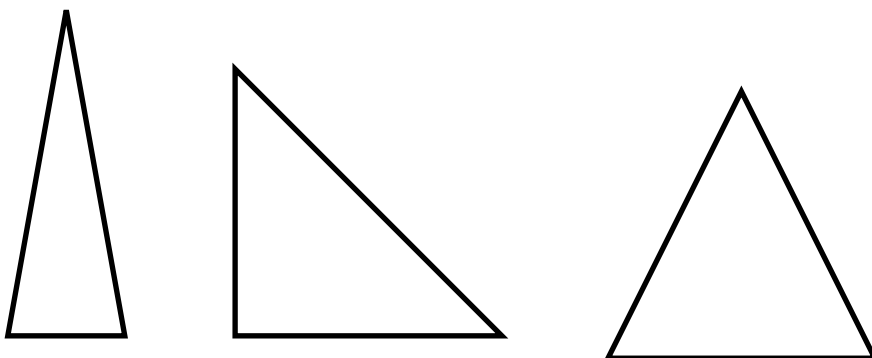
Les carrés



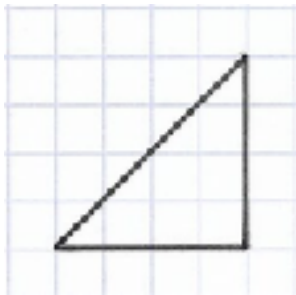
Les rectangles



Les triangles



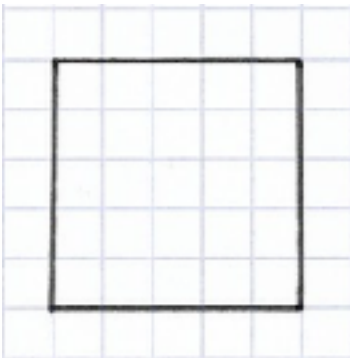
2) Observe cette figure.



Quel est son nom : **un triangle**

Combien y-a-t-il de côtés? **3**

3) Observe cette figure.



Quel est son nom? **un carré**

Combien y-a-t-il de côtés? **4**

Combien y-a-t-il d'angles droits? **4**

Combien de carreaux mesure chaque côté?


.....**5**.....                      .....**5**.....

.....**5**.....                      .....**5**.....

Que remarques-tu concernant la longueur des côtés?

**Les 4 côtés ont la même longueur.**

4) Observe cette figure.



Quel est son nom? **un rectangle**

Combien y-a-t-il de côtés? **4**

Combien y-a-t-il d'angles droits? **4**

Combien de carreaux mesure chaque côté?

.....**6**.....                      .....**6**.....

.....**3**.....                      .....**3**.....

Que remarques-tu concernant la longueur des côtés?

**Le rectangle a 2 grands côtés de même longueur (les longueurs) et 2 petits côtés de même longueur (les largeurs).**