


Groupes de 10 et unités

2

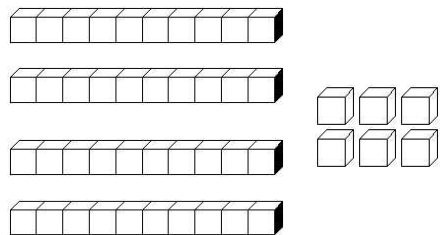
Lorsqu'on veut savoir combien d'objets il y a dans une collection (ex des billes, des bonbons, des timbres...) on commence par faire des groupes de 10 :

10 objets, c'est pareil qu'un groupe de 10 :



Ensuite les nombres plus grands que 10 s'écrivent avec deux chiffres :

- Le premier est **le chiffre des dizaines** : il indique le nombre de groupes de 10
- Le second est **le chiffre des unités** : il indique le nombre d'objets qui restent tout seuls.



4 groupes de 10 + et 6 objets tout seuls
40 + 6

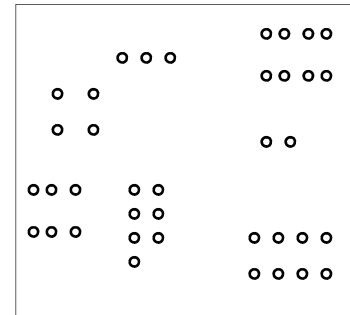
Ce nombre s'écrit :

dizaines	unités
4	6

quarante-six

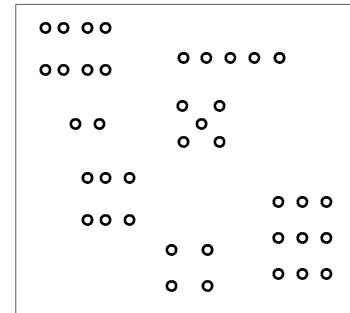
1

Entoure des groupes de 10 puis écris le nombre :



Il y a groupes de 10
et jetons isolés
Ce nombre s'écrit :

dizaines	unités



Il y a groupes de 10
et jetons isolés
Ce nombre s'écrit :

dizaines	unités

2

Combien y a-t-il de cubes ?
(choisis la bonne réponse)

58 86 68	55 53 35