

### MESURES D'ANGLES – PDT 5 FICHE A

1. Quel est le nom (plat, plein, droit, aigu, obtus, rentrant) de chaque angle ci-dessous ?



.....



.....



.....



.....

2. Complète par le nom d'angle correspondant à la mesure indiquée.

❶ un angle de  $215^\circ$  est un angle

.....

❷ un angle de  $90^\circ$  est un angle

.....

❸ un angle de  $27^\circ$  est un angle

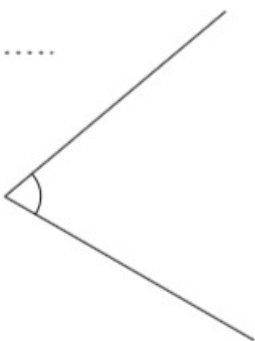
.....

❹ un angle de  $150^\circ$  est un angle

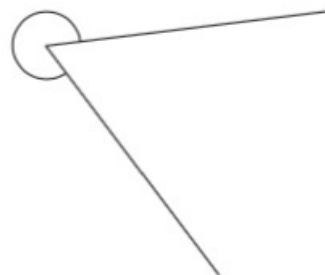
.....

3. Mesure les angles ci-dessous.

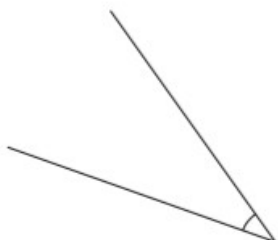
❶ .....



❷ .....



❸ .....



❹ .....





4. Construis les angles demandés.

Utilise le point donné pour placer ton rapporteur.

❶ un angle de  $45^\circ$



❷ un angle de  $125^\circ$



❸ un angle de  $250^\circ$

