

Ton prénom :

date :

Groupe 1, fiche n°01

1 Écris en chiffres ces deux nombres.

☞ quarante-cinq :

☞ quatre-vingt-cinq :

2 Écris en lettres ces deux nombres. :

☞ 68 :

☞ 92 :

3 Observe le modèle et prends le temps de comprendre. Puis, écris de la même façon les deux nombres.

23 c'est pareil que :	10+10+1+1+1	20 + 3	2 dizaines et 3 unités
56 c'est pareil que :			
60 c'est pareil que :			

4 Écris les nombres à leur place dans le tableau.

☞ 258

☞ 90

milliard			million			mille					
centaine de milliard	dizaine de milliard	unité de milliard	centaine de million	dizaine de million	unité de million	centaine de mille	dizaine de mille	unité de mille	centaine	dizaine	unité

Ton prénom :

date :

5 Mets de l'ordre dans ces nombres, range-les en ordre croissant. (croître = grandir).

95	27	12	72	40	59

6 Mets de l'ordre dans ces nombres, range-les en ordre décroissant. (décroître = diminuer).

85	77	31	13	58	7

7 Utilise les signes de mathématiques. Complète avec l'un de ces signes :

+ - = < > ≠

8 2 = 6

12 + 8 18+2

20 + 737

15.....2 = 10 + 7

50 +7 10 + 7

10 + 10 + 10 + 10 +7 70 +1

8 Compter de x en x. a) Compte de 2 en 2 de 0 jusqu'à 28 .

0														
---	--	--	--	--	--	--	--	--	--	--	--	--	--	--

b) Observe la suite suivante, puis entoure la bonne réponse.

15	20	25	30	35	40	45	50	55	60	65	70	75	80	85
----	----	----	----	----	----	----	----	----	----	----	----	----	----	----

de 2 en 2

de 5 en 5

de 10 en 10

de 20 en 20

de 25 en 25

de 50 en 50

de 100 en 100.

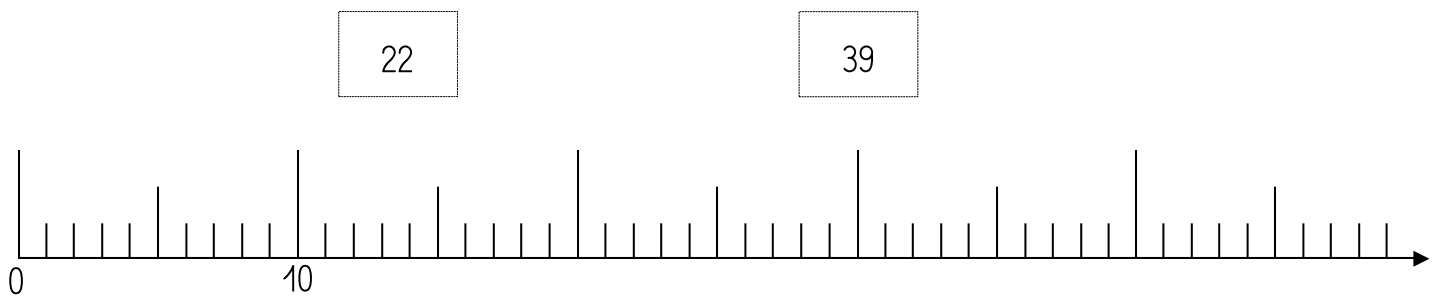
Ton prénom :

date :

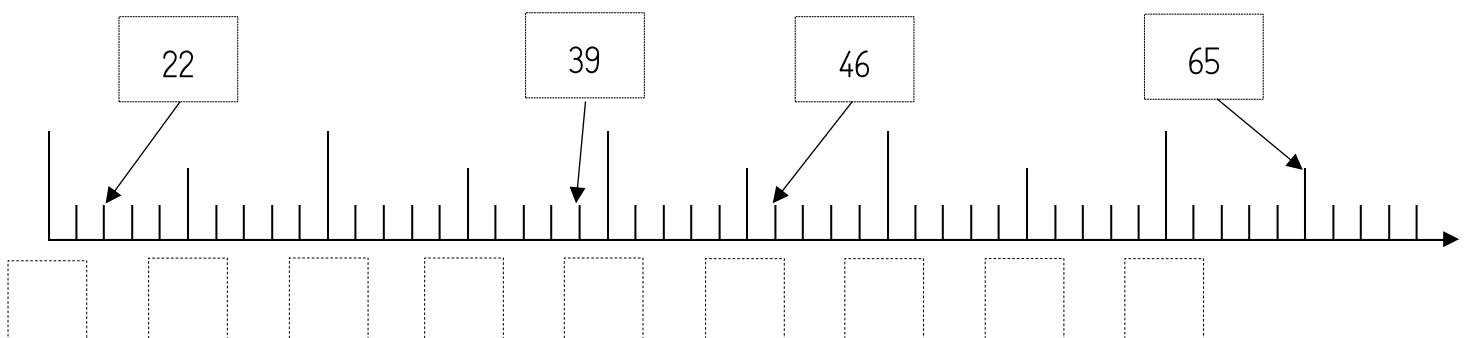
9 Complète ces deux tableaux, 👁️👁️ observe bien l'exemple.

Nombre qui est juste avant celui-ci →		Nombre qui est juste après celui-ci ←		Nombre arrondi à la dizaine avant celui-ci →		Nombre arrondi à la dizaine après celui-ci ←
11	12	13		10	12	20
	56			0	38	0
	40			0	50	0

10 ✎ Trace un trait pour placer les nombres sur la demi-droite graduée.



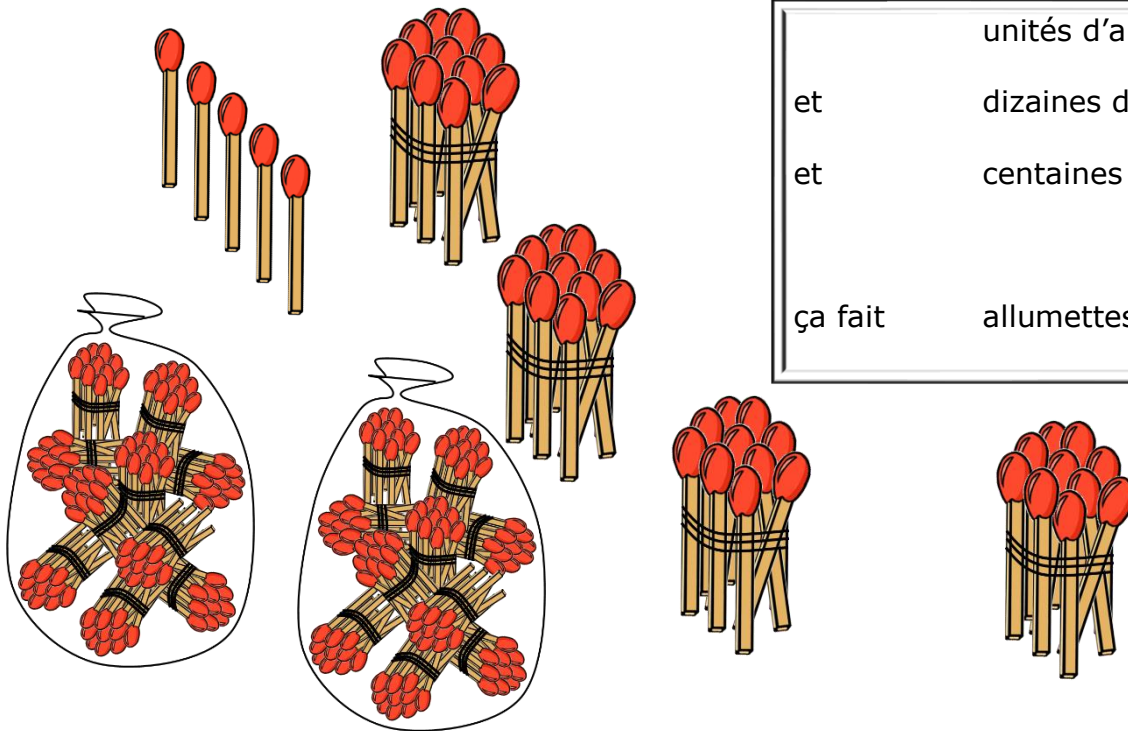
11 👁️👁️ Observe les nombres et ✎ complète la demi-droite graduée.



Ton prénom :

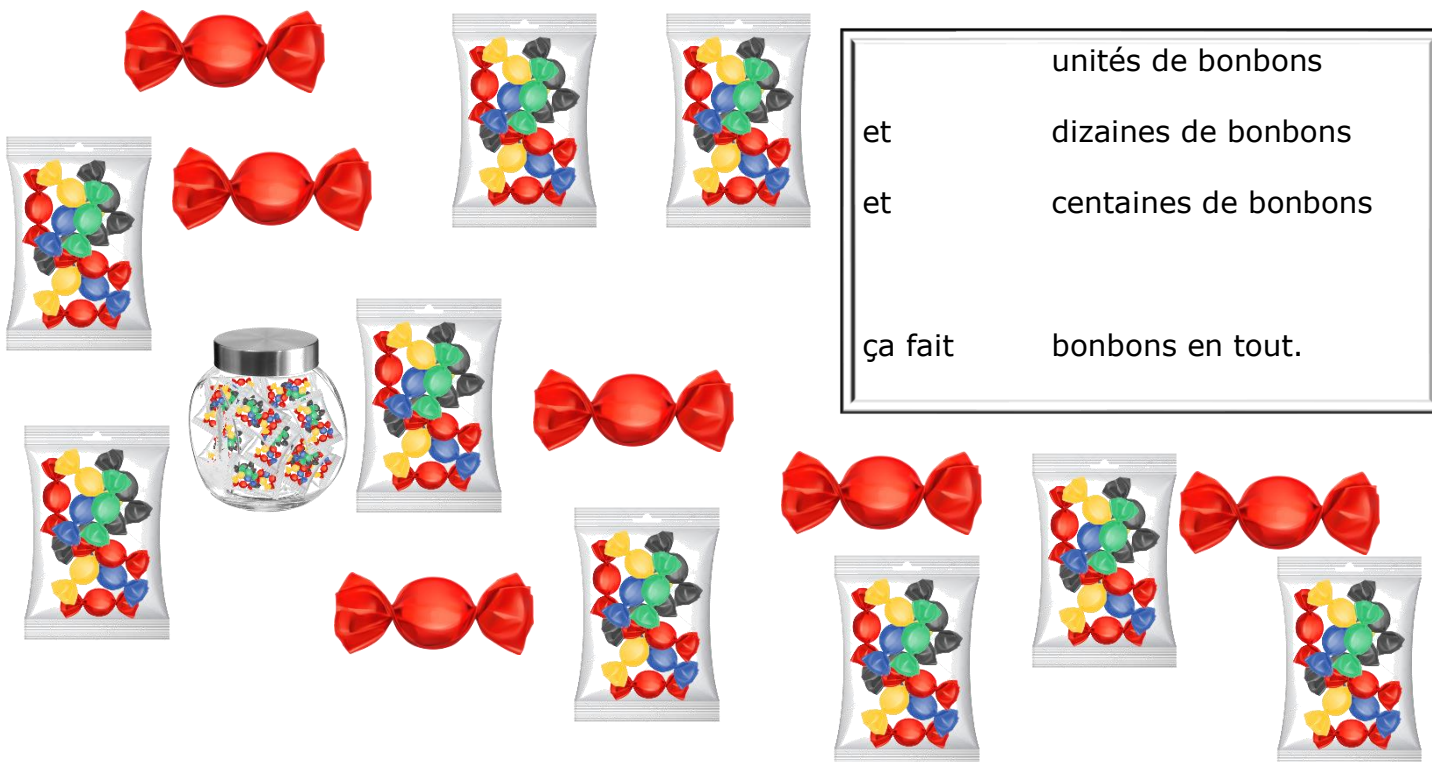
date :

12 Écris combien tu vois d'allumettes.



	unités d'allumettes
et	dizaines d'allumettes
et	centaines d'allumettes
ça fait	allumettes en tout.

12 Écris combien tu vois de bonbons.



	unités de bonbons
et	dizaines de bonbons
et	centaines de bonbons
ça fait	bonbons en tout.