

CE1

**1** Écris ce qu'il manque pour avoir 1 €.



.....  
.....

.....  
.....

.....  
.....

.....  
.....





.....  
.....

**2** Pour avoir un euro, combien faut-il de pièces...


**a** de 50 c? .....

**b** de 10 c? .....

**3** Dessine les pièces dont tu as besoin pour payer tes achats.

CE1

**4** Tu paies tes courses avec une pièce de . Quelle somme la marchande va-t-elle te rendre si tu achètes :

**a** 90 c de bonbons?

.....

**b** 50 c de bonbons?

.....

**c** 70 c de bonbons?

.....

**d** 75 c de bonbons?

.....

**5** Julie a 1 €. Elle souhaite acheter une gomme à 30 c et un taille-crayon à 55 c. **Peut-elle faire ces achats ?**

.....

**6** Kevin a 100 centimes. Il veut acheter un double décimètre qui coûte 1 € 35. **A-t-il assez d'argent ?**

.....

**7** Dessine les pièces que Lucile peut utiliser.

**a** Lucile va à la boulangerie. Elle doit payer 2 € 25.



**b** Lucile achète un journal à 1 € 50.



CE1

**8** Qui peut acheter le livre ?  
Justifie ta réponse.



**a** Camille



**b** Ambre



**c** Lison



.....  
.....  
.....

.....  
.....  
.....

.....  
.....  
.....