


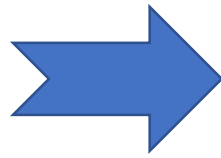
Les étapes pour résoudre un problème en mathématique

Je lis l'énoncé et la question

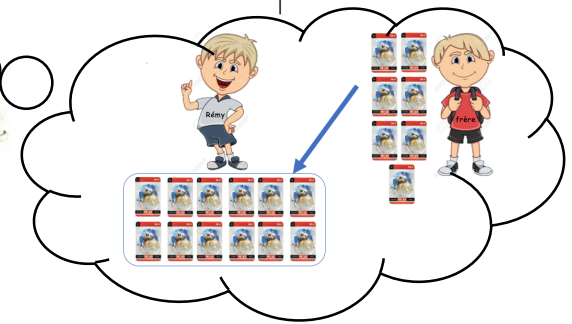
Chez lui, Rémy a 12 cartes Star Wars. Son frère lui en donne 7 autres.



Combien Rémy a-t-il de cartes ?



Je me fais une représentation mentale du problème



J'écris la réponse

→ J'utilise les mots de la question

→ J'utilise le résultat du calcul

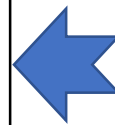


Rémy a 19 cartes

Je fais le calcul



$$\begin{array}{r|l} & \text{d} & \text{u} \\ 1 & 2 \\ + & 7 \\ \hline 1 & 9 \end{array}$$



Je fais un schéma

J'utilise le matériel de numération

