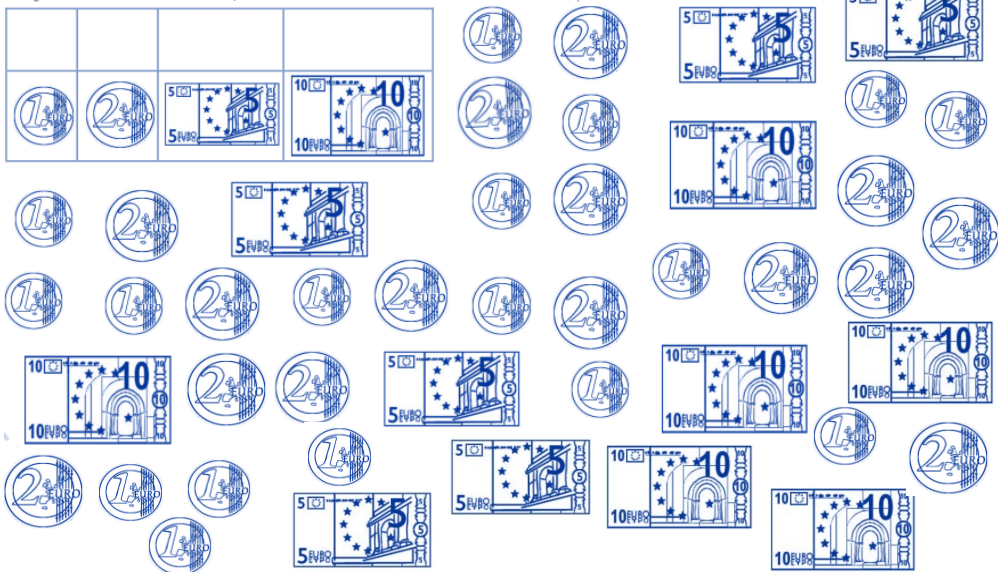




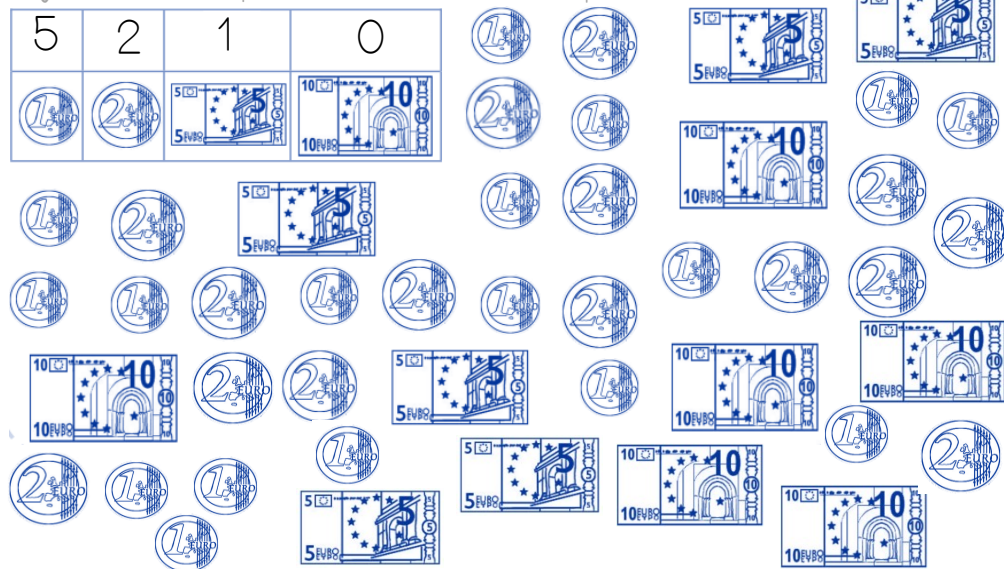




Je colorie les pièces et les billets indiqués dans le tableau.



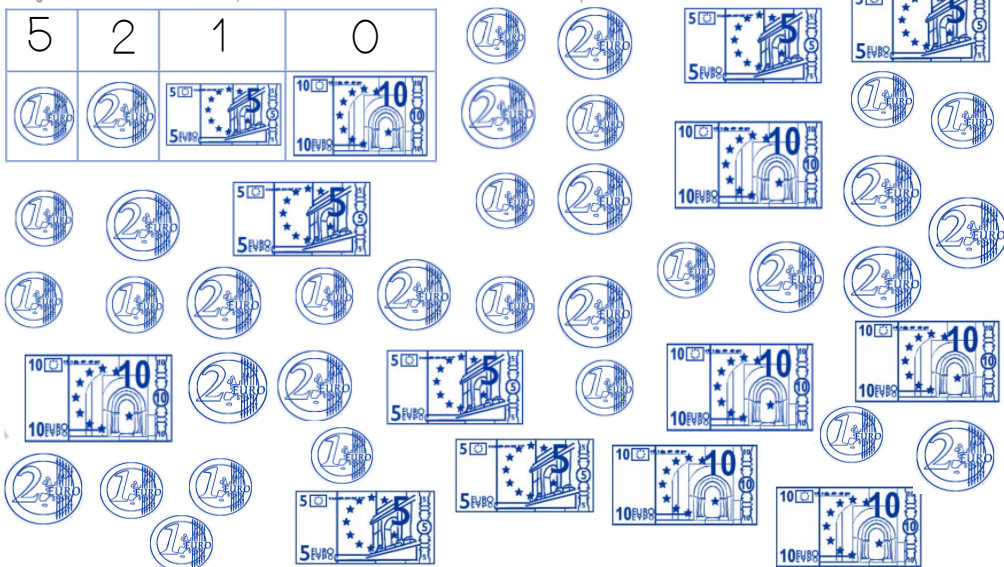
pièces ou billets	Combien de chaque sorte ?	Je dessine en pièces de 1 euro.	Quelle est la valeur ?	
	----		----	----
	----		----	+ ----
	----		----	+ ----
	----		----	+ ----
Quelle est la valeur totale de mon porte-monnaie ?				= ---- -

Je colorie les pièces et les billets indiqués dans le tableau.



pièces ou billets	Combien de chaque sorte ?	Je dessine en pièces de 1 euro.	Quelle est la valeur ?	
	----		----	----
	----		----	+ ----
	----		----	+ ----
	----		----	+ ----
Quelle est la valeur totale de mon porte-monnaie ?				= ---- -

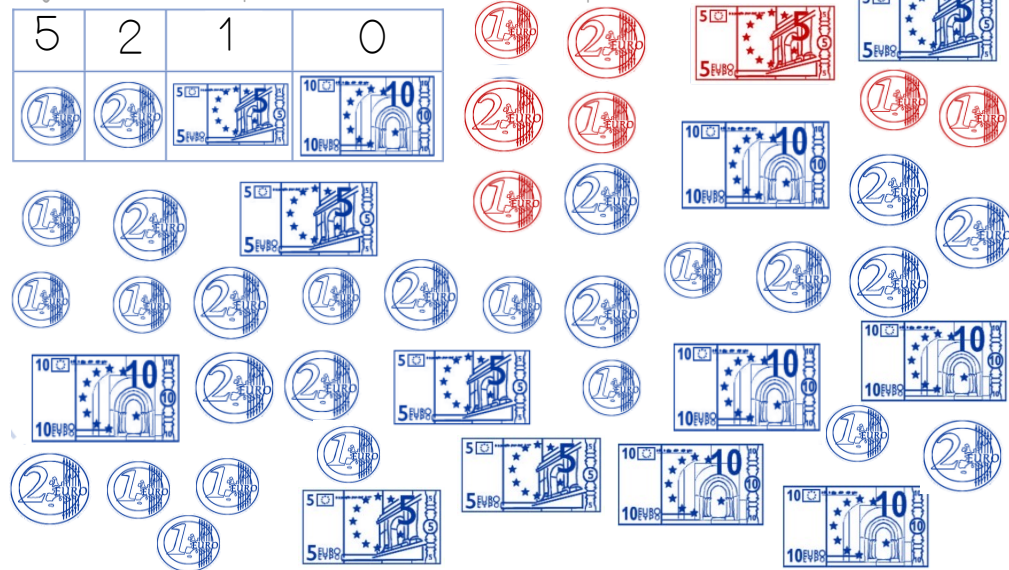
Je colorie les pièces et les billets indiqués dans le tableau.










pièces ou billets	Combien de chaque sorte ?	Je dessine en pièces de 1 euro.	Quelle est la valeur ?	
	----		----	----
	----		----	+ ----
	----		----	+ ----
	----		----	+ ----

Quelle est la valeur totale de mon porte-monnaie ? = ----

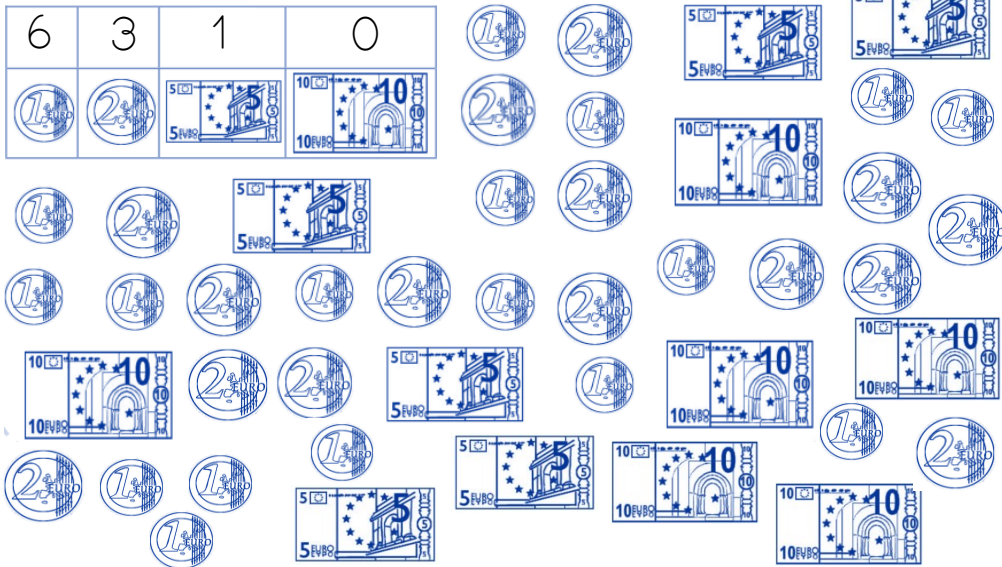
Je colorie les pièces et les billets indiqués dans le tableau.



pièces ou billets	Combien de chaque sorte ?	Je dessine en pièces de 1 euro.	Quelle est la valeur ?	
	<u>5</u>		$1+1+1+1+1$	<u>5</u>
	<u>2</u>		$2 + 2$	+ <u>4</u>
	<u>1</u>		<u>5</u>	+ <u>5</u>
	<u>0</u>		<u>0</u>	+ <u>0</u>

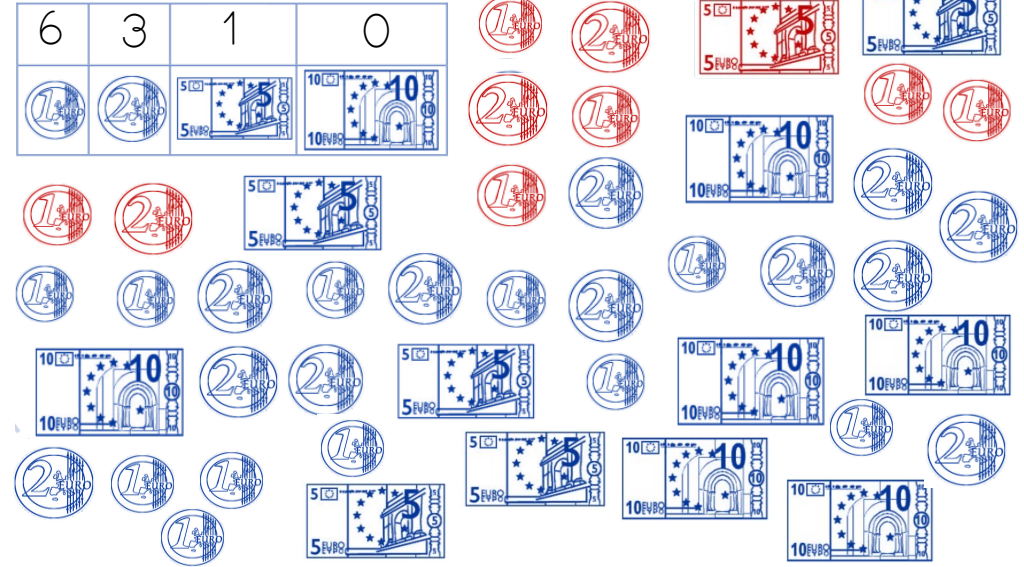
Quelle est la valeur totale de mon porte-monnaie ? = 14

Je colorie les pièces et les billets indiqués dans le tableau.



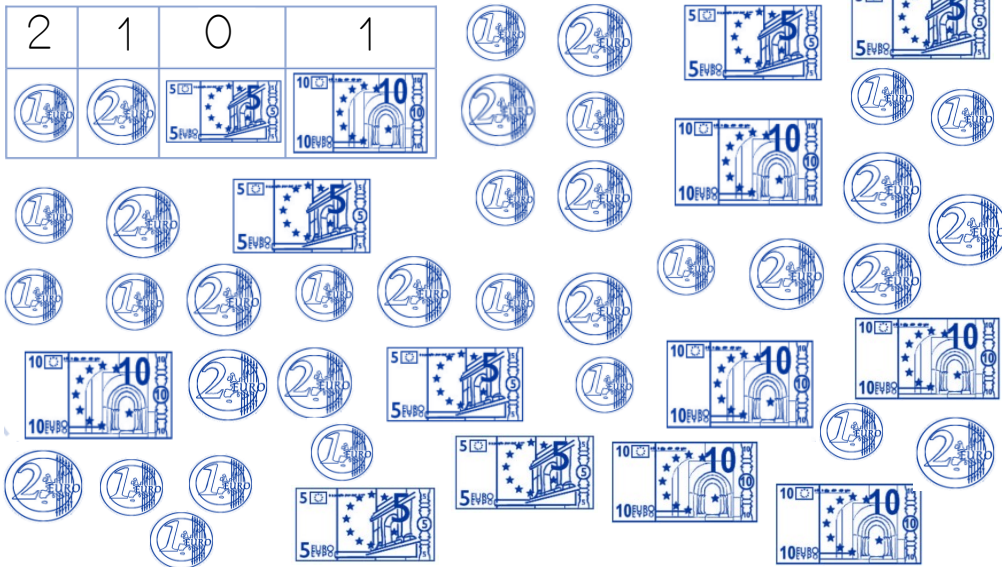
pièces ou billets	Combien de chaque sorte ?	Je dessine en pièces de 1 euro.	Quelle est la valeur ?	
	----		----	----
	----		----	+ ----
	----		----	+ ----
	----		----	+ ----
Quelle est la valeur totale de mon porte-monnaie ?				= ----

Je colorie les pièces et les billets indiqués dans le tableau.



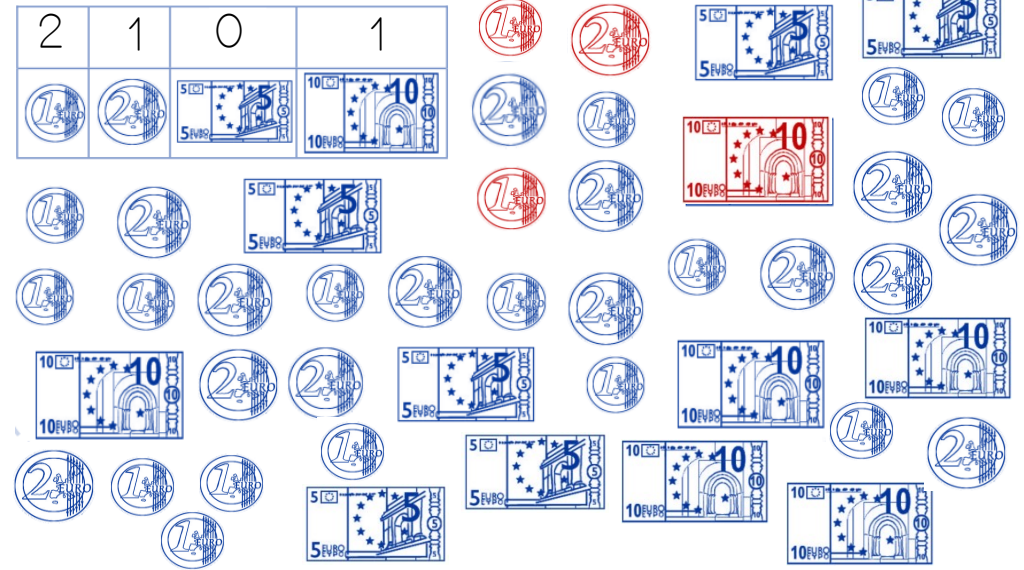
pièces ou billets	Combien de chaque sorte ?	Je dessine en pièces de 1 euro.	Quelle est la valeur ?	
	<u>6</u>		1+1+1+1+1+1	<u>6</u>
	<u>3</u>		2+2+2	+ <u>6</u>
	<u>1</u>		5	+ <u>5</u>
	<u>0</u>		0	+ <u>0</u>
Quelle est la valeur totale de mon porte-monnaie ?				= <u>17</u>

Je colorie les pièces et les billets indiqués dans le tableau.



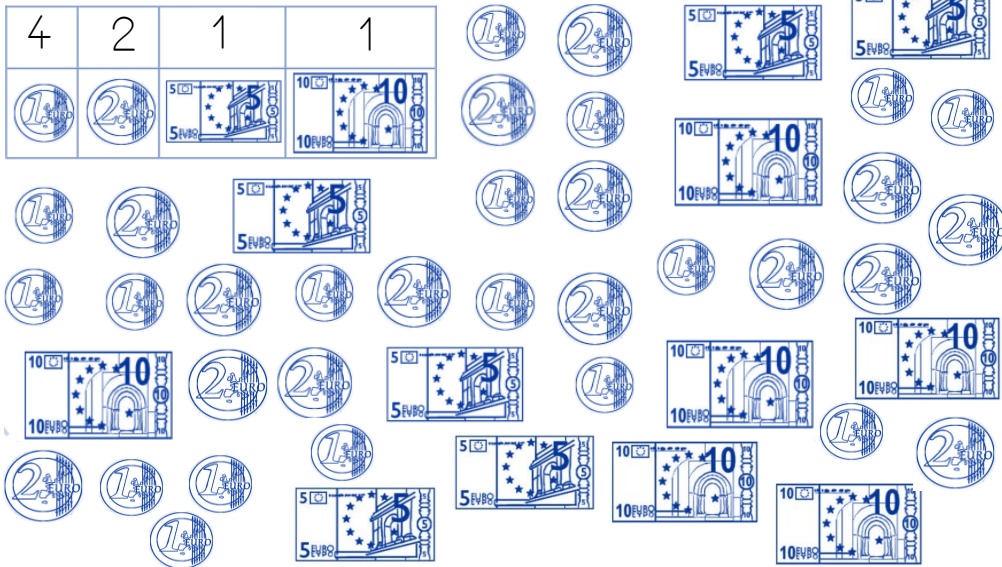
pièces ou billets	Combien de chaque sorte ?	Je dessine en pièces de 1 euro.	Quelle est la valeur ?	
	----		----	----
	----		----	+ ----
	----		----	+ ----
	----		----	+ ----
Quelle est la valeur totale de mon porte-monnaie ?				= ----

Je colorie les pièces et les billets indiqués dans le tableau.



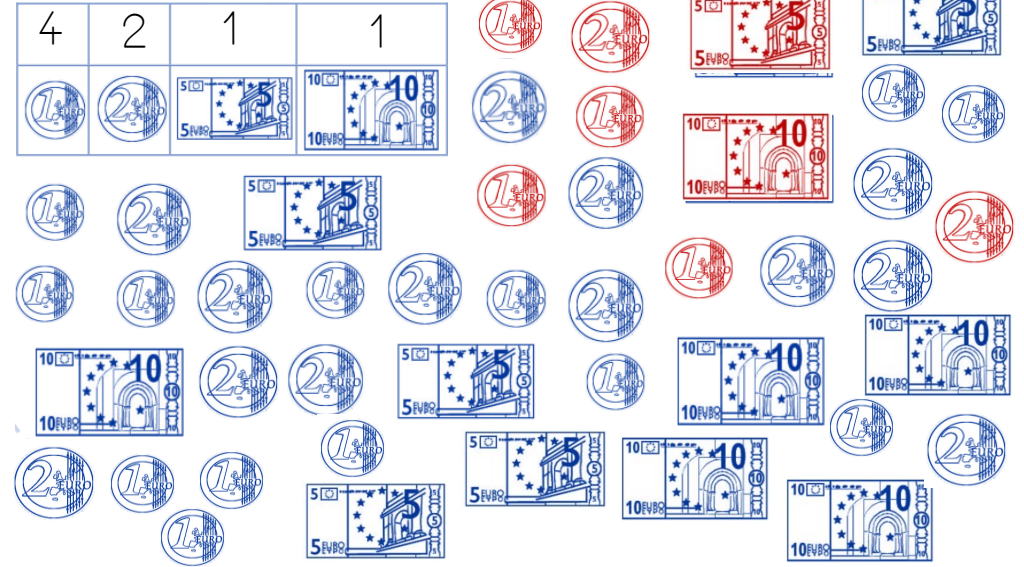
pièces ou billets	Combien de chaque sorte ?	Je dessine en pièces de 1 euro.	Quelle est la valeur ?	
	<u>2</u>		<u>1+1</u>	<u>2</u>
	<u>1</u>		<u>2</u>	+ <u>2</u>
	<u>0</u>		<u>0</u>	+ <u>0</u>
	<u>1</u>		<u>10</u>	+ <u>0</u>
Quelle est la valeur totale de mon porte-monnaie ?				= <u>14</u>









Je colorie les pièces et les billets indiqués dans le tableau.



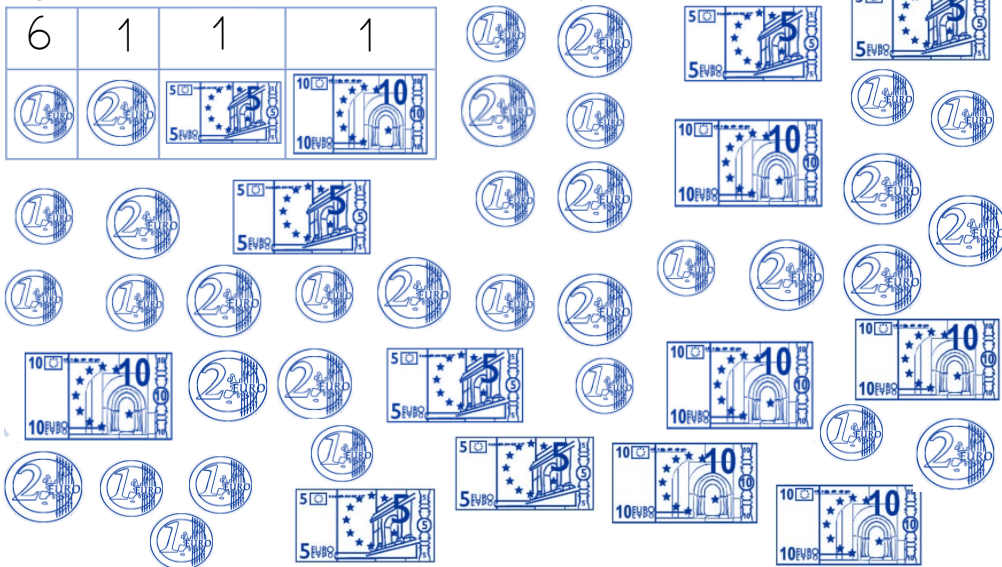
pièces ou billets	Combien de chaque sorte ?	Je dessine en pièces de 1 euro.	Quelle est la valeur ?	
	----		----	----
	----		----	+ ----
	----		----	+ ----
	----		----	+ ----
Quelle est la valeur totale de mon porte-monnaie ?				= ----




Je colorie les pièces et les billets indiqués dans le tableau.



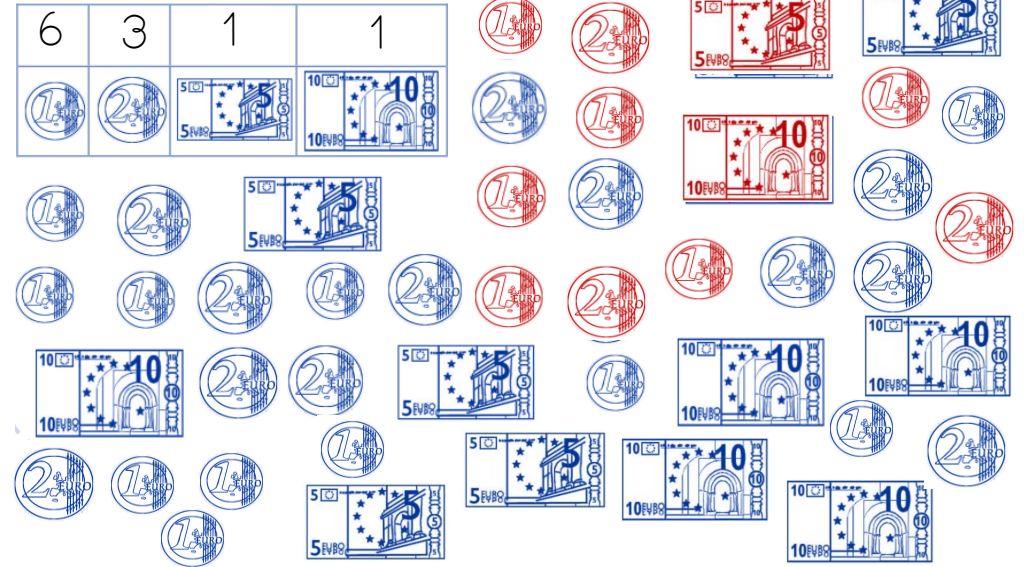
pièces ou billets	Combien de chaque sorte ?	Je dessine en pièces de 1 euro.	Quelle est la valeur ?	
	<u>4</u>		1+1+1+1	<u>4</u>
	<u>2</u>		<u>2</u> +2	+ <u>4</u>
	<u>1</u>		<u>5</u>	+ <u>5</u>
	<u>1</u>		<u>10</u>	+ <u>10</u>
Quelle est la valeur totale de mon porte-monnaie ?				= <u>23</u>









Je colorie les pièces et les billets indiqués dans le tableau.



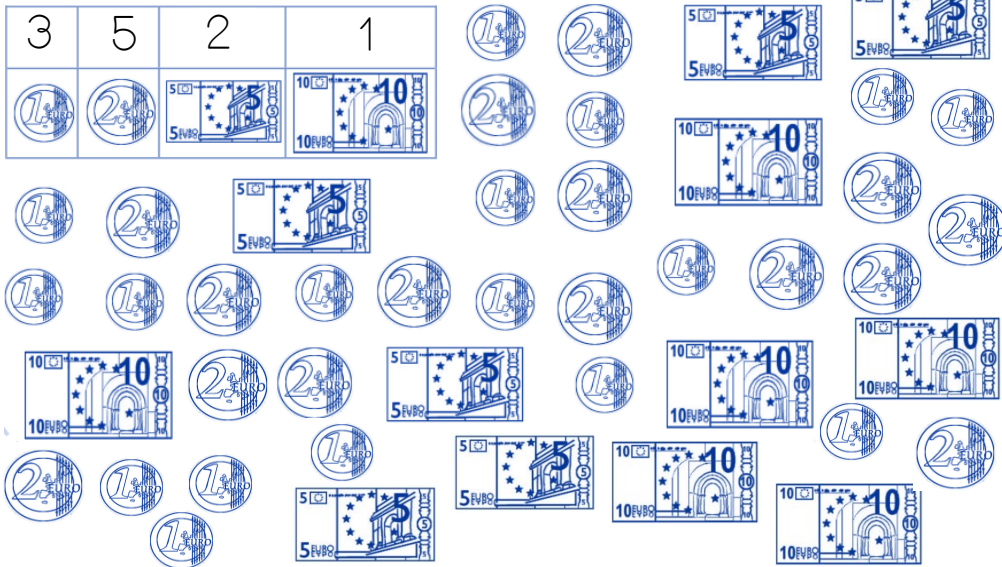
pièces ou billets	Combien de chaque sorte ?	Je dessine en pièces de 1 euro.	Quelle est la valeur ?	
	----		----	----
	----		----	+ ----
	----		----	+ ----
	----		----	+ ----
Quelle est la valeur totale de mon porte-monnaie ?				= ----

Je colorie les pièces et les billets indiqués dans le tableau.



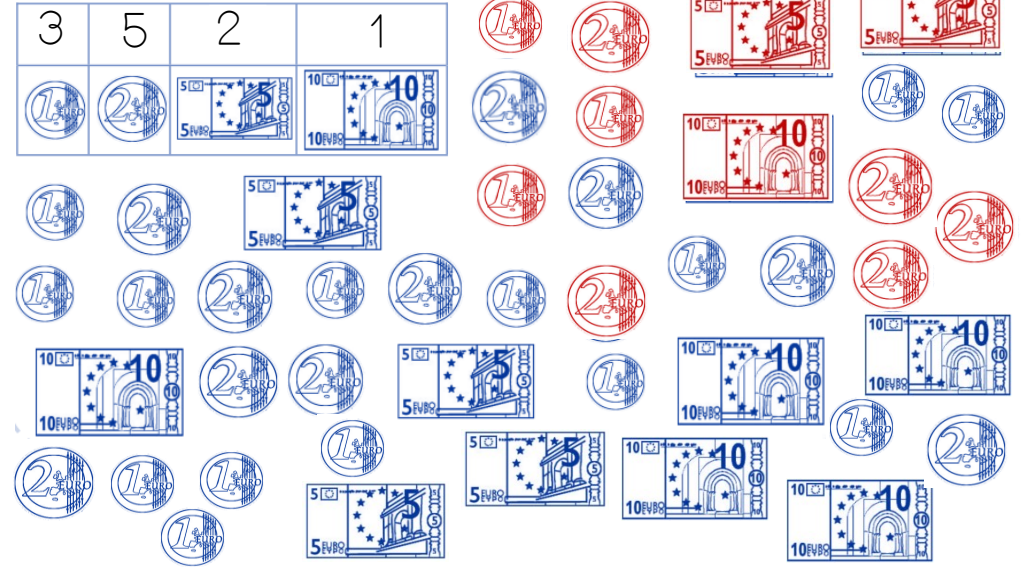
pièces ou billets	Combien de chaque sorte ?	Je dessine en pièces de 1 euro.	Quelle est la valeur ?	
	<u>6</u>		1+1+1+1 + 1+1	<u>6</u>
	<u>3</u>		2+2+2	+ <u>6</u>
	<u>1</u>		<u>5</u>	+ <u>5</u>
	<u>1</u>		<u>10</u>	+ <u>10</u>
Quelle est la valeur totale de mon porte-monnaie ?				= <u>27</u>








Je colorie les pièces et les billets indiqués dans le tableau.



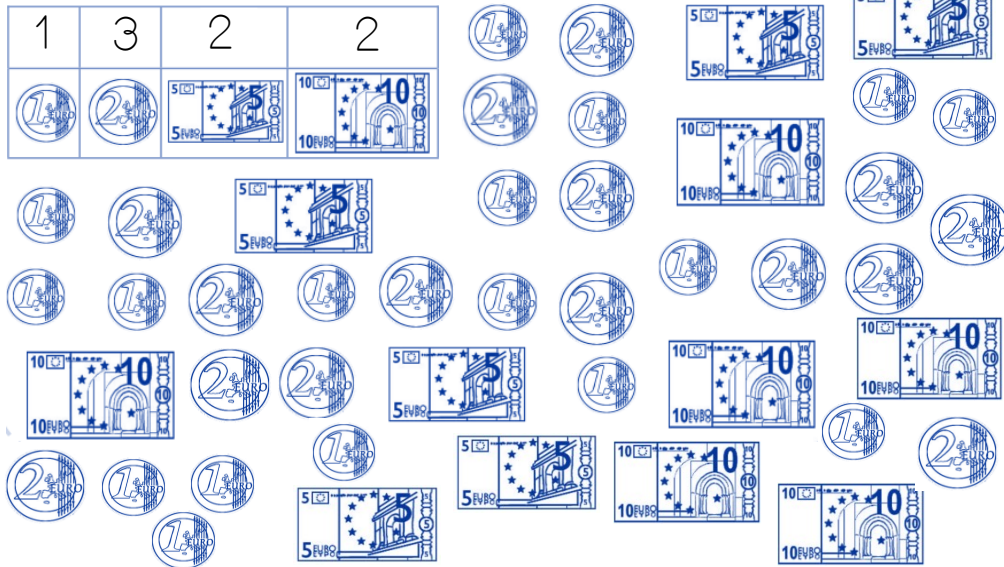
pièces ou billets	Combien de chaque sorte ?	Je dessine en pièces et billets.	Quelle est la valeur ?	
	----		----	----
	----		----	+ ----
	----		----	+ ----
	----		----	+ ----
Quelle est la valeur totale de mon porte-monnaie ?				= ----

Je colorie les pièces et les billets indiqués dans le tableau.



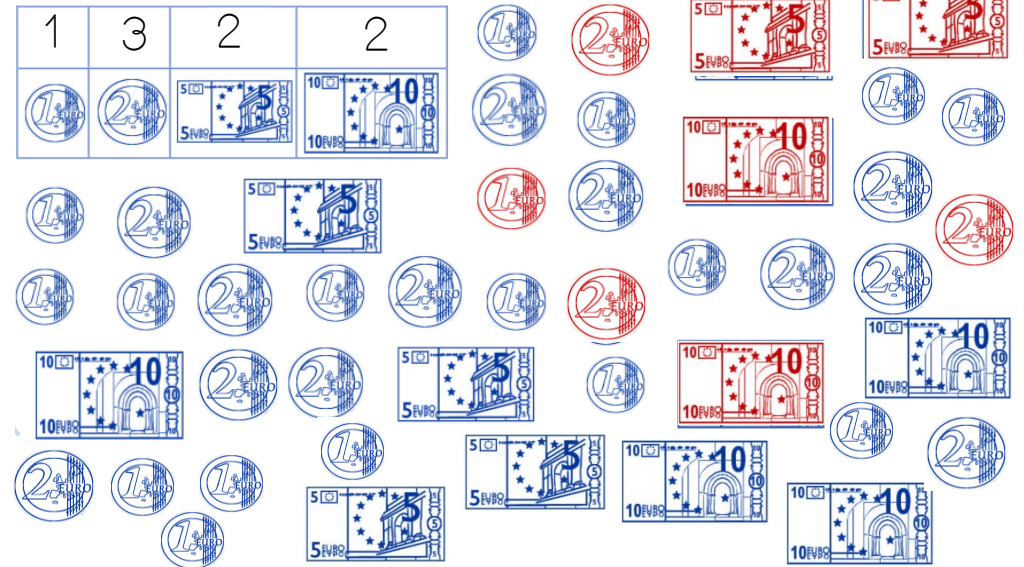
pièces ou billets	Combien de chaque sorte ?	Je dessine en pièces et billets.	Quelle est la valeur ?	
	<u>3</u>		1 + 1 + 1	<u>3</u>
	<u>5</u>		2 + 2 + 2 ----- + 2 + 2	+ <u>10</u>
	<u>2</u>		5 + 5	+ <u>10</u>
	<u>1</u>		10	+ <u>10</u>
Quelle est la valeur totale de mon porte-monnaie ?				= <u>33</u>

Je colorie les pièces et les billets indiqués dans le tableau.



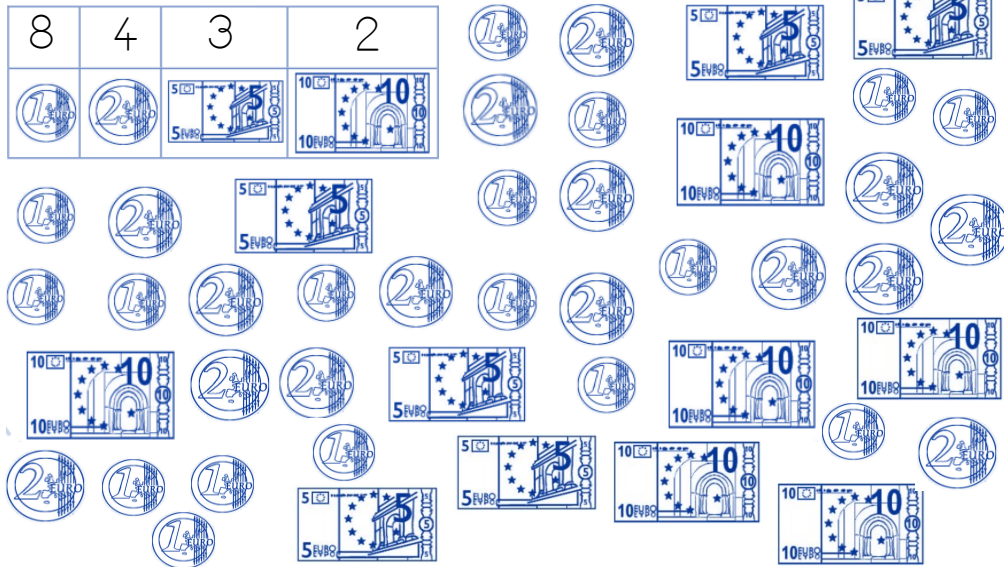
pièces ou billets	Combien de chaque sorte ?	Je dessine en pièces et billets.	Quelle est la valeur ?	
	----		----	----
	----		----	+ ----
	----		----	+ ----
	----		----	+ ----
Quelle est la valeur totale de mon porte-monnaie ?				= ----

Je colorie les pièces et les billets indiqués dans le tableau.



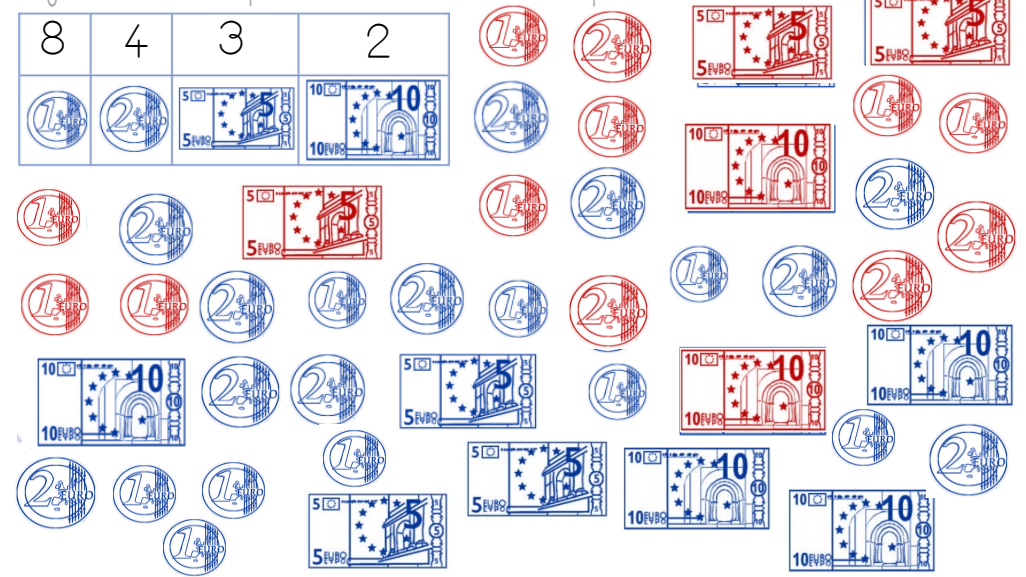
pièces ou billets	Combien de chaque sorte ?	Je dessine en pièces et billets.	Quelle est la	
	<u>1</u>		<u>1</u>	<u>1</u>
	<u>3</u>		2+2+2 ----	+ <u>6</u>
	<u>2</u>		5+5	+ <u>10</u>
	<u>2</u>		<u>20</u>	+ <u>20</u>
Quelle est la valeur totale de mon porte-monnaie ?				= <u>37</u>









Je colorie les pièces et les billets indiqués dans le tableau.



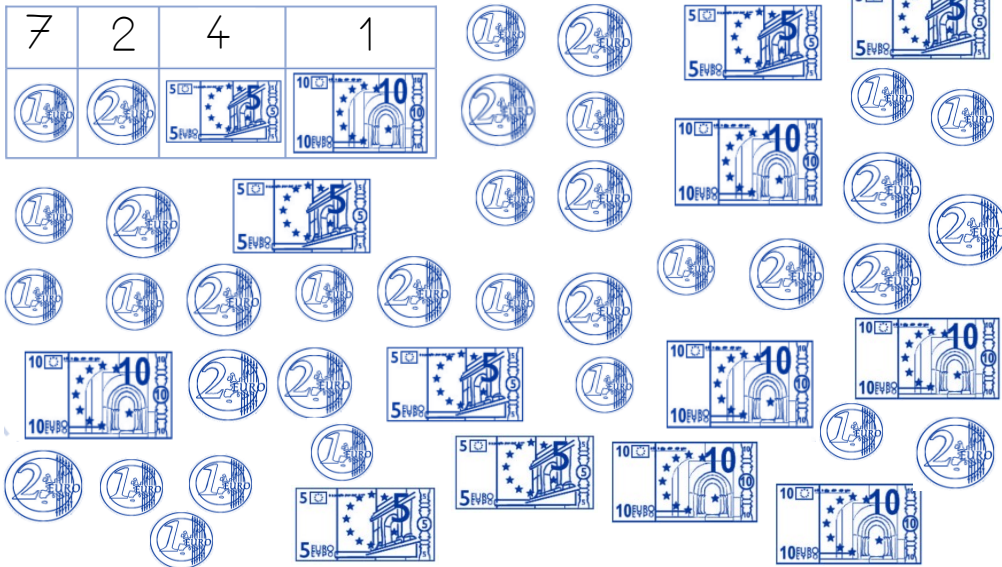
pièces ou billets	Combien de chaque sorte ?	Je dessine en pièces et billets.	Quelle est la valeur ?	
	----		----	----
	----		----	+ ----
	----		----	+ ----
	----		----	+ ----
Quelle est la valeur totale de mon porte-monnaie ?				= ----

Je colorie les pièces et les billets indiqués dans le tableau.



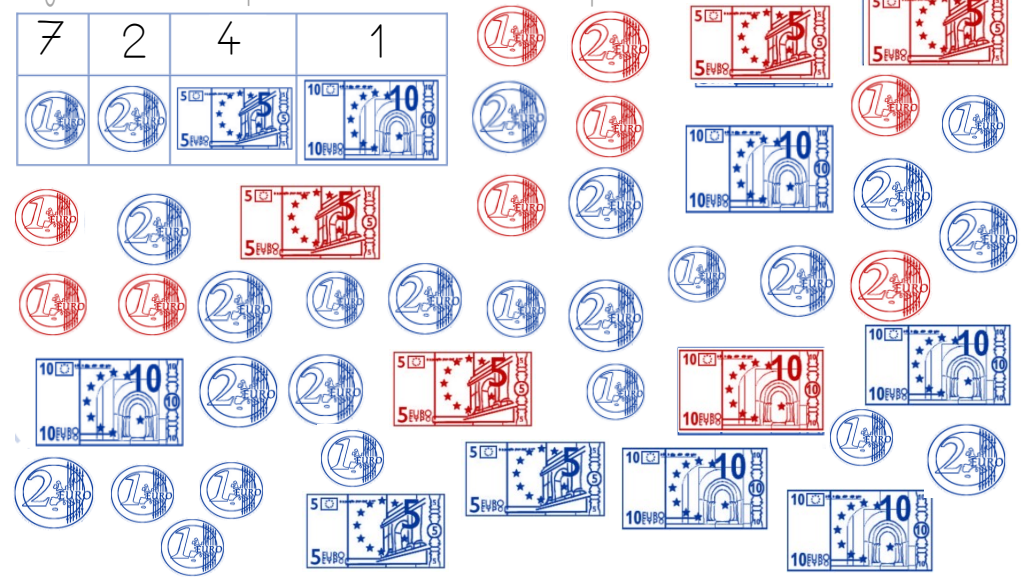
pièces ou billets	Combien de chaque sorte ?	Je dessine en pièces et billets.	Quelle est la valeur ?	
	<u>8</u>		1+1+1+1+ ----- 1+1+1+1	<u>8</u>
	<u>4</u>		2+2+2 ----- +2	+ <u>8</u>
	<u>3</u>		5+5+5	+ <u>15</u>
	<u>2</u>		20	+ <u>20</u>
Quelle est la valeur totale de mon porte-monnaie ?				= <u>37</u>






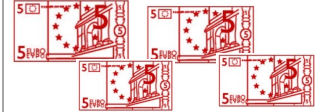


Je colorie les pièces et les billets indiqués dans le tableau.



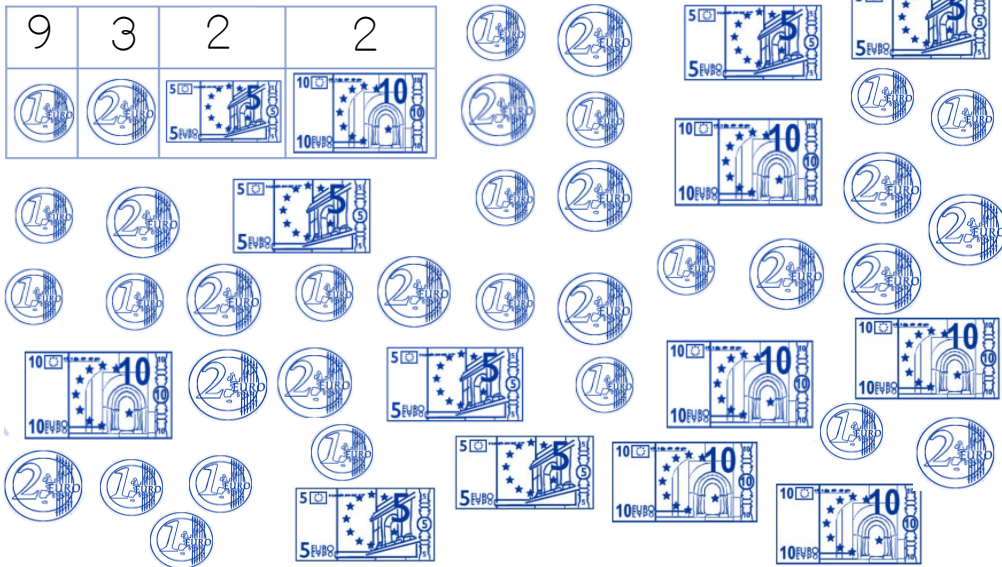
pièces ou billets	Combien de chaque sorte ?	Je dessine en pièces et billets.	Quelle est la valeur ?	
	----		----	----
	----		----	+ ----
	----		----	+ ----
	----		----	+ ----
Quelle est la valeur totale de mon porte-monnaie ?				= ----

Je colorie les pièces et les billets indiqués dans le tableau.



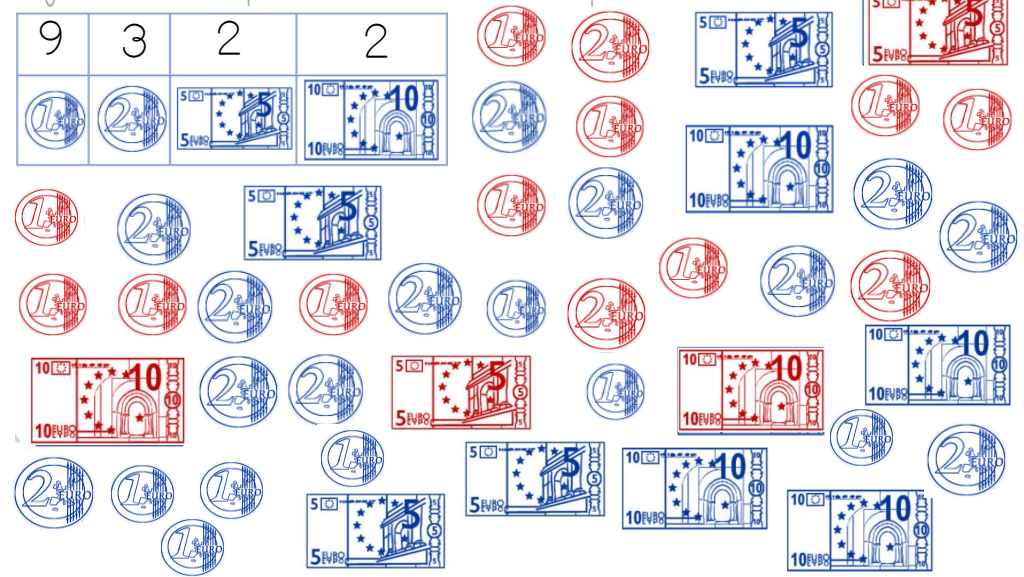
pièces ou billets	Combien de chaque sorte ?	Je dessine en pièces et billets.	Quelle est la valeur ?	
	<u>7</u>		1+1+1+1+1 +1+1	<u>7</u>
	<u>2</u>		2+2	+ <u>4</u>
	<u>4</u>		5+5+ 5+5	+ <u>20</u>
	<u>2</u>		20	+ <u>20</u>
Quelle est la valeur totale de mon porte-monnaie ?				= <u>51</u>









Je colorie les pièces et les billets indiqués dans le tableau.



pièces ou billets	Combien de chaque sorte ?	Je dessine en pièces et billets.	Quelle est la valeur ?	
	---		---	---
	---		---	+ ---
	---		---	+ ---
	---		---	+ ---
Quelle est la valeur totale de mon porte-monnaie ?				= ---

Je colorie les pièces et les billets indiqués dans le tableau.



pièces ou billets	Combien de chaque sorte ?	Je dessine en pièces et billets.	Quelle est la valeur ?	
	<u>9</u>		1+1+1+1+1 +1+1+1+1	<u>9</u>
	<u>3</u>		2+2+2	+ <u>6</u>
	<u>2</u>		5+5	+ <u>10</u>
	<u>2</u>		20	+ <u>20</u>
Quelle est la valeur totale de mon porte-monnaie ?				= <u>45</u>