

Nom :
Prénom :

Date :

Les mesures de longueur

1. Relie


1cm *

*



1m *

*



1dm *

*



2. Complète

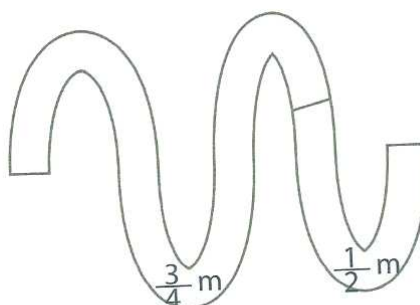

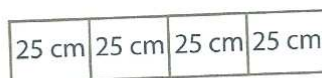
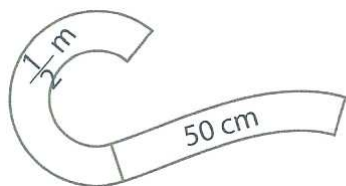
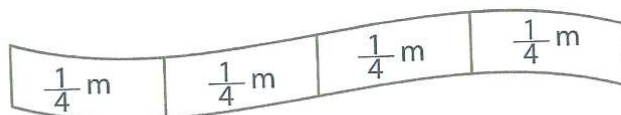
Il faut décimètres pour faire 1 mètre.

Il faut centimètres pour faire 1 décimètre.

Il faut centimètres pour faire 1 mètre.



3. Colorie les guirlandes qui mesurent 1 mètre.



4. Entoure la bonne réponse.

90 dm, c'est un peu moins d'un mètre.

vrai / faux

Un demi-mètre, c'est centimètres.

5 / 50 / 500

Une porte, c'est environ 2 mètres de haut.

vrai / faux

Un centimètre est 10 fois plus petit qu'un décimètre.

vrai / faux

Dans 1 mètre, il y a 100 décimètres.

vrai / faux

5. Place dans l'abaque.

m	dm	cm	mm

14 dm

158 mm

89,5 dm

150,1 cm

6. Calcule

m	dm	cm	mm

1 m 2 dm = dm

253 cm = m + dm + cm

4m = cm

600 cm = dm =m

