


Prénom :

Evaluation de rentrée en CE1







Lecture de mots	/4
Lecture de phrase	/3
Compréhension de texte	/3
Lecture de syllabes	/4
Ecriture de syllabes	/5
Connaissance de sons complexes	/5
Suite de nombres	/2
Rangement de nombres	/3
Résolution de problèmes	/3
Ecriture de nombres chiffrée	/5
Calculs simples	/5
Calcul posé	/3
	/90




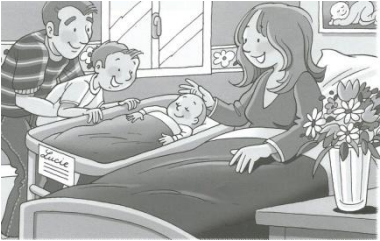

Evaluation de rentrée en CE1



Entoure le mot correspondant au dessin :

<p>boulon bouton</p> <p>bouchon  manche</p> <p>melon mouton</p>	<p>papi babiller</p> <p>patin  pilon</p> <p>papillon papille</p>
<p>course source</p> <p>souricière  sorcière</p> <p>serpillère chaudière</p>	<p>chapeau chaton</p> <p>chameau  gâteau</p> <p>sabot château</p>

Entoure la phrase correspondant au dessin :

	<p>Mamie coud sur son fauteuil. Mamie joue avec les chats. Les chats jouent avec de la laine. Mamie dort sur son fauteuil.</p>
	<p>Ma petite sœur est née. Papa s'est cassé la jambe. Maman est née. Maman dort comme un bébé.</p>
	<p>La maitresse se fâche. Les élèves travaillent à leur bureau.. Les enfants sont assis en rond. Les enfants sont punis dans leur chambre.</p>



Lis le texte et réponds aux questions:

Le lapin sauvage

La lapine peut avoir 4 à 10 petits à la fois.
Les petits naissent sans poils, les yeux fermés.
Ils têtent leur mère.

Le lapin mange de l'herbe et des légumes.
Pour échapper aux renards, aux chasseurs et aux chiens, il se réfugie dans son terrier.



Que mange le lapin?

- de l'herbe
- des vers de terre
- des légumes

Où se cache le lapin?


- derrière les arbres
- dans un terrier
- derrière leur mère


Comment sont les petits quand ils naissent?

Evaluation de rentrée en CE1



Colorie les syllabes qui correspondent au dessin puis écris le mot :











		
gi	ta	ge
pi	ra	fe
une _____		

		
pa	lei	le
ba	té	ne
une _____		

		
car	ta	bel
cra	da	ble
un _____		

		
voi	du	ne
vin	tu	re
une _____		

Ecris les syllabes dictées :

Complète les mots avec les syllabes données:

eau oi on ai ou

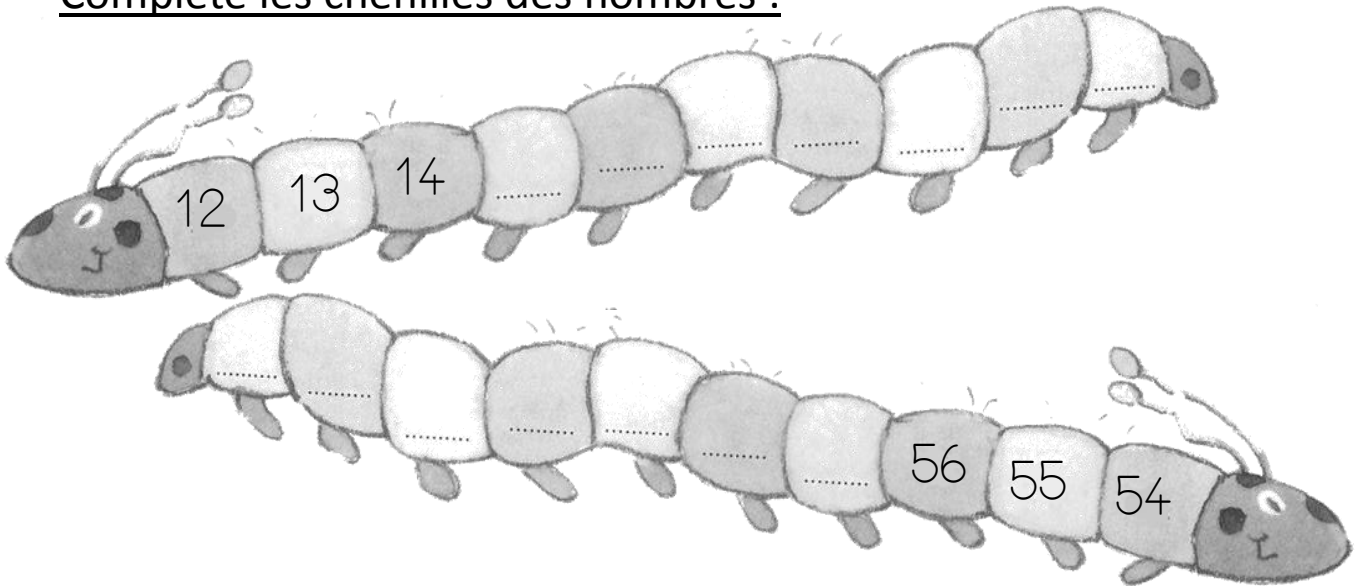


une m _____ son un p _____ ss _____ une p _____ le un chât _____

Evaluation de rentrée en CE1



Complète les chenilles des nombres :



Ecris les nombres du plus petit au plus grand :

56 - 23 - 45 - 51 - 39 - 32

□ □ □ □ □ □

Ecoute bien le problème lu et complète les phrases :

Eric a _____ poissons
dans son aquarium.













Maintenant, Jean a _____
dinosaures dans sa chambre.













Evaluation de rentrée en CE1



Ecris les nombres dictés :

Trouve le résultat des calculs dictés :


				
				

Calcule:

$$\begin{array}{r} 32 \\ + 26 \\ \hline \end{array}$$

$$\begin{array}{r} 27 \\ + 35 \\ \hline \end{array}$$

$$\begin{array}{r} 54 \\ - 23 \\ \hline \end{array}$$



Résoud ce problème :

Le fermier avait 15 poules. Il en a vendu 6. Combien lui en reste-t-il?

Dessin / Calcul

Réponse

