

Prénom : _____




Espace et géométrie : Reconnaître, décrire et nommer les triangles.

CM2

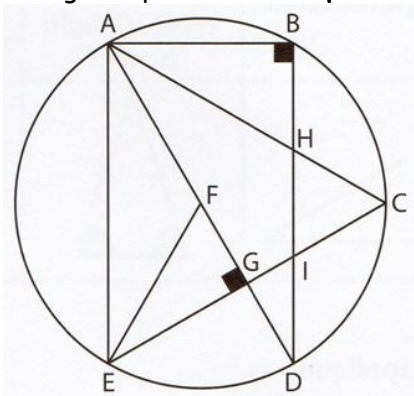
Fiche d'exercices n° 8
Leçon 4

Exercice 1 : Colorie de la bonne couleur.



Triangle équilatéral	Triangle isocèle	Triangle rectangle	Triangle rectangle isocèle
rouge	jaune	bleu	vert

Exercice 2 : Observe cette figure et nomme les 6 triangles rectangles, les 2 triangles isocèles et les 2 triangles équilatéraux. Reproduis ensuite la figure sur une feuille blanche.

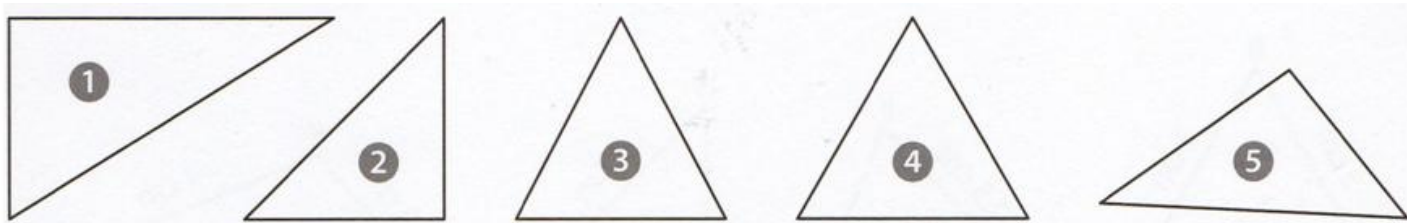


Triangles rectangles : **ABD - AGE - FGE - ACG - ABH - IDG**

Triangles isocèles : **AFE - AHD**

Triangles équilatéraux : **HCI - ACE**

Exercice 3 : Observe les triangles suivants et complète le tableau.



Numéro du triangle	un angle droit	angles égaux	deux côtés de même longueur	trois côtés de même longueur	Nom du triangle
1	1	0	non	non	rectangle
2	1	2	oui	non	rectangle isocèle
3	0	2	oui	non	isocèle
4	0	3	non	oui	équilatéral
5	0	0	non	non	quelconque