

MESURES période 1

**EVALUATIONS
CE2**

/20

Compétences :

1. Mesurer un segment à l'aide d'une règle	A	AR	ECA	NA
2. Tracer un segment d'une longueur donnée	A	AR	ECA	NA
3. Utiliser les unités de longueur : mètre, centimètre et millimètre	A	AR	ECA	NA
4. Utiliser la monnaie	A	AR	ECA	NA

① Mesure les segments suivants.

/5


GH =cm




IJ =mm



KL =cm etmm



MN =cm etmm



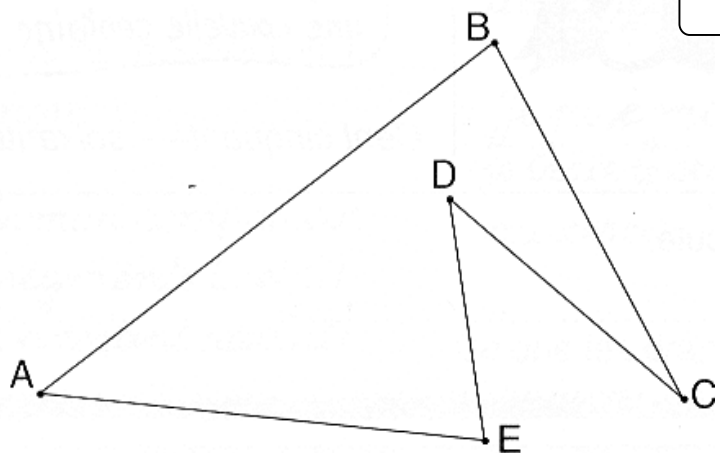
OP =cm etmm



• Complète le tableau.

segments	longueur
EA
CD
.....	76 mm
BC
.....	32 mm

/5



② Trace les segments suivants.

/4

- AB = 9 cm
- CD = 56 mm
- EF = 6 cm et 7 mm.
- GH = 15,8 cm

③ Mets les signes <, >, =.

/2

15 cm 148 mm
153 mm..... 15 cm et 3 mm

13 cm 103mm
16 mm 13 cm et 5 mm

• Complète le texte avec les unités de longueur qui te semblent correctes :

/2

Pour aller aux sports d'hiver, nous avons parcouru 480 (cm – m – km) en voiture.


A l'arrivée, nous avons dû aller à pied jusqu'au chalet, à 150 (cm – m – km) du parking.

Ensuite, nous avons loué des skis. Les miens mesuraient plus d'1 (cm – m – km).

Au bas des pistes, il n'y avait que 20 (cm – m – km) de neige, mais en haut, la couche atteignait 2 (cm – m – km) !

⑥ Ecris combien il y a dans le porte monnaie

/2



..... € c

- Eloïse va à la boulangerie. Elle paye sa baquette 85c. Combien lui reste-t-il dans son porte-monnaie ?

.....