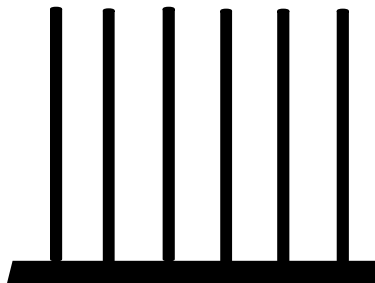


Nombre du jour



Représente avec du matériel de base 10

Décompose le nombre suivant en valeur :

Quel nombre vient :

Avant : _____

Après : _____



Ce nombre contient combien :

D'unité ? _____

De centaine ? _____

De dizaine de mille ? _____

centaine de mille	dizaine de mille	unité de mille	centaine	dizaine	unité



Droite numérique

